

Счёт в пределах 20 с переходом через десяток

Учитель: Мурашова Елена Михайловна

Расположите значение записанных сумм в порядке возрастания

$6+5$	$9+7$	$7+3$	$8+6$	$2+5$
С	А	О	Ж	Б
$9+3$	$6+7$	$8+7$	$4+5$	$5+3$
Н	Е	К	Л	Е







$$10+7$$

$$7+5$$

$$8+3$$

$$6+6$$

$$9+8$$

$$5+6$$

$$4+9$$

$$8+5$$






*Спал цветок и вдруг
проснулся-(туловище вправо
- влево)*

*Больше спать не захотел.
(туловище вперед, назад)*

*Шевельнулся, потянулся,
(руки вверх, потянуться)*

*Взвился вверх и полетел.
(руки вверх, влево, вправо)*

*Солнце утром лишь
проснется, бабочка кружит
и вьется(покружиться)*



- Когда гномы вернулись каждый из них преподнёс ей изумруды и самоцветы. Всего 13 камней. Из них 6 изумрудов. Сколько самоцветов?

Изумрудов – 6
Самоцветов - ?
Всего - 13



**Игра-тренажер по
математике
«Сложение и
вычитание в
пределах 20»**



ПОДУМАЙ

$9+8$





6+5

ПОДУМАЙ



ПОДУМАЙ

7+4



11



12



10



15-8

ПОДУМАЙ

8



7



6



ПОДУМАЙ

$$7+5$$



ПОДУМАЙ

9+6



ПОДУМАЙ

14-7



ПОДУМАЙ

$8+8$



ПОДУМАЙ

6+7



ПОДУМАЙ

13-9



Выйти из
игры



VII. Итог урока.

- - С чем познакомились сегодня на уроке?
- - Какое задание вызвало у вас затруднение?
- - Что было самым интересным?



**СПАСИБО ЗА
УРОК!**