

The background is a deep blue gradient. On the left, there is a large, light blue, multi-pointed star. A bright comet with a long tail is streaking across the upper right portion of the frame. A thin, horizontal green line runs across the lower third of the image. In the bottom right corner, there is a stylized blue shape resembling a lens or a planet with a bright starburst in its center. Another smaller starburst is visible in the bottom left corner.

Урок математики

Решать,

Отгадывать,

смекаать

20+64 (Ш)

38+2 (Е)

7+32 (Р)

60-25 (Н)

54-5 (И)

7+9 (З)

90-2 (А)

77-5 (Д)

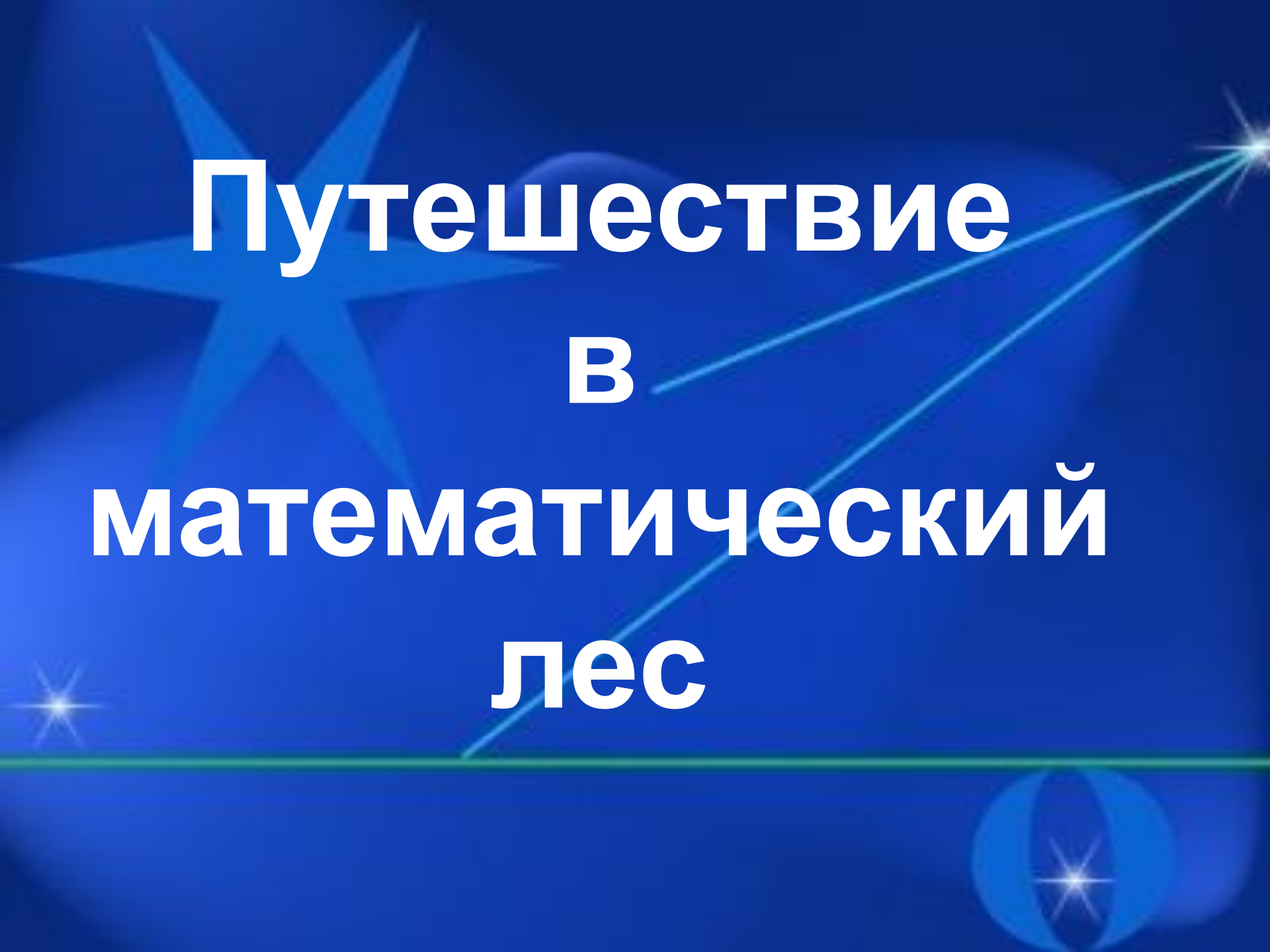
30+40 (У)

Тема урока:

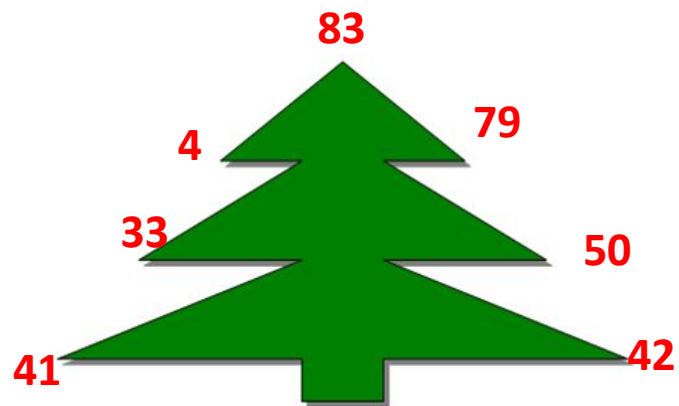
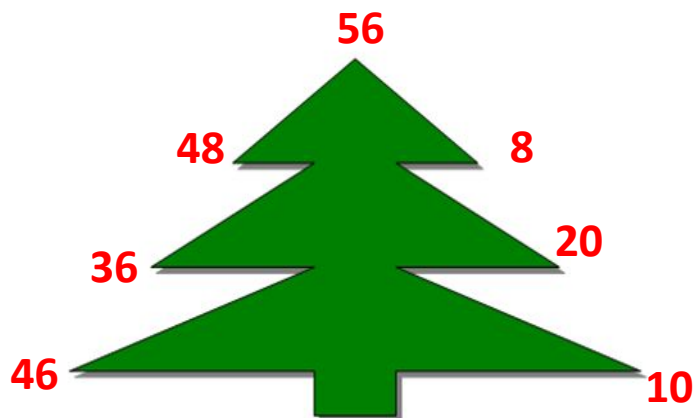
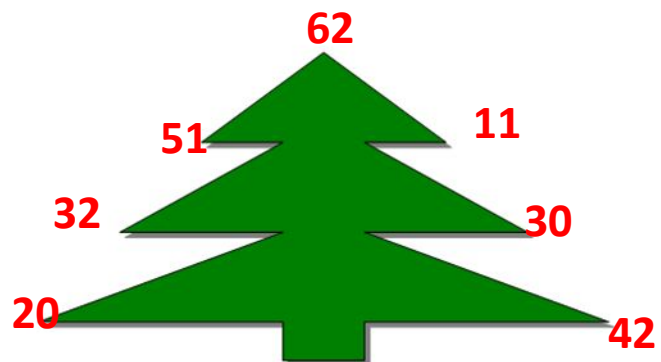
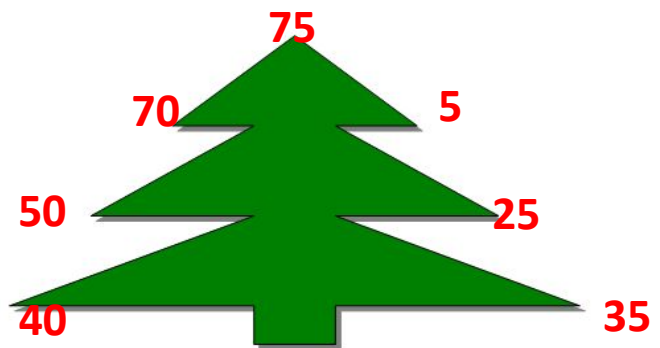
Решение задач

Комбинаторная задача

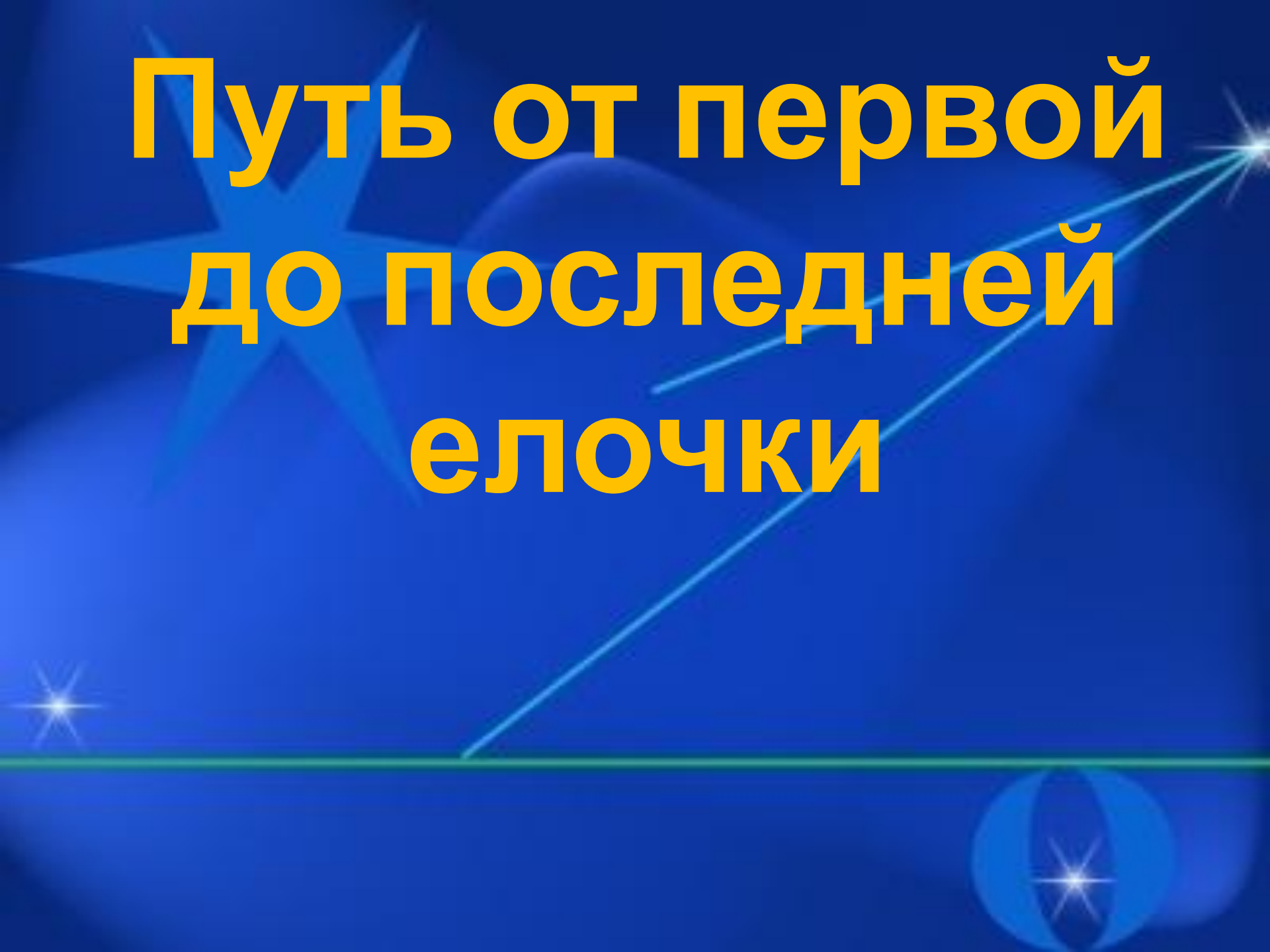
**К двери подошли 3 ребят:
Андрей, Катя и Гриша.
Подумайте, в каком порядке
они могли войти в класс?**



**Путешествие
В
математический
лес**



Путь от первой до последней елочки

The background is a deep blue gradient. On the left, there is a large, multi-pointed star with a bright white center. A comet with a long tail is streaking across the upper right quadrant. In the bottom right corner, there is a stylized planet with a bright spot on its surface. A thin green horizontal line runs across the lower third of the image.

- Обозначьте первую елочку точкой в тетради
- Идите вправо 5 см, это вторая елочка, обозначьте ее точкой
- Идите вниз 4 см, это третья елочка, обозначьте ее точкой
- Идите влево 2 см, это четвертая елочка, обозначьте ее точкой

Физ. минутка

The background is a deep blue gradient. A large, multi-pointed starburst is positioned in the upper left. A bright green horizontal line runs across the middle of the page. A glowing green line starts from the bottom left and extends diagonally upwards towards the top right. Several smaller, bright starbursts are scattered across the background, including one in the bottom right corner.

Задача

Скворец живет 20 лет,
иволга живет на 2 года
больше скворца. А сорока
живет столько лет, сколько
скворец и иволга вместе.
Сколько лет может прожить
сорока?

**Замените
словесную запись
числовой**

Число
разбойников
, врагов Али-
Бабы

40

-

Число
богатырей,
братьев
царевны -
Лебедь

33

=

Число
богатырей
в « Сказке о
мертвой
царевне »

7

**Составьте задачу
по её решению**

$$3 \times 4 = 12 \text{ (л)}$$

Ответ: 12 литров

Задача на смекалку

Летела стая гусей, а навстречу ей
гусак

-Здравствуйте 10 гусей!

-- Нет нас не 10. Если ты был с нами,
да еще 2 гуся, то тогда нас бы было
10 .

Сколько в стае гусей?

Домашнее задание

Стр.56, №3, №5.

Рефлексия



**Спасибо за
Урок!**

Литературные источники

Беденко М.В. «Учим математику с увлечением: 1-4 классы»

Кочергина А. В. «Учим математику с увлечением»

.В. Головач, Ю.К. Бондаренко «Упражнения для устного счета

<http://www.rastut-goda.ru>

Интернет ресурсы: *<http://www.potehechas.ru>*