



Автор: Носкова Марина  
Александровна  
Учитель начальных классов  
МБОУ СОШ № 2  
города Верещагино

 $7+5= 12$

$14-7= 7$

$12-6= 6$


$8+8= 16$

$5+9= 14$

$11-5= 6$

$9+9= 18$

$14-9= 5$




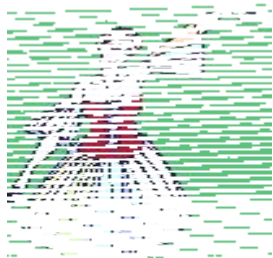
Миша прочитал 15 книг, а Юра – 8 книг. На сколько больше книг прочитал Миша, чем Юра?


Задача.

$$15 - 8 = 7(\text{к.})$$

Ответ: на 7 книг

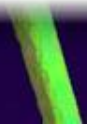
# физминутка





Начерти отрезок длиной 8  
сантиметров.

Второй отрезок начерти  
на 3 сантиметра  
меньше.





9


$$(16-7)+4= 13$$

6

$$10+(11-5)= 16$$

5

$$14-(12-7)= 9$$



На одной ветке сидело 8 синиц, а на другой ветке на 3 синички меньше.

Придумай вопрос, чтобы задача решалась в 2 действия  
Сколько всего синиц сидело на ветках?

**Задача.**

$$(8-3)+8=13(\text{с})$$

Ответ: 13 с.

$$1) 8-3=5(\text{с})$$

$$2) 8+5=13(\text{с})$$

