

Действия с многозначными числами





« Открой окошко »

$$745 : \boxed{1} = 745$$

$$745 * \boxed{0} = 0$$

$$\boxed{0} : 745 = 0$$

$$\boxed{0} + 745 = 745$$

$$745 - \boxed{0} = 745$$

$$\boxed{745} : 745 = 1$$

$$\boxed{745} + 0 = 745$$



Назови порядок действий.

$$32 + 204 * (739 - 147) : 8$$

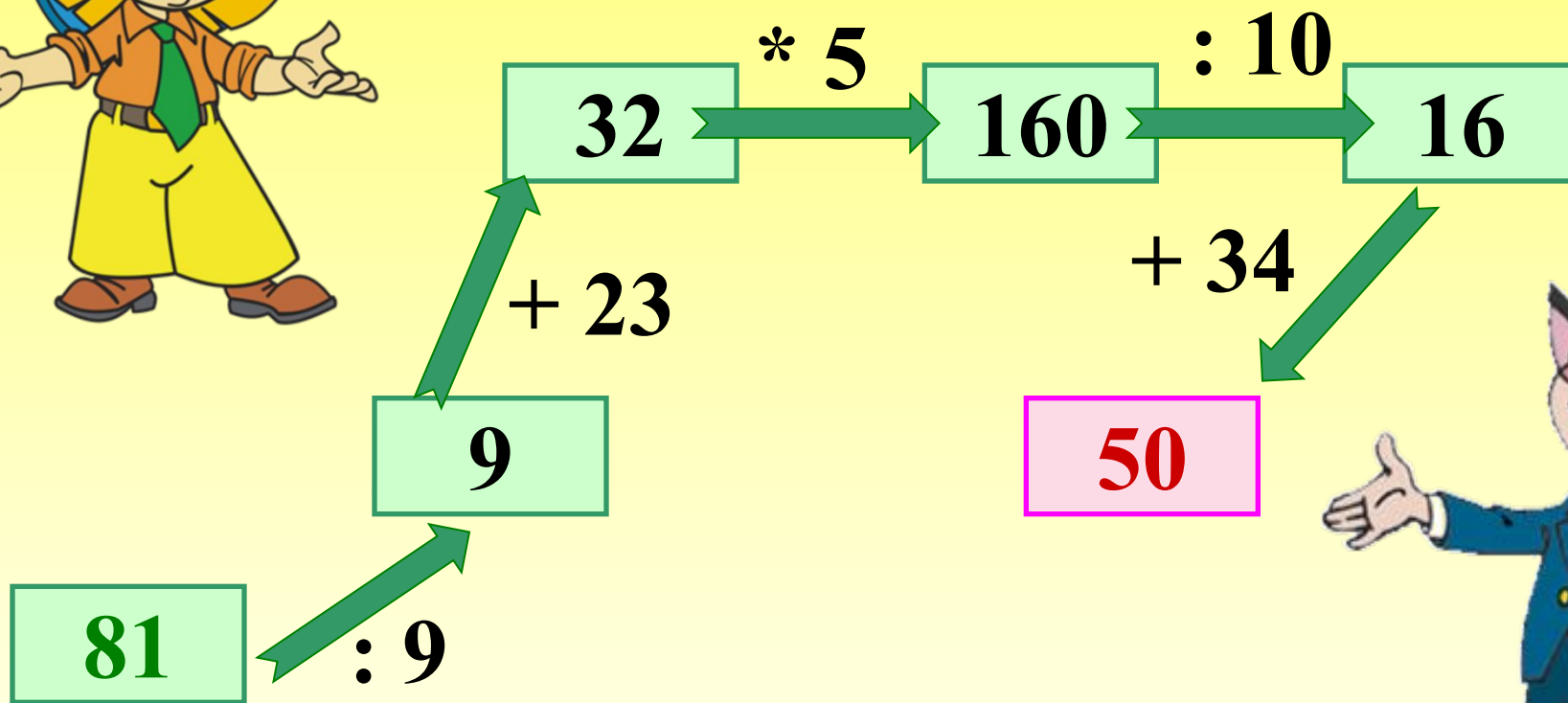
Сложение . 4

Умножение .. 2

Вычитание . 1


Деление .. 3

Заполни схему:



Используя данный
чертеж, заполни
пропуски!

8 см



2 см


Длина прямоугольника 8 см,
а ширина в 4 раз меньше длины.

S прямоугольника 16 см²

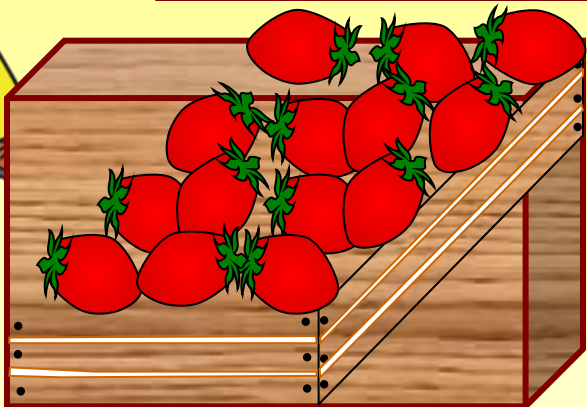
P прямоугольника 20 см.




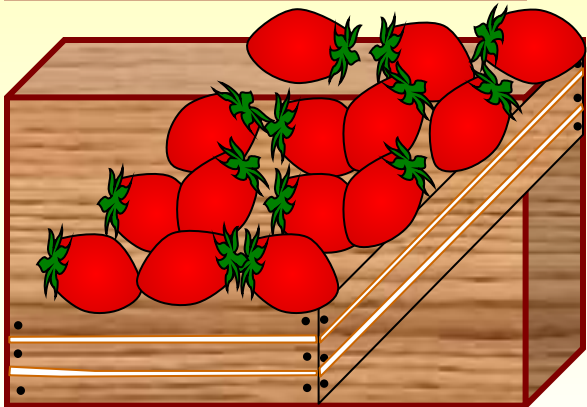
Решите задачу



На 35 кг
больше, чем



На 15 кг
больше, чем



1

1

0

К

Г




Вычислить

$$(326 - 217) * 70 + 4900 : (37 + 33)$$

Проверь себя!

7700



Самостоятельная работа

I вариант

1. Вычислить

а) $39543 \cdot 9 - 39543 \cdot 8 =$

б) $84723 \cdot 0 + 84723 \cdot 1 =$

в) $89 : 1 + 11 : 1 + 56 : 56 =$

2. Задача

В двух пачках 60 тетрадей, причем во второй в 2 раза больше, чем в первой. Сколько тетрадей в каждой пачке?

3. Найди площадь прямоугольника

? В 3 раза больше



4 см

II вариант

1. Вычислить

а) $56798 \cdot 0 + 56798 \cdot 1 =$

б) $24376 \cdot 7 - 24376 \cdot 6 =$


в) $97 : 97 + 78 : 1 + 22 : 1 =$

2. Задача

В двух мешках 80 кг картофеля, причем в первом в 3 раза меньше, чем во втором. Сколько кг картофеля в каждом мешке?

3. Найди периметр прямоугольника

8 см



? В 4 раза меньше

Проверь себя!

I вариант

1. Вычислить

а) 39543

б) 84723

в) 101

2. Задача

20 тетрадей и

40 тетрадей.

3. Задача

$S = 48 \text{ см}^2$

II вариант

1. Вычислить

а) 56798

б) 24376

в) 101

2. Задача

20 кг и

60 кг

3. Задача

$P = 20 \text{ см}$





**Ребята, я расскажу
Вам правдивую
историю!**

Я встал пораньше, в **4 Ч** утра.
Позавтракал плотно, выпил **1 л**
молока. Потом отправился на озеро,
Расстояние до него немалое, **5 км**.
Утром было прохладно, температура
всего **10 градусов** тепла. Поэтому
я шел быстро, со скоростью
6 км / ч Пришел, закинул удочку,
не прошло и **20 минут**,
как я поймал первую рыбку.
Большущую – длиной **50 см**
и весом **3 кг**
Отличная получилась уха!



Домашнее задание




**I группа- №523,№ 361(а ,
б)**

**II группа и III группа
№528,441**

**Придумай свою
«правдивую» историю...**



Сколько
треугольников на
чертеже?



10

9

13

12



*Спасибо за
внимание!*

