


**ЧИСЛА, ПОЛУЧЕННЫЕ
ПРИ ИЗМЕРЕНИИ.
(ТЕХНОЛОГИЯ ПРИГОТОВЛЕНИЯ
ПЕРВЫХ БЛЮД).**

Интегрированный урок


МАТЕМАТИКА + СБО 7 «А» класс

12.10.12

**учителя Афонина Н.В.,
Алексеева В.Н.**










8

*Сколько треугольников
изображено на рисунке?*




2. Как можно назвать одним словом все фигуры, изображенные на рисунке?

четырехугольники

пятиугольники

многоугольники



**3. Сколько сантиметров
содержится в 3 дм?**

300 см

3000 см

30 см

**3. Сколько сантиметров
содержится в 3 дм?**

$$3 \text{ дм} = 30 \text{ см}$$

4. Какой знак надо поставить
вместо точек, чтобы запись
16 см ... 6 дм стала верной?

>

<

=

4. Какой знак надо поставить вместо точек, чтобы запись *16 см ... 6 дм* стала верной.

$$16 \text{ см} < 6 \text{ дм}$$

**5. Какое число надо записать
в «ОКОШКО», чтобы равенство
7 дм 4 см = *см* стало верным?**

704

7004

74

**5. Какое число надо записать
в «ОКОШКО», чтобы равенство
7 дм 4 см = *см* стало верным?**

$$7 \text{ дм } 4 \text{ см} = 74 \text{ см}$$

**6. Чему равна длина ломаной,
если длина её звеньев
5 см, 2 см и 6 см?**

13 см

11 см

7 см

**6. Чему равна длина ломаной,
если длина её звеньев
5 см, 2 см и 6 см?**

13 см

**7. Длина одного отрезка 8 см,
а длина другого отрезка 12 см.
На сколько первый отрезок
короче второго?**

на 4 см

на 3 см

на 20 см

**7. Длина одного отрезка 8 см,
а длина другого отрезка 12 см.
На сколько первый отрезок
короче второго?**

на 4 см

**8. Сколько граммов
в 4 килограммах?**

4 000 г

400 г

40 г

**8. Сколько граммов
в 4 килограммах?**

$$4 \text{ кг} = 4\,000 \text{ г}$$

9. Какой знак надо поставить
вместо точек, чтобы запись
8 руб. ... 180 коп. стала верной?

<

>

=

9. Какой знак надо поставить вместо точек, чтобы запись *8 руб. ... 180 коп.* стала верной?

8 руб. > 180 коп.

**10. Какое число надо записать
в «окошко», чтобы равенство**

8 руб. 6 коп. = коп.
стало верным?

860

86

806

10. Какое число надо записать
в «окошко», чтобы равенство

$$8 \text{ руб. } 6 \text{ коп.} = \boxed{} \text{ коп.}$$

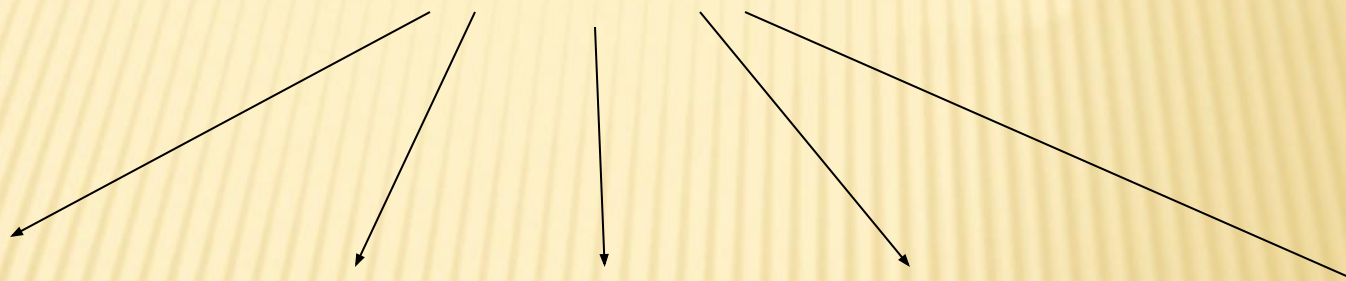
стало верным?

$$8 \text{ руб. } 6 \text{ коп.} = 806 \text{ коп.}$$



По технологии приготовления супы можно классифицировать следующим образом:

Суп



**Заправочные
супы
(щи, борщи)**

**прозрачные
(бульоны)**

супы-пюре

**холодные и сладкие
(окрошка)**

молочные









**Расту в земле на грядке я,
красная, длинная,
сладкая. (...)**



**И зелен, и густ
На грядке вырос куст,
Покопал немножко
Под кустом...(...)**




**Прежде чем его мы съели,
Все наплакаться успели
(...).**



**Уродилась я на славу,
Голова белая, кудрява.
Кто любит щи –
Меня в них ищи... (...)**



**Они гроздьями висят
И на солнышко глядят,
Цветом словно светофор
Красный, жёлтый ...**



**Меня не едят,
А без меня мало едят.**

**В воде рождается,
Но воды боится.**



СЛАВ

СОЛЬ



Полученная
из морской
и каменной

1,5 кг

СОЛЬ

СЛАВ







ВЫМЫТЬ



ОЧИСТИТЬ



НАРЕЗАТЬ



ПАССЕРОВАТЬ



ОПУСТИТЬ В КИПЯЩИЙ
БУЛЬОН



ВАРИТЬ



ЗАПРАВИТЬ



ДОБАВИТЬ



Помоги сделать необходимые покупки.

Посчитай, сколько денег надо заплатить, чтобы приготовить щи.

Продукт	Сколько нужно семье	Цена за 1 кг (р.)	Сумма
Капуста	500 г	10 руб.	
Морковь	100 г	10 руб.	
Картофель	500 г	20 руб.	
Лук	100 г	10 руб.	
Помидоры	100 г	30 руб.	

Ответ: рублей заплатили за продукты.

Помоги сделать необходимые покупки.

Посчитай, сколько денег надо заплатить, чтобы приготовить щи.

Продукт	Сколько нужно семье	Цена за 1 кг (р.)	Сумма
Капуста	500 г = $\frac{1}{2}$ кг	10 руб.	
Морковь	100 г = $\frac{1}{10}$ кг	10 руб.	
Картофель	500 г = $\frac{1}{2}$ кг	20 руб.	
Лук	100 г = $\frac{1}{10}$ кг	10 руб.	
Помидоры	100 г = $\frac{1}{10}$ кг	30 руб.	

Ответ: рублей заплатили за продукты.

Помоги сделать необходимые покупки.

Посчитай, сколько денег надо заплатить, чтобы приготовить щи.

Продукты	Сколько нужно семье	Цена за 1 кг (р.)	Сумма
Капуста	500 г	10 руб.	5 руб.
Морковь	100 г	10 руб.	1 руб.
Картофель	500 г	20 руб.	10 руб.
Лук	100 г	10 руб.	1 руб.
Помидоры	100 г	30 руб.	3 руб.

Ответ: 20 рублей заплатили за все продукты.





**Овощи не только очень
вкусные,
но и полезные продукты.
В них много витаминов и
полезных
веществ, которые позволяют
сохранить
ваше здоровье
и помочь,
если вы заболели.**



СПАСИБО

ЗА

ВНИМАНИЕ!

Желаем Вам
успехов в учёбе!
2012г.

5 5 5 5 5 5 5 5 5