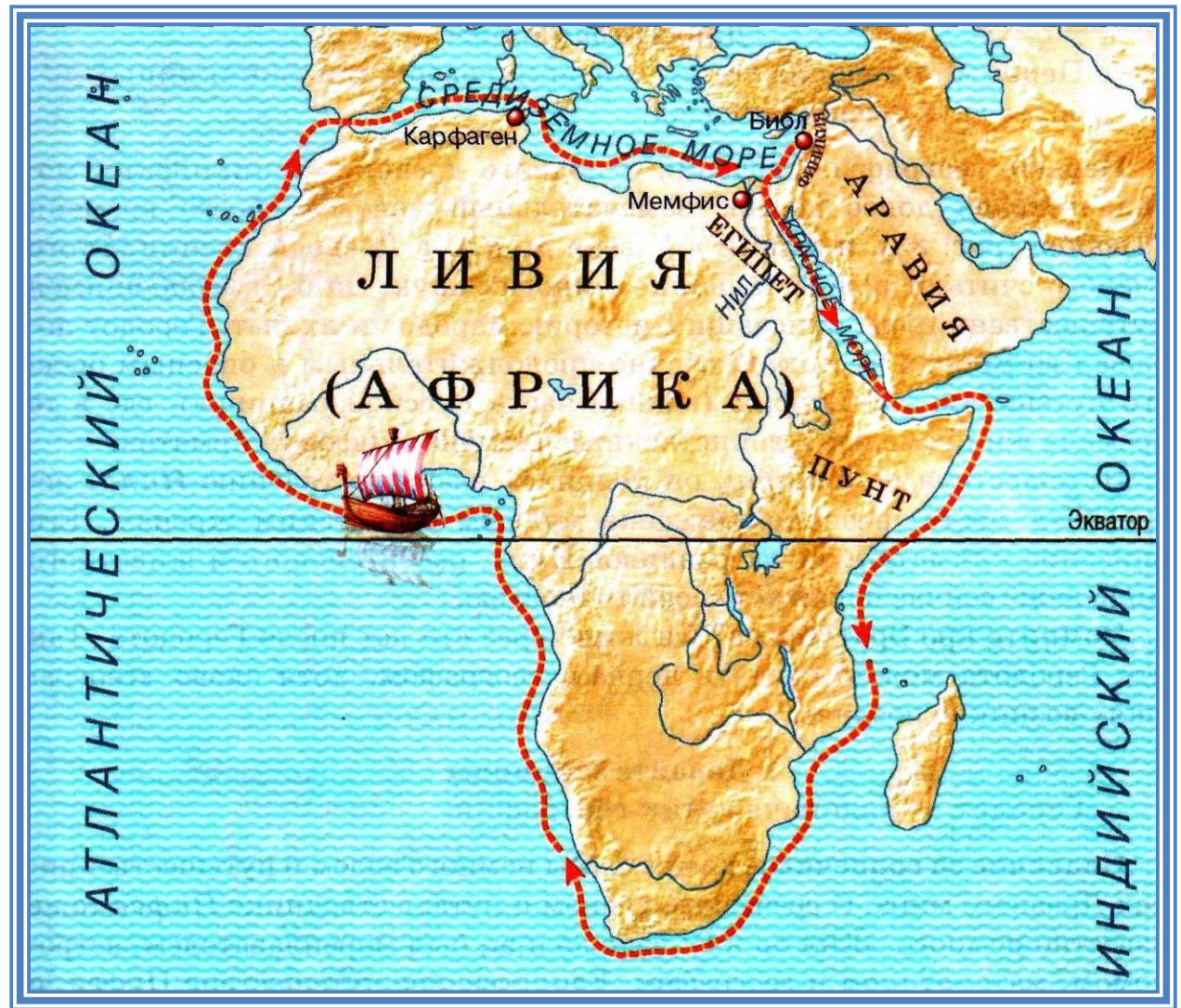


Путешественники древности




Финикийцы жили на восточном побережье Средиземного моря, где создали ряд торговых городов-государств, из которых наиболее известны Тир и Сидон. Название «финикийцы» моряки получили потому, что отправляясь в дальнее морское плавание, в качестве путевого запаса брали с собой сушеные финики. Это название было перенесено затем на весь народ.





Египетский фараон Нехо II поручил финикийцам узнать, велика ли страна Ливия (Африка). Плавание длилось почти 3 года.



Геродот

между 490 — ок. 425 г. до н. э.

**В V веке до н.э.
ученый грек
Геродот
посещает Египет,
Ливию, Эфиопию,
Финикию, Аравию,
Вавилонию,
Персию, Мидию,
Колхиду,
Каспийское море,
Скифию и Фракию.
Свои наблюдения
он изложил в
«Истории».
Описал земли и
народы, поэтому
по праву
Геродота
называют
«отцом истории и
географии».**



Скифы сыграли чрезвычайно большую роль в исторических судьбах многих народов нашей страны и внесли огромный вклад в сокровищницу мировой




Статуя Пифея в Марселе

**года до н. э. плавал
вокруг Британии, а
также побережья
Балтийского моря.**

**Британию он
описал как
треугольный
остров и посчитал
размеры его
сторон .**

**Он был первым
греком, описавшим
полярный день,
полярное сияние и**

Плавание Пифея (Питея) (IV век до н.э.)



1. Родоначальником географии как науки считают

Эратосфена

а

Пифагора

б

Геродота

в

ВЫХОД

Следующий вопрос

2. Народ, совершивший первое путешествие
вокруг Ливии (Африки), - это

греки

а

финикийцы

б

египтяне

в

ВЫХОД

Следующий вопрос

6. Мореплаватель Пифей в IV веке н.э.
совершил плавание по маршруту

Средиземное море - Атлантический океан

а

Средиземное море - Северное море

б

Средиземное море - Гибралтарский
пролив

в

ВЫХОД

Следующий вопрос

8. Назовите географические объекты, связанные с плаванием Пифея.

Средиземное море

а

Британские острова

б

Индийский океан

в

Северное море

г

ВЫХОД

Следующий вопрос

10. Расставьте путешествия в порядке от самого раннего к самому позднему.

путешествие финикийцев

а

путешествие Пифея

б

путешествие Геродота

в

ВЫХОД

Домашнее задание:

***§8, подпишите на контурной
карте названия всех
географических объектов,
упомянутых в тексте параграфа***