

Тема:

РАВНИНЫ СУШИ



Как угрюмый кошмар исполина,
Поглотивший луга и леса,
Без конца протянулась равнина
И краями ушла в небеса.
И краями пронзила пространство,
И до звезд прикоснулась вдали,
Затенив мировое пространство
Монотонной печалью земли.

К.Бальмонт

***Назовите главное отличие гор от
равнин***



Попробуйте сами сказать, что такое «равнина»



Игра «Проверь себя!»

«Узнай
меня» -
(терминология)

«Найди меня» –
(работа с
картой)

«Ты мне, а
я тебе!» -
(вопросы
друг другу)

«Найди
связь
между
мной и
тобой»

Найдите соответствие между географическими объектами: горная система – часть света.

- | | |
|-----------------|------------|
| 1. Анды | а. Европа |
| 2. Альпы | б. Азия |
| 3. Гималаи | в. Америка |
| 4. Килиманджаро | г. Африка |

Ключ

1 – в

2 – а

3 – б

4 – г



***Равнины – это участки
земной поверхности,
на которых перепады
относительных высот не
превышают 500м.***

***По характеру рельефа
выделяют следующие виды
равнин:***

• **Плоские**



• **Холмистые**



*По абсолютной высоте
выделяют три группы равнин:*



•Низменность (0-200м)



•Возвышенность (200-500м)

(200-500м)



•Плоскогорье (500-1000м)

(500-1000м)

Определите каким цветом на физической карте показаны равнины:

- **Западно – Сибирская равнина**

(зеленый цвет)

- **Среднерусская возвышенность**

(желтый цвет)

- **Среднесибирское плоскогорье**

(оранжевый цвет)

Определите лишнее понятие

- Западно-Сибирская
- Амазонская
- Восточно-Европейская
- Кордильеры
- Среднесибирское


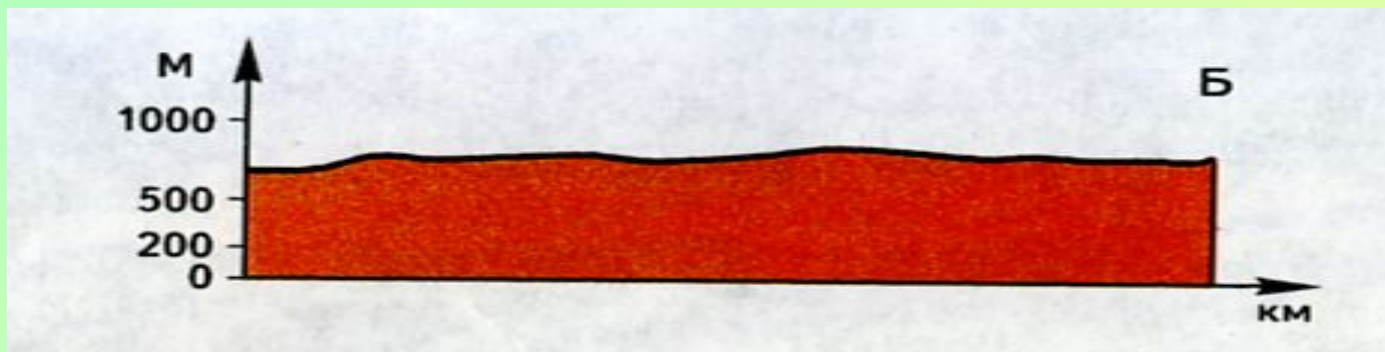

План описания ГП равнин

1. Название, вид равнины по абсолютной высоте;
2. Географическое положение:
 - На каком материке;
 - Направление и протяженность;
 - Как расположена равнина относительно других объектов.

Проблемный вопрос

*Как изменяются равнины
во времени?*

Определите, какой вид равнин изображен на профиле



Ключ к профилю

А – низменность;

Б – плоскогорье;

В - возвышенность.

Задание на выбор:

1. Выполнение теста;
2. Заполнение таблицы.

Что я зная	Что я узнал
1.	1.
2.	2.
3.	3.

Ключ к тесту

1. – 2

2. - 4

3. - 1

4. - 6

5. - 3

6. - 5

Таблица количества баллов

Сумма баллов	Уровень	Оценка
16 б. и выше	высокий	«5»
12 б. – 15 б.	средний	«4»
8 б. - 11 б.	низкий	«3»
0 б. - 7 б.	<i>Неусвоение программы</i>	

Домашнее задание

1. Нанести на контурную карту:
 - Восточно – Европейскую равнину
 - Западно – Сибирскую равнину
 - Амазонскую низменность
 - Среднерусскую возвышенность
 - Среднесибирское плоскогорье
2. Составить кроссворд по теме «Рельеф»
3. Составить описание рельефа своей местности по плану.

