


Игра по станциям

1 класс



**□ РАНЬШЕ КУРАНТЫ
ПЕТРОПАВЛОВСКОГО СОБОРА
ИСПОЛНЯЛИ МЕЛОДИЮ
ГОСУДАРСТВЕННОГО ГИМНА В 6 ,
12, 18, 24 ЧАСА. ЧЕРЕЗ КАКОЙ
ИНТЕРВАЛ ВРЕМЕНИ
ПОВТОРЯЛАСЬ МЕЛОДИЯ?**



**▣ ВЫЧИСЛИ ЗНАЧЕНИЯ ВЫРАЖЕНИЙ,
РАСШИФРУЙ КОД И УЗНАЙ
ФАМИЛИЮ АРХИТЕКТОРА – АВТОРА
ЗДАНИЯ НЫНЕШНЕГО
АДМИРАЛТЕЙСТВА.**

$$32-30=A$$

$$50+9=P$$

$$26-6=O$$

$$5+3=3$$

$$8-4=B$$

$$9-3=X$$

**□ ПОСЛЕДНЕЕ ВРЕМЯ ЛЕТНИЙ САД
УКРАШАЛИ 89 СТАТУЙ. 9 ИЗ НИХ
ОТВЕЗЛИ НА РЕСТАВРАЦИЮ.
СКОЛЬКО СТАТУЙ ОСТАЛОСЬ?**

Игра по станциям




2 класс

**□ ПОСЛЕДНЕЕ ВРЕМЯ ЛЕТНИЙ САД
УКРАШАЛИ 89 СТАТУЙ. 9 ИЗ НИХ
ОТВЕЗЛИ НА РЕСТАВРАЦИЮ.
СКОЛЬКО СТАТУЙ ОСТАЛОСЬ?**

□ ПОЧТИ ПОЛТОРА ВЕКА НАЗАД НАШ ГОРОД РАСПОЛАГАЛСЯ НА 101 ОСТРОВЕ. СО ВРЕМЕНЕМ ПРИ ПРОКЛАДКЕ УЛИЦ МНОГИЕ РЕКИ, ПРОТОКИ, РУЧЬИ ЗАСЫПАЛИ. СЕЙЧАС В ПЕТЕРБУРГЕ 42 ОСТРОВА. СКОЛЬКО ОСТРОВОВ ИСЧЕЗЛО ПРИ СТРОИТЕЛЬСТВЕ УЛИЦ?

**□ ДЛИНА РЕКИ НЕВЫ ПОЧТИ 75
КИЛОМЕТРОВ, А РЕКА КАРПОВКА
ИМЕЕТ ПРОТЯЖЕННОСТЬ ВСЕГО 5
КИЛОМЕТРОВ. НА СКОЛЬКО
КИЛОМЕТРОВ ДЛИНА КАРПОВКИ
МЕНЬШЕ НЕВЫ?**



**▣ ВЫЧИСЛИ ЗНАЧЕНИЯ ВЫРАЖЕНИЙ,
РАСШИФРУЙ КОД И УЗНАЙ
ФАМИЛИЮ АРХИТЕКТОРА – АВТОРА
ЗДАНИЯ НЫНЕШНЕГО
АДМИРАЛТЕЙСТВА.**

$$87-30=X$$

$$58+4=O$$

$$46+51=B$$

$$91-6=P$$

$$19-6=A$$

$$37-13=3$$

Игра по станциям




3 класс

**▣ ОБЗОРНАЯ ЭКСКУРСИЯ ПО
ЭРМИТАЖУ ДЛИТСЯ 3 ЧАСА, А
ЭКСКУРСИЯ ПО РУССКОМУ МУЗЕЮ –
120 МИНУТ. КАКАЯ ЭКСКУРСИЯ
ЗАЙМЕТ БОЛЬШЕ ВРЕМЕНИ И НА
СКОЛЬКО?**

▣ ПЕТР 1 НЕ ЖАЛЕЛ СРЕДСТВ ДЛЯ УСТРОЙСТВА ЛЕТНЕГО САДА. СО ВСЕХ КОНЦОВ ГОСУДАРСТВА ПРИСЫЛАЛИ САЖЕНЦЫ ЛИПЫ, ПИХТЫ, ЕЛИ, ДУБА, КАШТАНА И ЛИСТВЕННИЦЫ. ЗАМЕНИ СУММУ ПРОИЗВЕДЕНИЕМ И УЗНАЕШЬ, СКОЛЬКО ДЕРЕВЬЕВ БЫЛО ВЫСАЖЕНО В ЛЕТНЕМ САДУ.

□ ДЛИНА РЕКИ НЕВЫ ПОЧТИ 75 КМ, А РЕКА КАРПОВКА ИМЕЕТ ПРОТЯЖЕННОСТЬ ВСЕГО 5 КМ. ВО СКОЛЬКО РАЗ ПРОТЯЖЕННОСТЬ НЕВЫ БОЛЬШЕ?

□ С 1706 ГОДА В ПЕТЕРБУРГЕ РАБОТАЛ ПРИЕХАВШИЙ ИЗ ШВЕЙЦАРИИ Д.ТРЕЗИНИ. В 1734 ГОДУ ОН УМЕР. СКОЛЬКО ЛЕТ ПРОРАБОТАЛ Д.ТРЕЗИНИ В РОССИИ?



Игра по станциям



4 класс

- ▣ **АЛЛЕИ ЛЕТНЕГО САДА УКРАШАЛИ В ТЕ ВРЕМЕНА НЕ ТОЛЬКО ЦВЕТНИКИ И СКУЛЬПТУРЫ, НО И БЕСЕДКИ, ГРОТЫ, ПРУДЫ С ЗОЛОТЫМИ РЫБКАМИ И, КОНЕЧНО ЖЕ, ФОНТАНЫ. ЗАПИШИ ВЫРАЖЕНИЕ, ВЫЧИСЛИ ЕГО ЗНАЧЕНИЕ И УЗНАЕШЬ, СКОЛЬКО ФОНТАНОВ БЫЛО В ЛЕТНЕМ САДУ:
ЧАСТНОЕ ЧИСЕЛ 75 И 15 УВЕЛИЧИТЬ В 2 РАЗА.**

**□ В ЗИМНЕМ ДВОРЦЕ
НАСЧИТЫВАЕТСЯ 1086 ДВЕРЕЙ,
ЭТО НА 36 БОЛЬШЕ, ЧЕМ КОМНАТ И
НА 859 МЕНЬШЕ, ЧЕМ ОКОН.
СКОЛЬКО В ЗИМНЕМ ДВОРЦЕ
КОМНАТ? ОКОН?**

- ▣ САМЫЙ ДЛИННЫЙ КАНАЛ В ПЕТЕРБУРГЕ – ОБВОДНОЙ. ЕГО ПРОТЯЖЕННОСТЬ ОКОЛО 8 КМ, А ОДИН ИЗ САМЫХ КОРОТКИХ – ЗИМНЯЯ КАНАВКА – 508 М.

ВЫРАЗИ В ОДИНАКОВЫХ МЕРАХ И СРАВНИ ДЛИНЫ:

ЗИМНЯЯ КАНАВКА - ...ДМ = ...М

ОБВОДНОЙ КАНАЛ - ...КМ = ...М

□ ДЛИНА РЕКИ НЕВЫ ПОЧТИ 75 КМ, А РЕКА КАРПОВКА ИМЕЕТ ПРОТЯЖЕННОСТЬ ВСЕГО 5 КМ. ВО СКОЛЬКО РАЗ ПРОТЯЖЕННОСТЬ НЕВЫ БОЛЬШЕ, НА СКОЛЬКО ДЛИНА КАРПОВКИ МЕНЬШЕ НЕВЫ?

