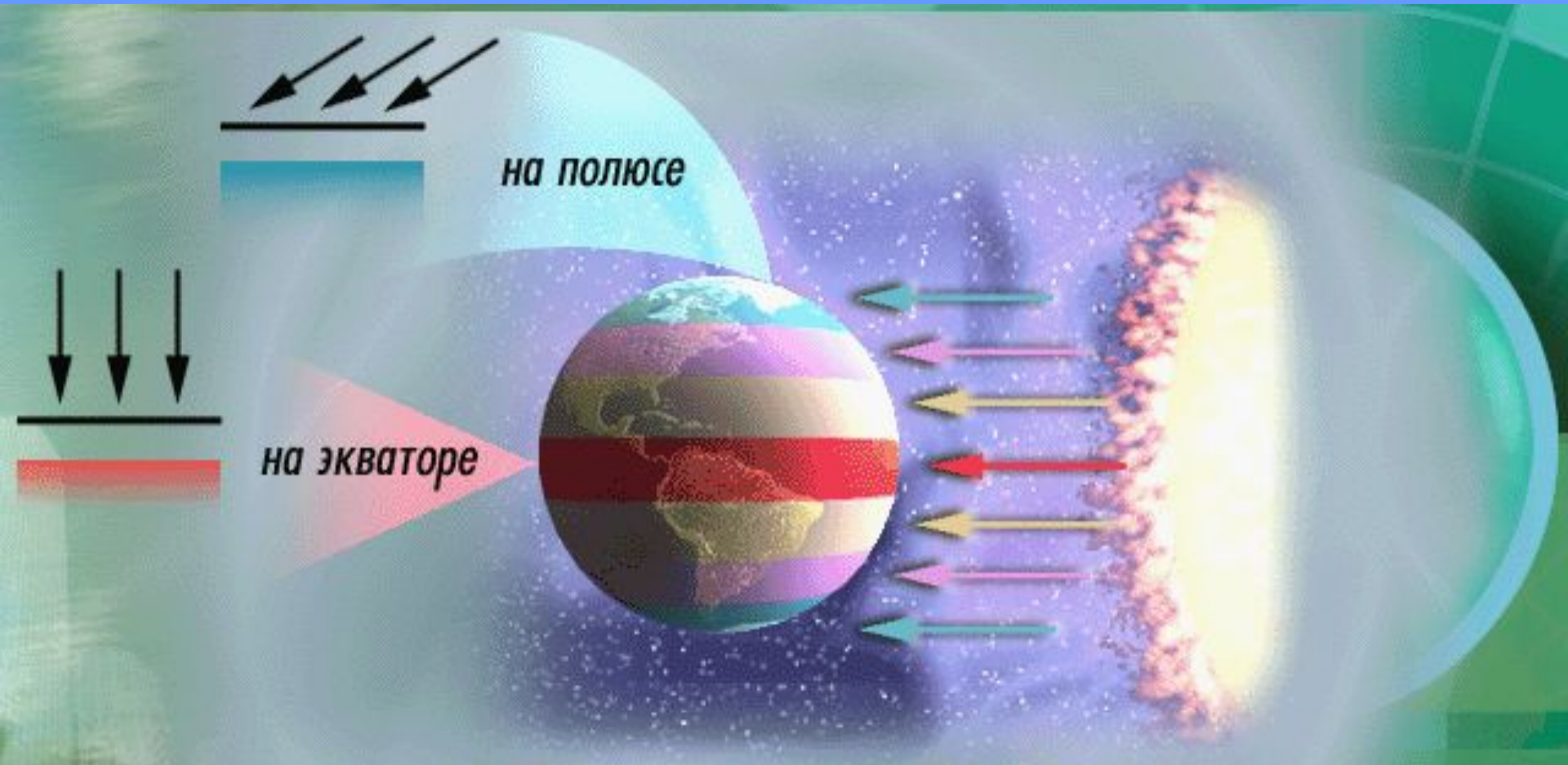


Температура воздуха

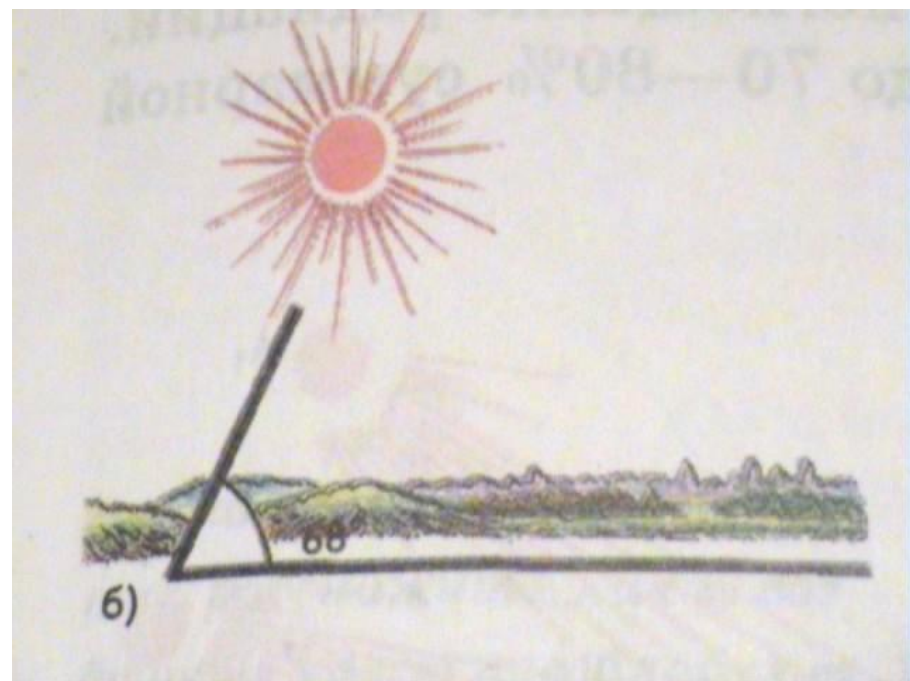
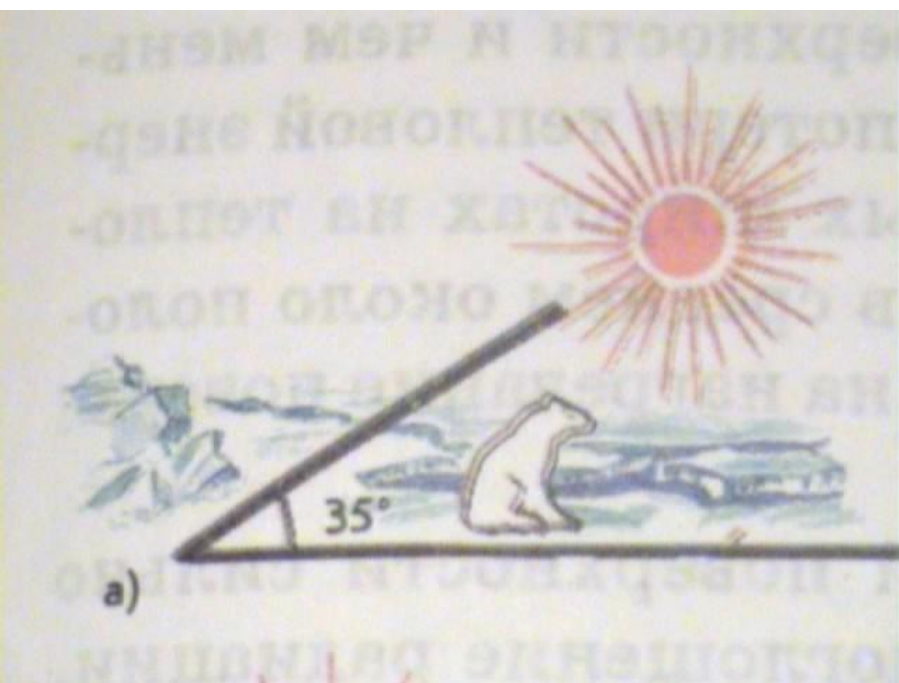




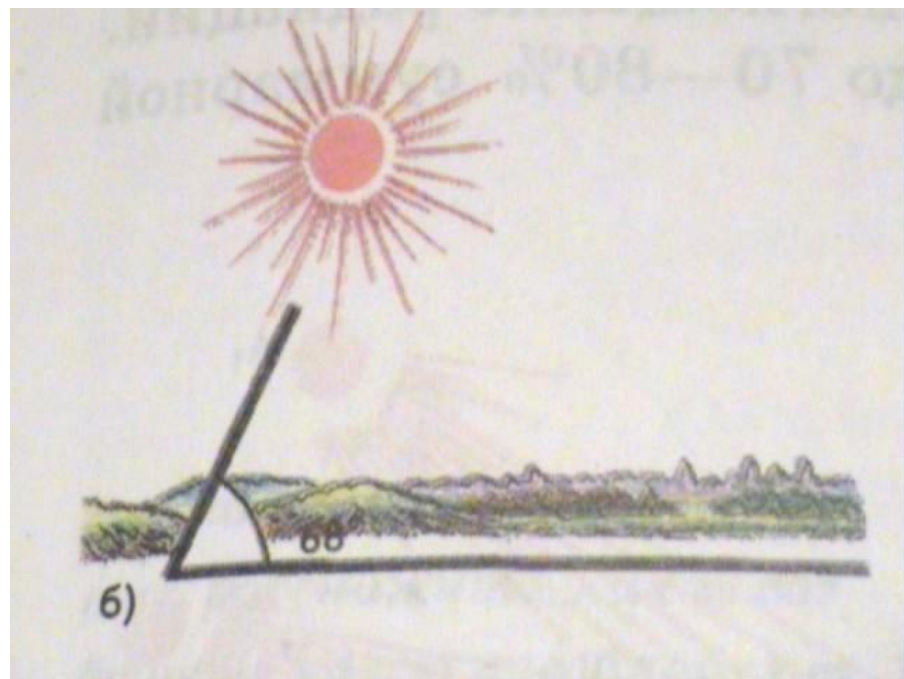
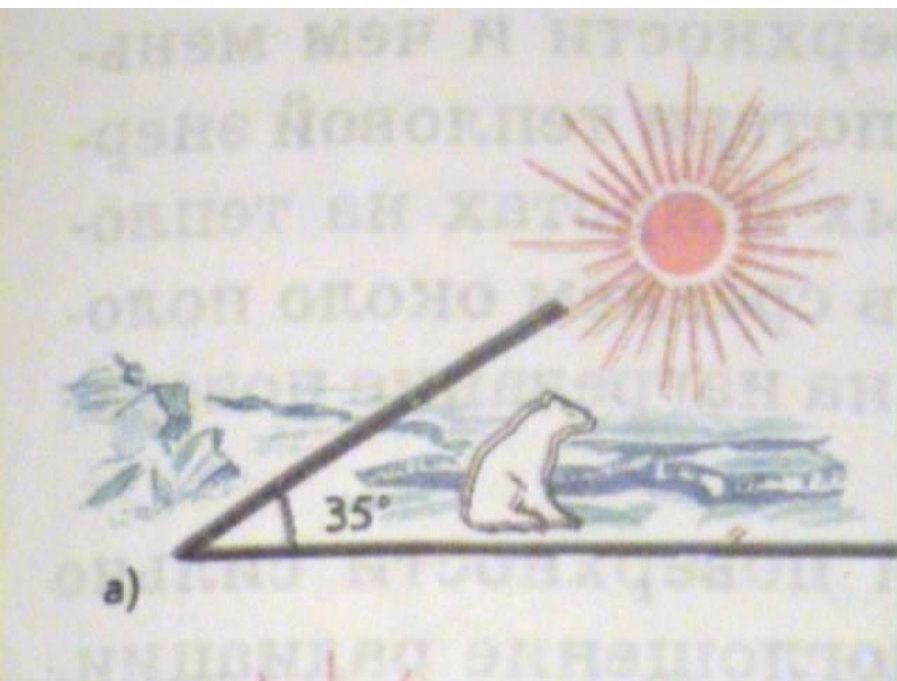
на полюсе

на экваторе

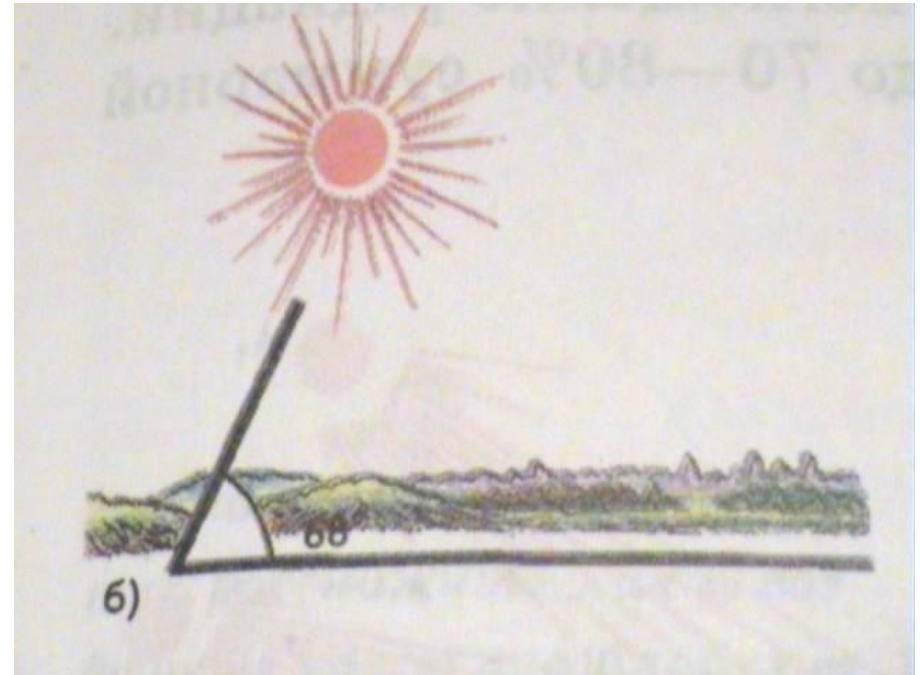
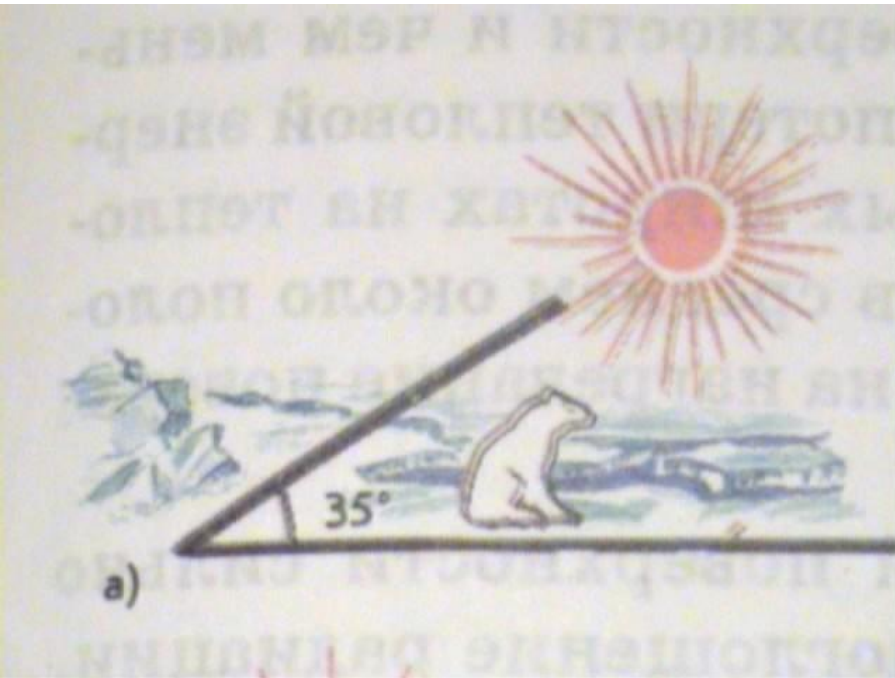
РАСПРЕДЕЛЕНИЕ СОЛНЕЧНОГО ТЕПЛА
ПО ЗЕМНОЙ ПОВЕРХНОСТИ



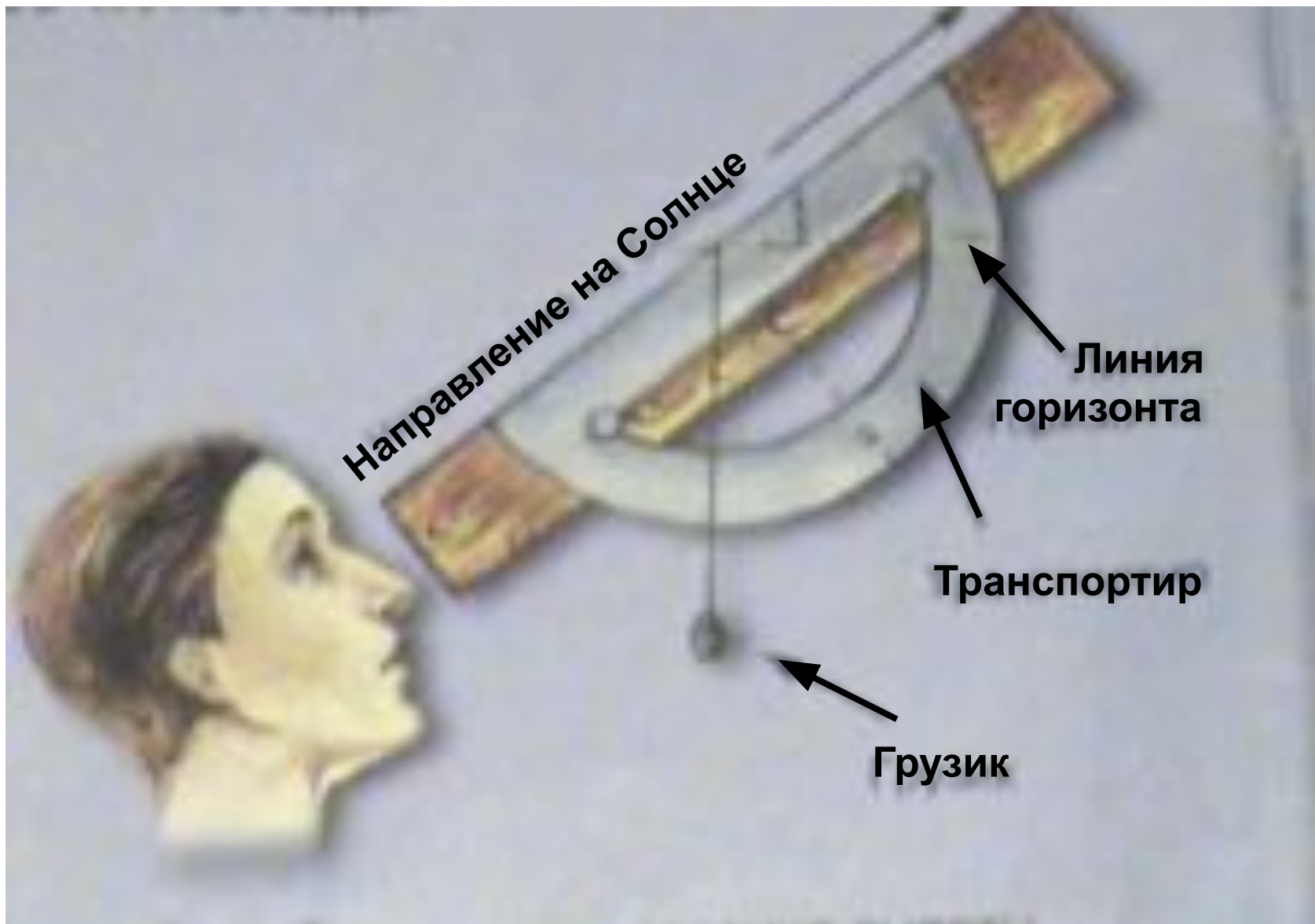
Нагревание поверхности зависит от угла падения солнечных лучей.



Нагревание поверхности зависит от угла падения солнечных лучей.



Чем больше угол падения солнечных лучей, тем выше t воздуха.
Чем меньше угол падения солнечных лучей, тем ниже t воздуха.



Направление на Солнце

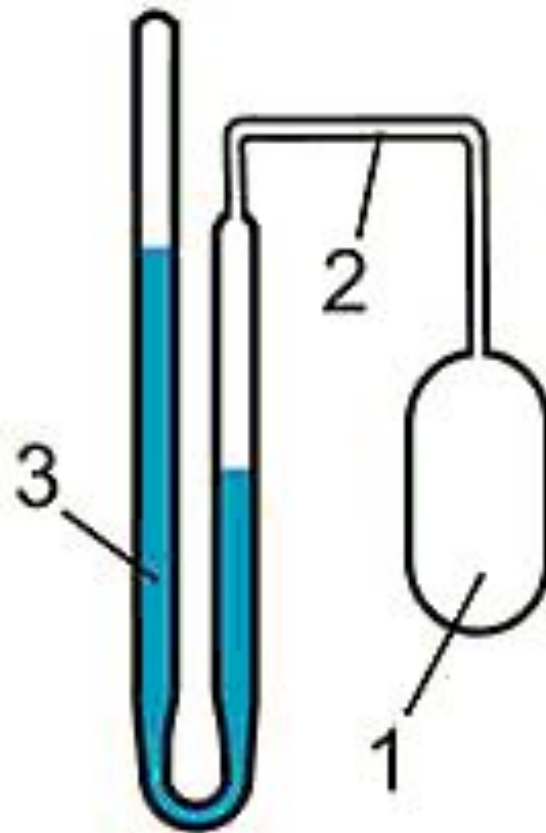
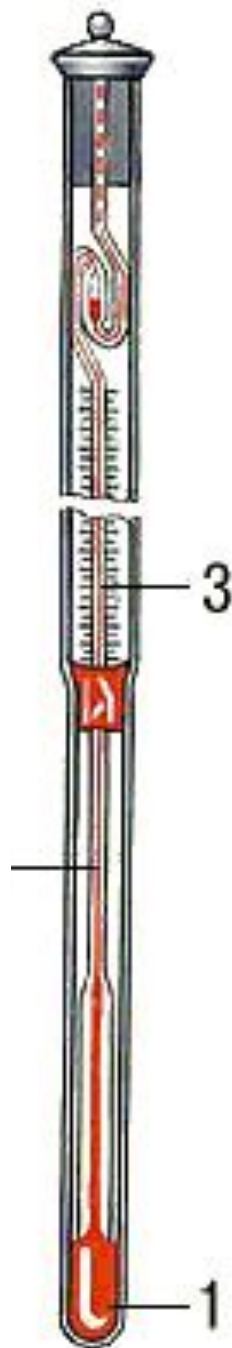

Линия
горизонта


Транспортир

Грузик

Виды

термометров





Разность между самой
высокой и самой низкой
 t в течении суток
называют **суточной
амплитудой колебания
температуры воздуха**

1 час ночи - + 9⁰ С

1 час дня - + 19⁰ С

4 часа утра - + 8⁰ С

4 часа дня - + 18⁰ С

Рассчитайте суточную амплитуду t и среднюю суточную t

1 час ночи - + 9°С	}	$t_{\text{cp}} = \frac{(9 + 19 + 8 + 18)}{4} = 16$
1 час дня - + 19°С		
4 часа утра - + 8°С		
4 часа дня - + 18°С		

Рассчитайте суточную амплитуду t и среднюю суточную t

$$A = 19 - 8 = 11$$

1 час ночи - + 9 ⁰ С	}	$t_{\text{cp}} = \frac{(9 + 19 + 8 + 18)}{4} = 16$
1 час дня - + 19 ⁰ С		
4 часа утра - + 8 ⁰ С		
4 часа дня - + 18 ⁰ С		

Рассчитайте суточную амплитуду t и среднюю суточную t

$$A = 19 - 8 = 11$$

Ответ: амплитуда равна 11⁰С; средняя t равна 16⁰С

Вычислить среднюю t воздуха.

1) 6 ч. - 6°C_0
12 ч. - 24°C

2) 14 ч. - 20°C
18 ч. - 18°C
20 ч. - 10°

С

Вычислить среднюю t воздуха.

1) 6 ч. - 6°C_0
12 ч. - 24°C

2) 14 ч. - 20°C
18 ч. - 18°C
20 ч. - 10°

С

$$t_{\text{cp}} = 15^{\circ}\text{C}$$

Вычислить среднюю t воздуха.

1) 6 ч. - 6°C_0
12 ч. - 24°C

С

2) 14 ч. - 20°C
18 ч. - 18°C
20 ч. - 10°

$$t_{\text{cp}} = 15^{\circ}\text{C}$$

$$t_{\text{cp}} = 16^{\circ}\text{C}$$

Определите суточную амплитуду t воздуха.

1) min - + 3⁰С
mas - + 27⁰С

2) min - - 26⁰С
mas - - 12⁰С

3) min - - 12⁰С
mas - + 15⁰С

Определите суточную амплитуду t воздуха.

1) min - + 3⁰ C
mas - + 27⁰ C

$$A = 24^{\circ} \text{ C}$$

2) min - - 26⁰ C
mas - - 12⁰ C

$$A = 14^{\circ} \text{ C}$$

3) min - - 12⁰ C
mas - + 15⁰ C

$$A = 27^{\circ} \text{ C}$$

