



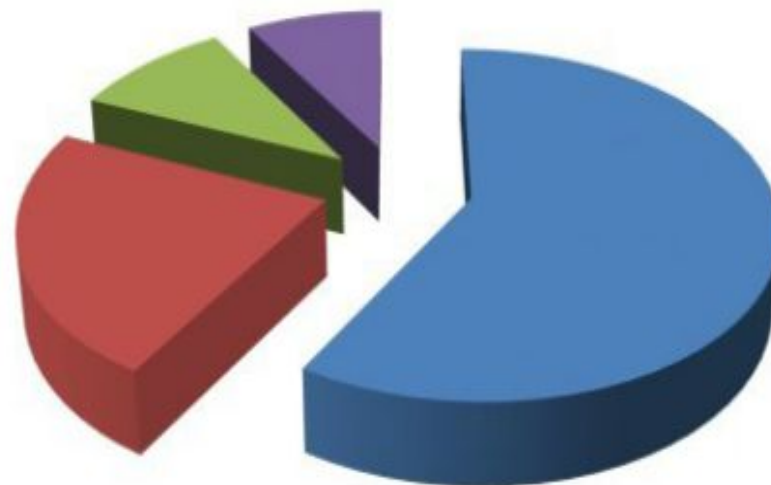
12: анализ диаграмм

учитель истории высшей категории
МБОУ СОШ №55 г.Н.Новгорода
Сергеичева Н.Ю.

12: социальные отношения

Исследование графика

1. Определяем содержание графика (абсолютные числа, проценты и т.д.)
2. Смотрим на оси (что именно показывает каждая ось, какие единицы измерения)
3. Изучаем легенду графика

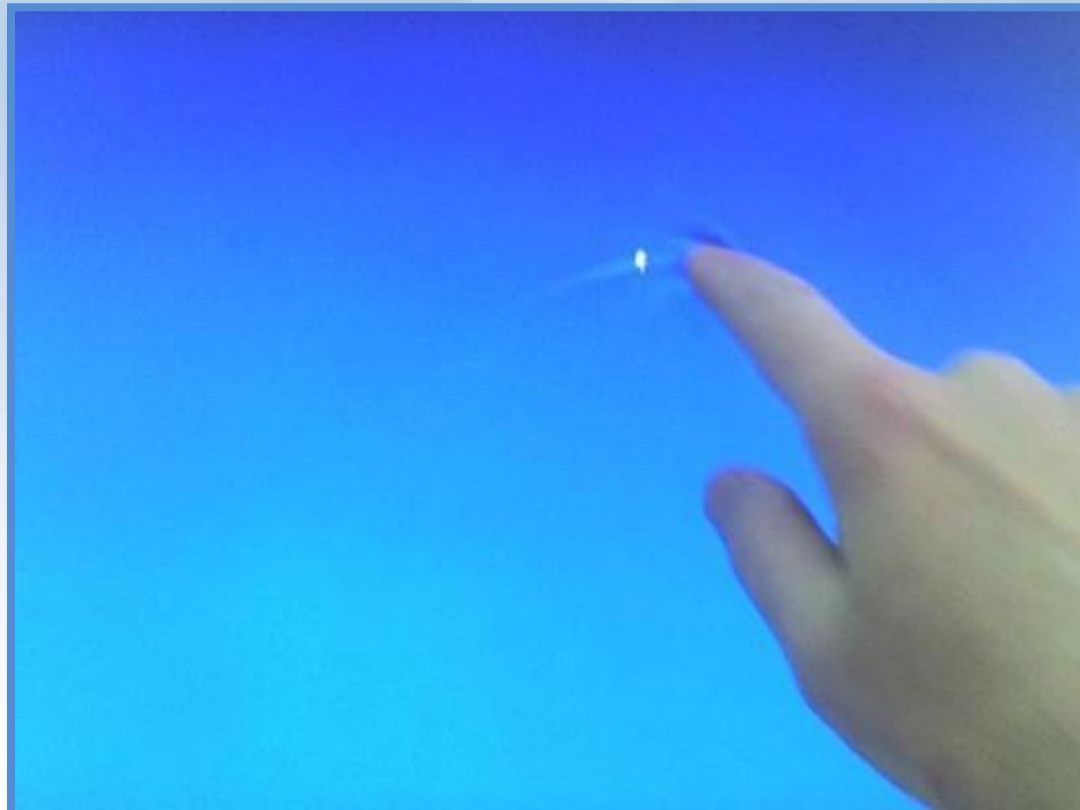


ЛЕГЕНДА:

- улучшится
- ухудшится
- не изменится
- затрудняюсь ответить

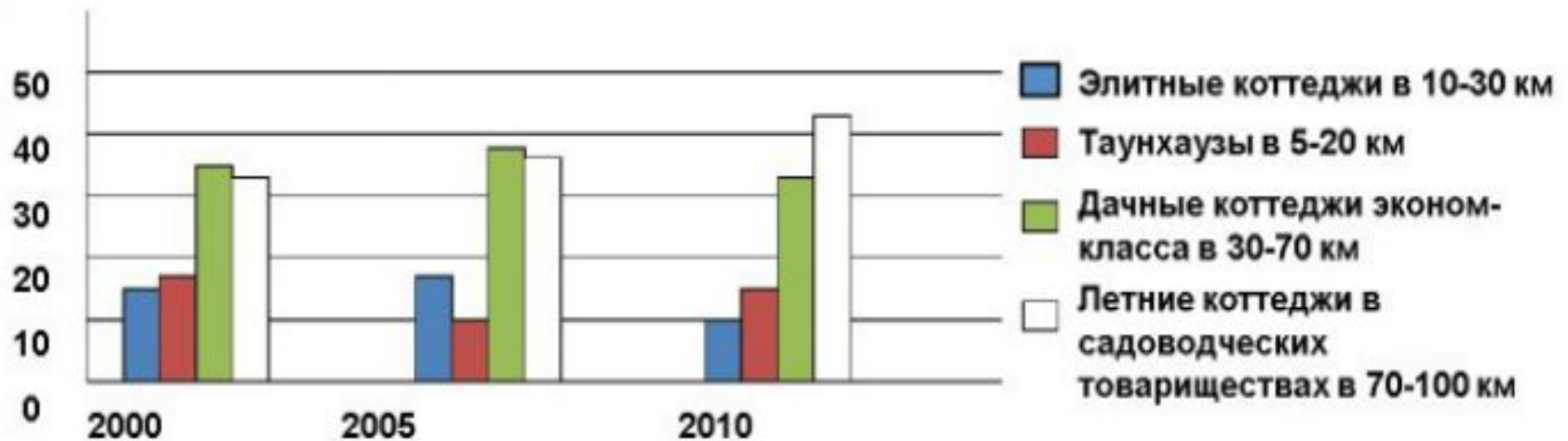
Исследование графика

4. Проверка «пальцем в небо»: проверяем понимание, выбрав произвольную точку на графике



Задание №1

Динамика развития рынка загородной недвижимости в городе М.

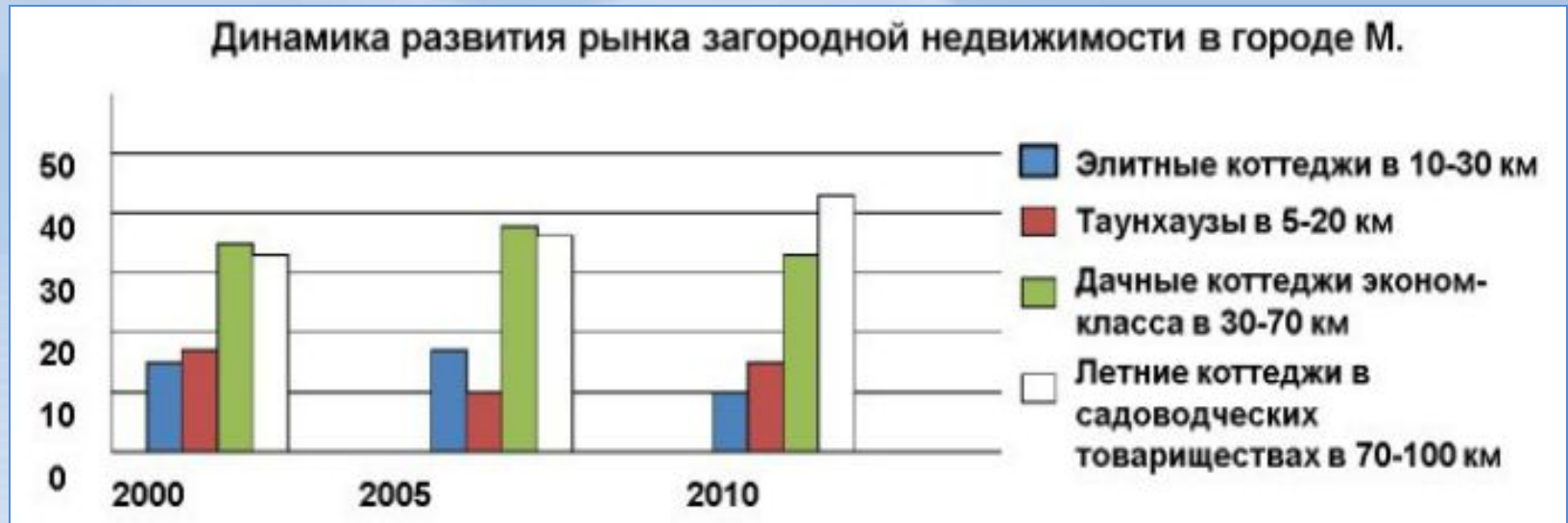


В течение 2000-2010 гг. служба экономического прогнозирования города М. проводила исследование рынка загородной недвижимости. Изучались данные о продажах загородных объектов в крупных агентствах.

В результате проведенного исследования был составлен график (в%).

Найдите в приведенном ниже списке выводы, которые можно сделать на основе диаграммы, и запишите цифры, под которыми они указаны.

Задание №1



- 1) тенденцию устойчивого роста продемонстрировал спрос на элитную загородную недвижимость
- 2) особую популярность у граждан приобрели таунхаузы, которые вышли в лидеры продаж
- 3) активизировались на рынке граждане со средними доходами, приобретающие летние коттеджи далеко от города
- 4) в связи со снижением доходов, по всем сегментам рынка упал спрос
- 5) к 2005 году значительно упал спрос на таунхаузы

Алгоритм решения задания №12 на анализ графика

1. Изучаем график
2. Читаем каждый из вариантов ответа, проверяя, соответствует ли он данным графика.
3. Проходим по всем вариантам ответа, элиминируя неподходящие и ставя знак вопроса возле тех, в которых не уверены.
4. Проверяем выбранные варианты ответа на соответствие графику еще раз.