

# ***ПЕРИМЕТР ПРЯМОУГОЛЬНИКА***

Подготовила учитель начальных  
классов МБОУ «СОШ №1» г Энгельса  
Саратовской области

Мельник Любовь Ивановна.

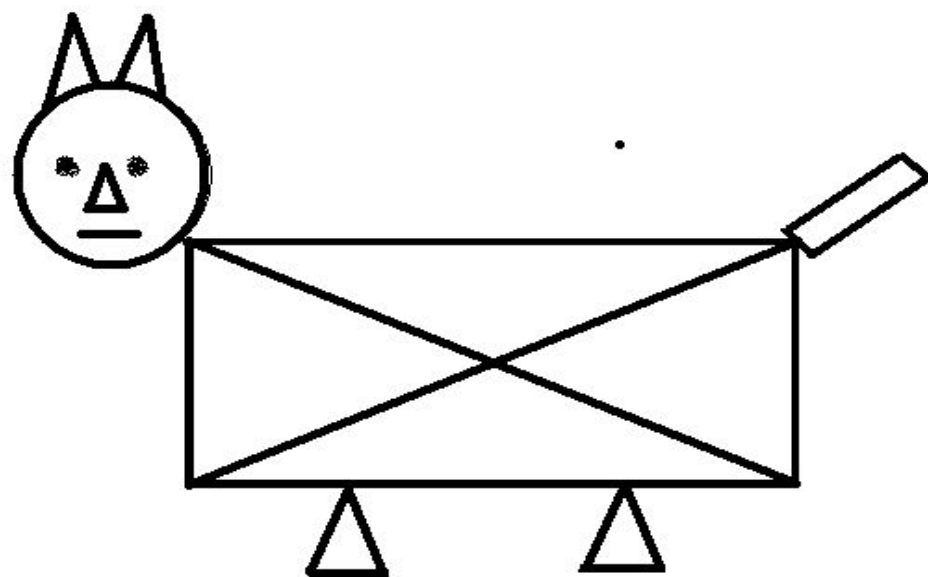
- Дюймовочка вырастила 27 тюльпанов, а гвоздичек на 3 меньше. К празднику она срезала 15 тюльпанов.



$$27-3$$

$$27-(27-3)$$

$$27-15$$

$$27+(27-3)$$





**$(a+b) \times 2$**   
 **$a \times 3$**

**$a+b+c$**



■  $56 - 30$   
 $42 + 9$

$30 - 18$   
 $50 - 24$

№ 1

Реши примеры.

№ 2

Составь примеры с обратными действиями.

№ 3

Дополни каждый пример вторым действием так, чтобы в ответе получилось 100.

Nº 1

$$56 - 30 = 26$$

$$30 - 18 = 12$$

$$42 + 9 = 51$$

$$50 - 24 = 26$$

Nº 2

$$56 + 30 = 86$$
$$= 48$$

$$30 + 18$$

$$42 - 9 = 33$$
$$= 74$$

$$50 + 24$$

Nº 3

$$\begin{array}{r} 26 \\ 56 - 30 + 74 = 100 \\ + 88 = 100 \end{array}$$

$$\begin{array}{r} 12 \\ 30 - 18 \end{array}$$

$$\begin{array}{r} 51 \\ 42 + 9 + 49 = 100 \end{array}$$

$$\begin{array}{r} 26 \\ 50 - 24 \end{array}$$

$$+ 74 = 100$$