

# СВОЯ ИГРА

**Создано учителем: Новиковой М.Е.**

**ВРЕМЯ**

**ПОСЧИТАЙ**

**РЕБУСЫ**

**АНАГРАММЫ**

**ЗАМОРОЧКИ  
И  
ИЗ БОЧКИ**

**100**

**100**

**100**

**100**

**100**

**200**

**200**

**200**

**200**

**200**

**300**

**300**

**300**

**300**

**300**

**400**

**400**

**400**

**400**

**400**

**500**

**500**

**500**

**500**

**500**

**СКОЛЬКО МИНУТ  
В 3 ЧАСАХ?**



**180 МИНУТ**



**Если в 12 часов ночи  
идет дождь, то можно ли  
через 72 часа ожидать  
солнечную погоду?**



**Нет, будет опять ночь**



Двое играли в шахматы  
2 часа. Сколько часов  
играл каждый?



2 часа



Сейчас 6 часов вечера.  
Какая часть суток  
прошла?



3/4



Часы бьют один раз  
каждые полчаса.

Сколько раз пробьют  
Часы за одни сутки?




48 раз



В семье у каждого из  
шести братьев есть  
по сестре. Сколько  
детей в этой семье?



7 детей






Зайцы пилят бревно.  
Они уже сделали 12  
распилов. Сколько  
получилось чурбаков?




13




**Сколько получится  
десятков, если 2 десятка  
умножить на 3 десятка?**



**60 десятков**



У Марины одно целое  
яблоко, две половинки  
и четыре четвертинки.  
Сколько яблок у




Три яблока



Три курицы за 3 дня  
снесли 3 яйца.

Сколько яиц снесут  
12 кур за 12 дней?



48 яиц




**T**



**И=A**

**Точка**






Минус






$$K=M$$

Сумма



2"



"Ъ

ДРОБЬ





# СчастливыЙ случай



500 баллов



**БОРМ**




**РОМБ**



# ДАРАКВТ




# КВАДРАТ



# ЛЕТЛИВЕД



# ДЕЛИТЕЛЬ



ПРИЦЯОРОП



ПРОПОРЦІЯ



# ИТЛИЬЛЕСЧ



# ЧИСЛИТЕЛЬ



# Каков рост Дюймовочки?



дюйм=2,54см



# Пять стогов и семь стогов



на свеэли и сложил  
вместе. Сколько



# Один





**Три ласточки вылетели  
из одной точки,  
когда они будут  
в одной плоскости?**




**В любой момент**



**Мал золотник,  
да дорог. Чему  
равен золотник?**

**Золотник=4,3 г.**



В древности такого термина  
не было. Его ввел в 17 веке  
французский математик  
Франсуа Виет,  
в переводе с латинского он  
означает «спица колеса».  
Что это?

Радиус



СПАСИБО ВАМ ИГРУШКИ МОЛОДЦЫ!

