

Она располагается под нами.  
Там, очевидно, ходят вверх ногами,  
Там наизнанку вывернутый год,  
Там расцветают в октябре сады,  
Там в октябре, а не в июле лето,  
Там протекают реки без воды  
(они в пустыне пропадают где-то)  
Там в зарослях следы бескрылых птиц,  
Там кошкам в пищу достаются змеи,  
Рождаются зверята из яиц,  
И там собаки лаять не умеют,  
Деревья сами лезут из коры.

A world map is shown in the background, rendered in a light purple color. The continent of Australia is highlighted in a dark green color. The text is overlaid on the map in a dark blue, italicized serif font.

*Физико-географическое  
положение и рельеф  
Австралии*

# Географическое положение материка

- Положение по отношению к экватору, нулевому меридиану, тропикам;
- Соседние материки;
- Океаны, моря, омывающие материк;
- Изрезанность береговой линии;
- Крайние точки.

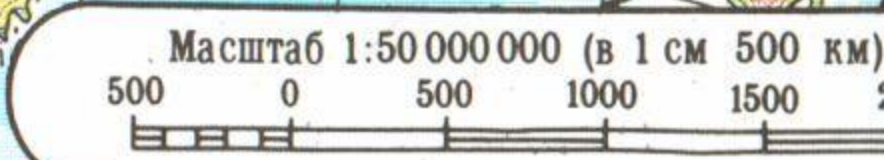


м. Иорк

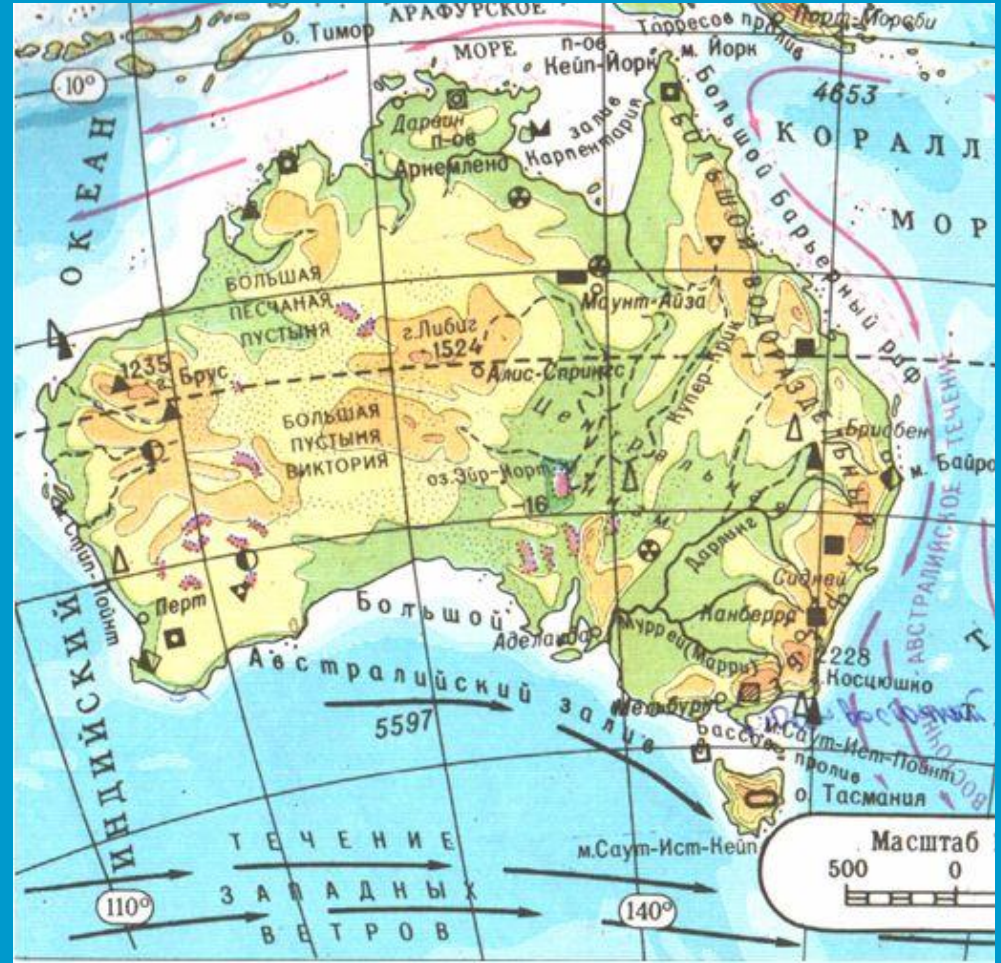
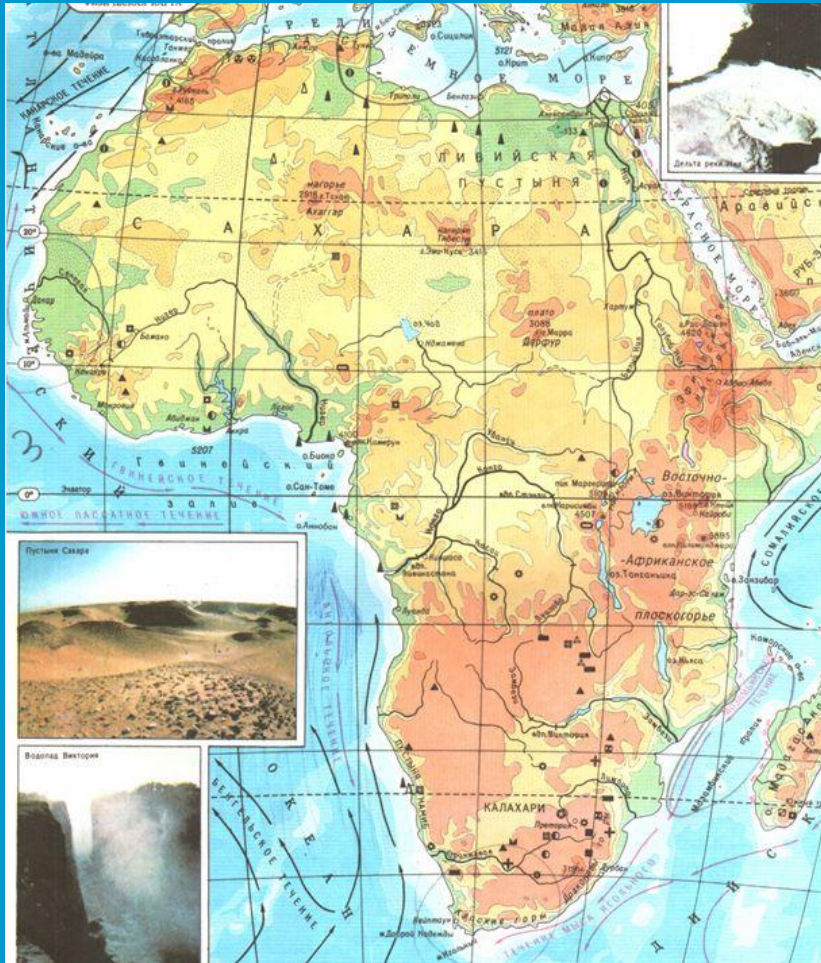
м. Стил-Пойнт

м. Байрон

м. Саут-Ист-Пойнт



# Сравните географическое положение Африки и Австралии



# Тектоническая карта Австралии





# Заполните текст, вставляя пропущенные слова.

Очертания материка Австралия просты, берега \_\_\_\_\_ изрезаны. Вдоль северо-восточных берегов Австралии более чем на 2000 км тянется полоса коралловых островов и рифов, получившая название \_\_\_\_\_. Высшая точка Австралии \_\_\_\_\_. Ее высота равна \_\_\_\_\_ м. В геологическом прошлом большая половина Австралии была частью материка \_\_\_\_\_, от которого она отделилась к концу мезозоя. Крайними точками материка являются \_\_\_\_\_



# Домашнее задание

- параграф 31, пункты 1, 2;
- «Мой тренажер» с.32-33, задания 1 - 4, 7
- нанести на контурную карту объекты ФГП и формы рельефа Австралии;
- \*сообщение об одном из путешественников - первооткрывателей Австралии;