

# Задача на ДВИЖЕНИЕ

Из двух городов одновременно на встречу друг другу выехали два автомобиля. Расстояние между ними было 995 км. Через 5 часов

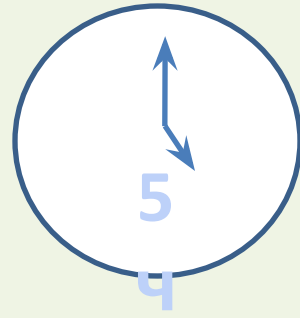
Автомобили встретились. Известно, что один двигался со скоростью

105 км/час. Какова скорость второго автомобиля?

4 класс

Учитель начальных классов

Якупова Л.А.




105  
KM/Ч

?  
KM/Ч

995 KM





= 525 KM


1055


?

KM/4

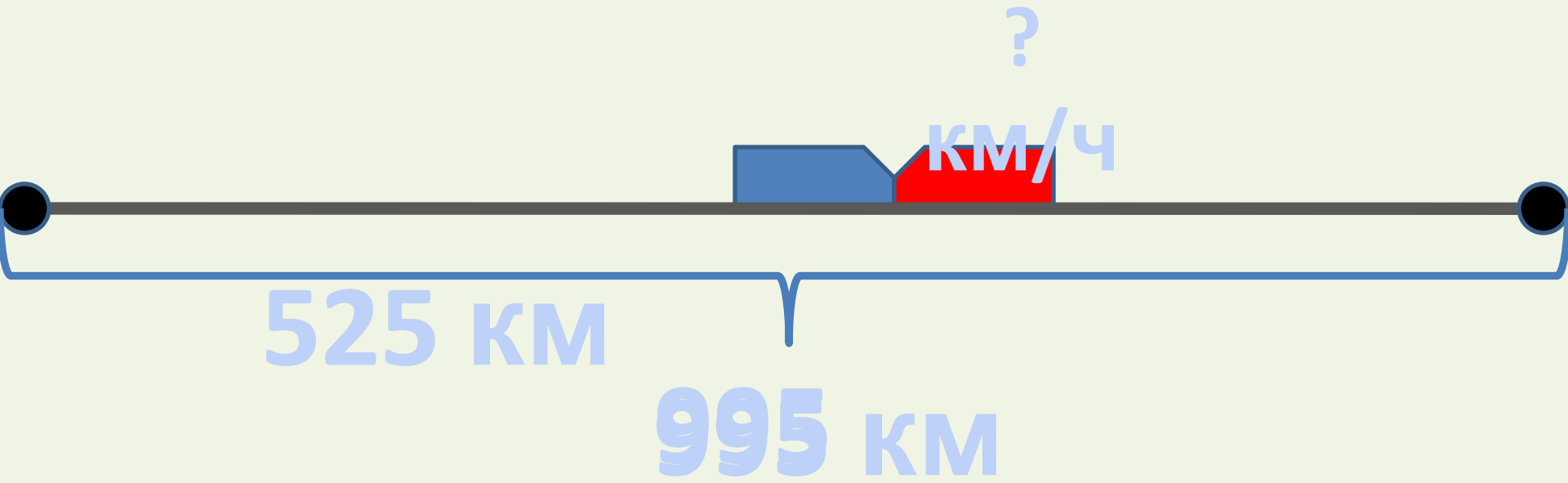
KM/4

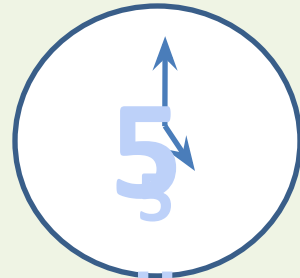
995 KM





$$- = 470 \text{ KM}$$





:

= 94

км/ч?

км/ч



525 км

470 км

995 км