



**Про Незнайку
и его друзей**

10

20

30

40

50

**Винни – Пух и
все – все ..**

10

20

30

40

50

**Крокодил Гена
и Чебурашка**

10

20

30

40

50

**Сказочные
задачи**

10

20

30

40

50



У Пончика на комбинезоне

17 карманов:

**10 карманов спереди
остальные – сзади.**




**В передних карманах лежат
по 2 пончика,
а сзади – по 3.**

**Сколько всего пончиков
у Пончика?**



Когда Винтик и Шпунтик собрали
гоночный автомобиль,
Торопыжка сел в него покататься
и через 5 минут разбил.
Сколько автомобилей надо
собрать
Винтику и Шпунтику,
чтобы Торопыжка
поездил на них хотя бы 1 час,
если ездить он так и не
научился?



**Незнайка написал Гусле
письмо из 14 слов**

и в каждом допустил по 3 ошибки.

Сколько ошибок


в Незнайкином письме?




Когда у Растеряйки кончились носки, друзья подарили ему 15 пар новых. Сколько носков осталось у него, если потерял он в 5 раз больше, чем хранил?




Трое коротышек вместе выпивают за праздничным столом 6 бутылок сладкой воды, а Сахарин Сахаринович Сиропчик выпивает в 5 раз больше чем другой любой коротышка. Сколько бутылок воды нужно Сиропчику на праздник?




Когда у ослика Иа – Иа был хвост, то длина его вместе с хвостом равнялась 2 метра. Когда Винни нашёл хвост у Совы, длина его была 5 дециметров. Какова длина ослика без хвоста?




**Когда Винни – Пух и Пятачок
пришли в гости к Кролику, Винни
– Пух съел 4 банки сгущенного
молока и 8 банок меда. Кролик и
Пятачок съели каждый по
четверть того, что съел Винни.
Сколько банок сгущенного
молока было у Кролика,
если после ухода гостей ничего
не осталось?**




Винни – Пух до прихода к Кролику весил 2 килограмма. У кролика он он съел 4 банки сгущенного по четверть килограмма каждая и 8 банок меда по полкило. Сколько стал весить Винни – Пух после обеда и к чему это привело?




Винни – Пух нес ослику Иа – Иа горшок с 12 л меда. После того, как Винни открыл горшок и посмотрел на мед, его стало на 2 л меньше. Когда медвежонок понюхал мед, его стало меньше еще на 3 л. Когда же он попробовал, не испортился ли мед, то его совсем не осталось. Сколько меда нужно было Пуху, чтобы попробовать не испортился ли он?



**Ослик Иа – Иа съедает за
обедом 40 кустиков
чертополоха по 50 грамм
каждый. Винни – Пух – 4 банки
меда по полкило каждая. Кто
потяжелел за обед больше?**




Чебурашка пока путешествовал в ящике с апельсинами, съедал по одному апельсину на завтрак и обед и два – на ужин. Сколько апельсинов он съел за неделю путешествия?




Крокодил Гена устроился на работу. Сидит перед зоопарком с гармошкой и всем именинникам поет песню. За день он спел 28 девочкам, 19 мальчикам, 8 тетям и 3 дядям. Сколько именинников порадовал Гена?




Чебурашка устроился на работу в магазин: проверять хорошие ли апельсины привозят из Африки. Он открывает ящик и съедает каждый сотый апельсин. Если они хорошие, то их продают, а если плохие – выбрасывают. Чебурашка открыл 5 ящиков по 60 апельсинов. Сколько апельсинов он съел?





Чтобы разозлить Чебурашку и крокодила Гену, старуха Шапокляк сделала 12 пакостей Гене, 19 – Чебурашке и 39 – обоим вместе. Сколько пакостей старуха сделала зря, если они так ни разу и не рассердились?




Гена и чебурашка пошли в лес по грибы. Крокодил нашел 8 грибов, а Чебурашка в 3 раза больше. Сколько всего хороших грибов они набрали если половина найденных оказалась червивыми?




Маша упростила медведя отнести бабушке с дедушкой пироги. Девочка весит 20 килограмм, каждый пирог – полкилограмма. Сколько пирогов надо вынуть Маше из короба, чтобы медведь не заметил разницы в весе, когда он понесет короб с девочкой бабушке и дедушке?




**Змей Горыныч вызвал на бой
трех богатырей Сколько голов
должен отсечь каждый
богатырь, если у змея их 12, а
богатыри поделили его головы
поровну?**




**Чудо – Юдо рыба – кит
проглотило новгородского
купца Садко вместе с лодкой.
Купец весил 100 кг, лодка –
вдвое больше. На сколько
килограмм потяжелело Чудо –
Юдо, если самого Садко оно
выплюнуло обратно?**



В школе для бесенят было 10 учеников. На дом каждому задали совершить по три мелких пакости. Один бесенок не выполнил задание. Сколько мелких пакостей было выполнено бесенятами?



Жадный продавец шаров схватил одновременно 20 шаров и полетел в небо. Он весил 50 кг. Каждый шар поднимает 3 кг. Сколько шаров должен выпустить продавец, чтобы начать спускаться?



«Своя игра»

МАТЕМАТИЧЕСКАЯ ИГРА ДЛЯ 5 КЛАССА

Составитель учитель
математики Подгорбунская И.В.