


<i>О</i>	<i>Т</i>	<i>В</i>	<i>А</i>	<i>Т</i>	<i>А</i>	<i>Ш</i>	<i>А</i>	<i>Л</i>	<i>Ж</i>
<i>Т</i>	<i>Т</i>	<i>А</i>	<i>Т</i>	<i>Н</i>	<i>Е</i>	<i>К</i>	<i>М</i>	<i>Р</i>	<i>И</i>
<i>О</i>	<i>К</i>	<i>А</i>	<i>С</i>	<i>Т</i>	<i>Л</i>	<i>И</i>	<i>Ә</i>	<i>С</i>	<i>К</i>
<i>П</i>	<i>И</i>	<i>О</i>	<i>Н</i>	<i>А</i>	<i>А</i>	<i>М</i>	<i>М</i>	<i>У</i>	<i>Е</i>
<i>А</i>	<i>Р</i>	<i>И</i>	<i>А</i>	<i>А</i>	<i>А</i>	<i>Р</i>	<i>Е</i>	<i>Х</i>	<i>И</i>
<i>К</i>	<i>А</i>	<i>Ж</i>	<i>Б</i>	<i>Н</i>	<i>К</i>	<i>А</i>	<i>О</i>	<i>О</i>	<i>К</i>
<i>Р</i>	<i>И</i>	<i>Т</i>	<i>Е</i>	<i>Р</i>	<i>Р</i>	<i>И</i>	<i>С</i>	<i>Л</i>	<i>О</i>
<i>А</i>	<i>Р</i>	<i>Е</i>	<i>И</i>	<i>Л</i>	<i>С</i>	<i>М</i>	<i>П</i>	<i>Е</i>	<i>К</i>
<i>Н</i>	<i>Е</i>	<i>Г</i>	<i>Н</i>	<i>В</i>	<i>Е</i>	<i>У</i>	<i>Г</i>	<i>Н</i>	<i>И</i>
<i>Б</i>	<i>А</i>	<i>О</i>	<i>Т</i>	<i>А</i>	<i>Ш</i>	<i>Л</i>	<i>А</i>	<i>В</i>	<i>А</i>
<i>А</i>	<i>М</i>	<i>Н</i>	<i>Г</i>	<i>Н</i>	<i>И</i>	<i>С</i>	<i>И</i>	<i>А</i>	<i>Н</i>
<i>К</i>	<i>Г</i>	<i>Н</i>	<i>Я</i>	<i>М</i>	<i>О</i>	<i>К</i>	<i>Н</i>	<i>Г</i>	<i>А</i>
<i>О</i>	<i>О</i>	<i>Н</i>	<i>О</i>	<i>Б</i>	<i>Л</i>	<i>О</i>	<i>Р</i>	<i>У</i>	<i>П</i>

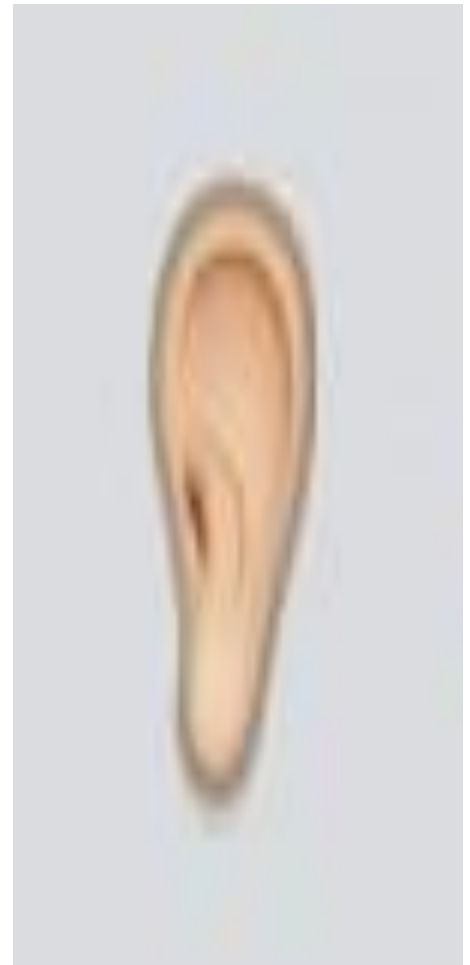
<i>О</i>	<i>Т</i>	<i>В</i>	<i>А</i>	<i>Т</i>	<i>А</i>	<i>Ш</i>	<i>А</i>	<i>Л</i>	<i>Ж</i>
<i>Т</i>	<i>Т</i>	<i>А</i>	<i>Т</i>	<i>Н</i>	<i>Е</i>	<i>К</i>	<i>М</i>	<i>Р</i>	<i>И</i>
<i>О</i>	<i>К</i>	<i>А</i>	<i>С</i>	<i>Т</i>	<i>Л</i>	<i>И</i>	<i>Э</i>	<i>С</i>	<i>К</i>
<i>П</i>	<i>И</i>	<i>О</i>	<i>Н</i>	<i>А</i>	<i>А</i>	<i>М</i>	<i>М</i>	<i>У</i>	<i>Е</i>
<i>А</i>	<i>Р</i>	<i>И</i>	<i>А</i>	<i>А</i>	<i>А</i>	<i>Р</i>	<i>Е</i>	<i>Х</i>	<i>И</i>
<i>К</i>	<i>А</i>	<i>Ж</i>	<i>Б</i>	<i>Н</i>	<i>К</i>	<i>А</i>	<i>О</i>	<i>О</i>	<i>К</i>
<i>Р</i>	<i>И</i>	<i>Т</i>	<i>Е</i>	<i>Р</i>	<i>Р</i>	<i>И</i>	<i>С</i>	<i>Л</i>	<i>О</i>
<i>А</i>	<i>Р</i>	<i>Е</i>	<i>И</i>	<i>Л</i>	<i>С</i>	<i>М</i>	<i>П</i>	<i>Е</i>	<i>К</i>
<i>Н</i>	<i>Е</i>	<i>Г</i>	<i>Н</i>	<i>В</i>	<i>Е</i>	<i>У</i>	<i>Г</i>	<i>Н</i>	<i>И</i>
<i>Б</i>	<i>А</i>	<i>О</i>	<i>Т</i>	<i>А</i>	<i>Ш</i>	<i>Л</i>	<i>А</i>	<i>В</i>	<i>А</i>
<i>А</i>	<i>М</i>	<i>Н</i>	<i>Г</i>	<i>Н</i>	<i>И</i>	<i>С</i>	<i>И</i>	<i>А</i>	<i>Н</i>
<i>К</i>	<i>Г</i>	<i>Н</i>	<i>Я</i>	<i>М</i>	<i>О</i>	<i>К</i>	<i>Н</i>	<i>Г</i>	<i>А</i>
<i>О</i>	<i>О</i>	<i>Н</i>	<i>О</i>	<i>Б</i>	<i>Л</i>	<i>О</i>	<i>Р</i>	<i>У</i>	<i>П</i>

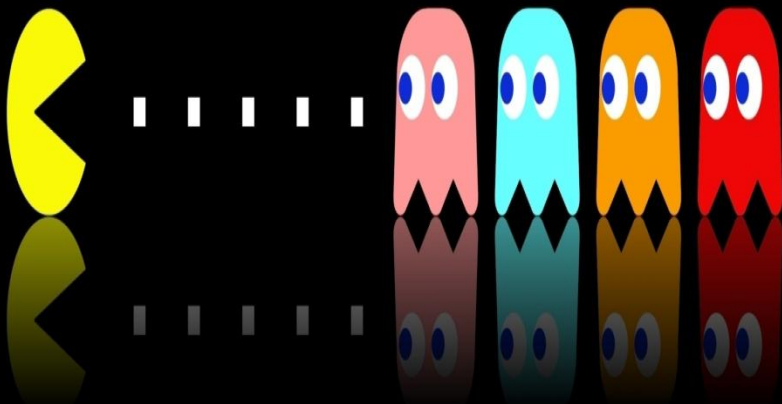





100000000













Л

--	--	--	--	--	--	--	--



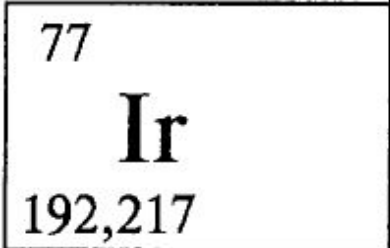
О

--	--	--	--	--	--	--



Г

--	--	--	--	--	--	--	--



И

--	--	--	--	--	--



К

--	--	--	--	--



А

--	--	--	--	--	--	--



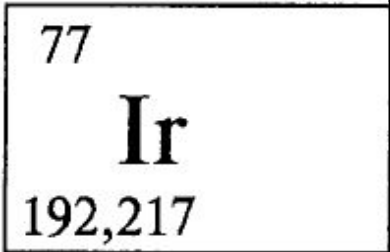
Л	а	л	а	г	ү	л
---	---	---	---	---	---	---



О	р	б	и	т	а	
---	---	---	---	---	---	--



Г	е	р	м	а	н	и	я
---	---	---	---	---	---	---	---



И	р	и	д	и	й	
---	---	---	---	---	---	--




К	ү	л	ө	ш	
---	---	---	---	---	--



А	р	ғ	ы	м	а	қ
---	---	---	---	---	---	---







””



””

,



π=τ



”

,




”





б	а	л	а	т	і	л	і	б	а	л
---	---	---	---	---	---	---	---	---	---	---

''''



''''''''''



--	--	--	--	--	--	--

''''


''''''''



''''''''



''''



''''''''''




п р и н т е р

''''

''''''''



''''''''



Жандостын үйүнүн бақшасында көрі бір ағаш бар. Әр жылы 25 сантиметр өседі. Жандос 8 жасар кезінде жерден 140 сантиметр биіктіктегі ағаштың діңіне ЖАНДОС дег есімін жазды. Жандос 12 жасқа толғанда бұл жазу қанша сантиметр өскен болады?

Бір аю әр күні алдыңғы жееген күніндегіден 6 балық артық жей отырып 5 күн ішінде 100 балық жейді. Аю бірінші күні қанша балық жееген?

3 Аңшы 3 сағатта 3 үйрек аулай алатын болса, 9 аңшының 9 үйректі аулай алуы үшін қанша сағат керек?

47 Бір патша тұтқынға түскен дұшпан ескеріне былай деді: «Маған бірдене айт, егер айтқан сөзің өтірік болса атыл өлтірткізімін, егер шын болса дарға асыл өлтіртемін.» Сонда әлгі тұтқын бір нәрсе айтты, аман қалды. Тұтқын не айтты екен?

Бір күні әкесі ұлына бір кітап беріп, «Мына кітапты оқысаң, саған 2000 теңге беремін», дегті. Баласы 1 аптадан кейін әкесіне келіп, «Әке кітапты оқыдым, 2000 теңгемді берсез бе?» деді. Сонда әкесі баласына «Кітапты оқымағаның» деп жауап берді. Баласының кітапты оқымағанын ~~әкесі~~ қайдан білген?

Төрт бұрыштан 1 бұрышын алып (құял) тастасақ неше бұрыш қалады.

3. Әкесі 34 жаста, баласы 11 жаста. Неше жылдан кейін әкесінің жасы баласының жағынан 2 есе артық болады? Теңдеу арқылы шеш.

Сәрік әкесінің бүгінгі жасына жеткен кезде, қарындасының жасы қазіргі жасынан 2 есе үлкейеді. Ал қарындасы әкесінің бүгінгі жасына жеткенде, Сәріктің жасы бүгінгі жасынан 2 есе үлкейеді. Үшеуінің жастарының қосындысы 100 болса, әр біріннің жасы қаншада?

Айдос 5 дүкенге кіріп, қалтасындағы бүкіл ақшасын жұмсайды. Әр дүкенде, сол дүкенге кірер кездегі ақшасының жартысынан 1 теңге артығын жұмсайды. айдостың үйінен шығар кезде қалтасында қанша теңге бар еді?

2. Торда 12 құс отыр. Оның 11-нен басқасы ұшып кетті? Торда қанша құс қалды?

7. Атасы нөмерлеріне сақтап қойған асығын бөрсісі келді. Оларға жетпеден берсе, асықтың екеуі артық қалады. Ал сөзіден берсе, асықтың біреуі жетпегі қалады. Аманың неше нөмересі бар? Асығы нешеу?

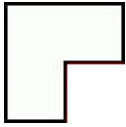
Бір бөлмеде 3 лампа бар, ал бұлардың қосқышы (элючители) басқа бөлмеде. Дампадардың барлығы сөнік тұр. Дампадар тұрған бөлмеге бір рет қана баруға болады. Қай қосқыш қай лампаға тиесілі екенін бір рет қана барып келіп қалай анықтауға болады?

1. Бір аңаның үш қызы болады. Шешесі 42 жасқа келгенде, үлкен қызы 19-ға, ортаншысы 11-ге, ал сұл кенжесі 2 жасқа толды. Қанша жылдан кейін анасы мен үш қызының қосынды жасы теңеседі? Ойлыныл көр.

6. Барлық жылқының үштен бірі және екеуі бөлініп алынды. Бұдан соң қалған жылқының жартысы айдалып кетті. Сонда өрісте 9 жылқы қалды. Басында неше жылқы болды?

3 адам ~~те~~ екеуі қызыл, екеуі қара түсті болған 4 басқилмен кездейсоқ үшеуін күйзеді. Басқил күен кісілер өздерінің басындағы бас килінің түсін көре алмайды. Алдыңдағы өкі адамдікін көреді. Әркім өздерінің басындағы басқилінің түсін табуы керек және бір рет қана айту мүмкіншіліктері бар. Басындағы басқилінің түсін қалай таба алады?

Пішінді бірдей 4 бөлікке бөліңіз



Машина оңға бұрылған кезде қай дөңгелегі қозғалмайды?

100 шөжек, 100 кг бидайды 100 күнде жейтін болса, 10 шөжек, 10 күнде қанша кг бидай жейді?

Сүмен толтырылған шелек таразыда 10 кг болады. Шелектің ішіне, жіптің ұшына байланған темір шар батырылады. Шар шелектің түбіне тимейді, әрине шелектен бөлігі мөлшерде су тасыл шығады. Шелектің ауырлығы артады ма, азаяды ма, әлде өзгермейді ме?

Бір жүк машинасының артында бір шелек тұр. Жанбыр жауа бастады. Шелек, жүк машинасы тоқтап тұрған кезде тез тола ма, әлде жылдам кептіл бара жатқан кезде ма?

Бір қаладан екінші қалаға барды. Бірақ қозғалмайды. Ол не?