



Тема урока: «Лабиринты»

Выполнила:

Коренева Олеся Сергеевна

Учитель математики

МБОУ лицей № 82

п. Каменоломни



Лабиринту не менее 5000 лет



На античной вазе изображен танец
Тезея с освобожденными им от
Минотавра афинскими
заточниками.

Этот наскальный рисунок
лабиринта был сделан в начале
бронзового века, между 1800 и
1400 годами до н. э.

Нижний рисунок изображает двух
всадников, которые покидают
лабиринт. Рисунок нанесен на
этрусскую вазу в 620 г. до н. э.




**Оборотная сторона
серебряной монеты, из
города Кноса на Крите
(второе столетие до н. э.). На
монете изображен лабиринт
этого острова.**



**"Лабиринт любви"
гравюра на меди
(Амстердам, 1700 год).**

Одно из индейских племен,
жившее на юго-западе
Соединенных штатов,
предпочитало
прямоугольные и круглые
варианты лабиринтов. По их
понятиям, это были символы
матери-Земли.



Найди выход с лабиринта:

Помоги
белочке
сделать
запасы на
зиму.



Найди выход с лабиринта:



**Какой
сундук
охраняет
дракон?**

Найди выход с лабиринта:


Из какого
крана
мальчик Петя
поливает
цветы?



Найди выход с лабиринта:

Помоги бабочке
добраться до
большого желтого
цветочка.

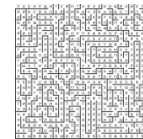
Начинай с любого
фиолетового
цветка. Прыгай
только с цветочка
на соседний
цветочек или
только с листика
на соседний
листик



Найди выход с лабиринта:

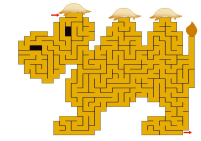


Найди выход с лабиринта:



**Найдите
выход из
лабиринта,
затем
выпишите
каждую
четвертую
букву и вы
разгадаете
фразу**

**Найдите выход из
лабиринта.**



Найдите выход из лабиринта.



Найдите выход из лабиринта.

