





## Во сколько раз больше или меньше?

Математика,  
2 - 3 классы

Тест создан  
на основе  
шаблона  
А.А.Баженова



Груш больше, чем яблок:



~~• в 5 раз~~

• в 3 раза

• в 4 раза

• в 2 раза



# Тес

Во сколько раз белок меньше, чем грибов?



- в 4 раза
- в 3 раза
- в 5 раз
- в 2 раза

<input type="checkbox"/>
<input type="checkbox"/>
<input type="checkbox"/>
<input type="checkbox"/>

# Тест

Число 24 больше числа 3:

24



3

- в 3 раза
- в 2 раза
- в 5 раз
- в 8 раз



Число 4 меньше числа

4

?

28



- в 7 раз
- в 2 раза
- в 5 раз
- в 3 раза

<input type="checkbox"/>
<input type="checkbox"/>
<input type="checkbox"/>
<input type="checkbox"/>

# Тес

На столе 5 луковиц, а морковок в 6 раз больше. Сколько на столе



• 20

• 30

• 9

• 24



# Тес

Масса индюка 8 кг. Утка в 4 раза легче индюка.



Како



утки?



• 12 кг

• 4 кг

• 2 кг

• 32 кг

# Тест

Если число 7 увеличить в 5 раз,

то получим какое число:



• 35

• 12

• 30

• 2





# Тест

Если число 30 уменьшить в 5 раз,

то получим какое число:



• 6

• 36

• 35

• 25



# Тест

Одно число в 6 раз меньше  
другого.

Какими могут быть эти числа?



• 5 и 25

• 24 и 8

• 36 и 4


• 42 и 7



# Тес

Одно число в 8 раз меньше  
другого.

Какими могут быть эти числа?



• 40 и 4

• 64 и 8

• 24 и 8

• 42 и 6



**Тес**

# **Анализ работы с тестом**