



Естественно-
математическое
ралли!!!



Торопись –медленно!

Сколько тайн, на формулах распятых, Нам раскроют завтрашние дни!



1820

6960

11022

6671

2228

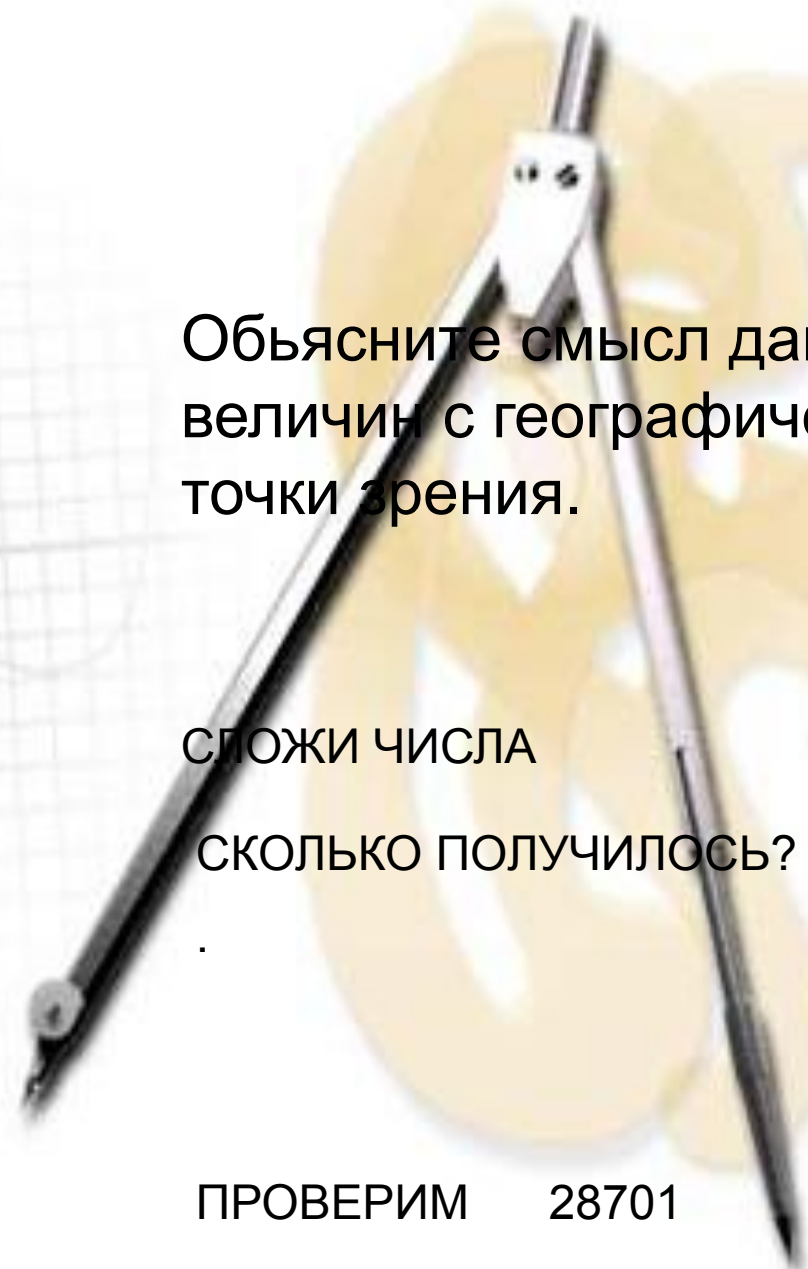
Объясните смысл данных величин с географической точки зрения.

СЛОЖИ ЧИСЛА

СКОЛЬКО ПОЛУЧИЛОСЬ?

.

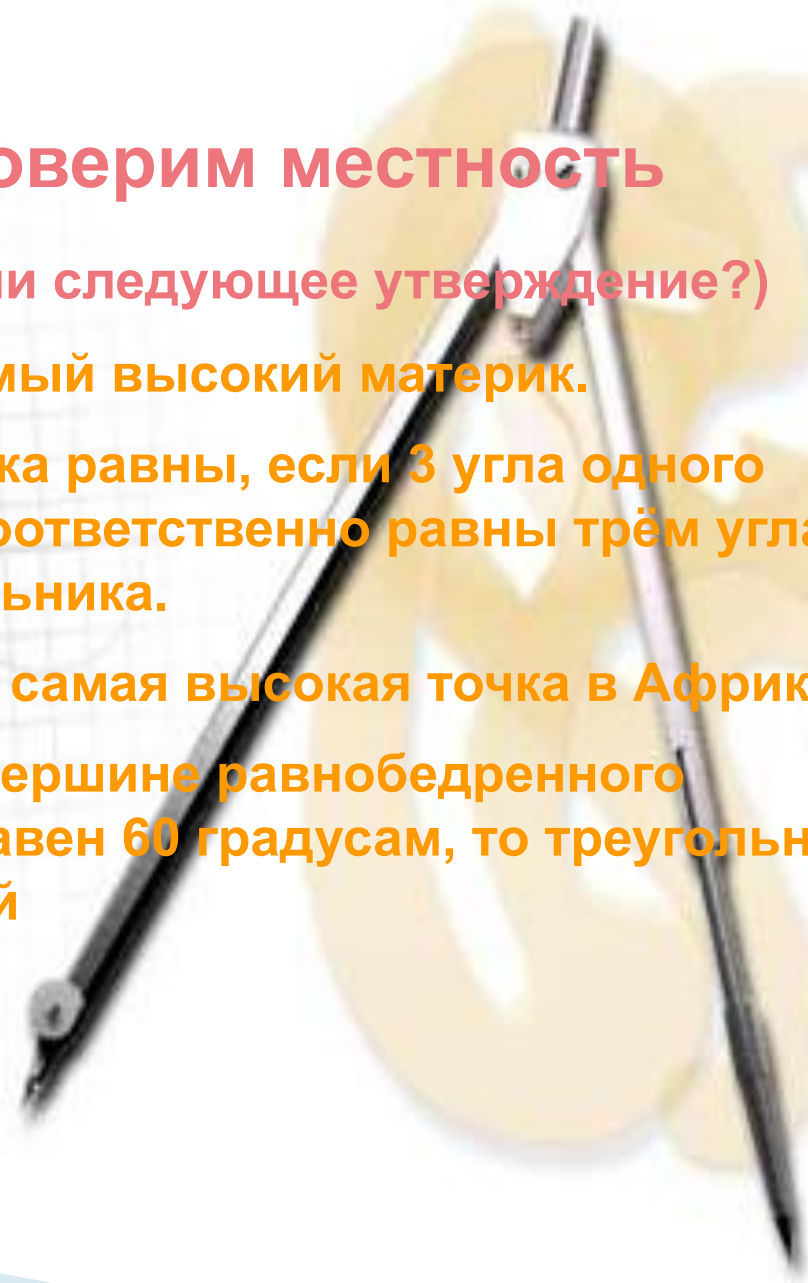
ПРОВЕРИМ 28701



•Проверим местность

•(верно ли следующее утверждение?)

- Антарктида- самый высокий материк.
- Два треугольника равны, если 3 угла одного треугольника соответственно равны трём углам другого треугольника.
- Килиманджаро- самая высокая точка в Африке.
- Если угол при вершине равнобедренного треугольника равен 60 градусам, то треугольник равносторонний





Составить карту гонки!!!!

4
ступень

$$81 - 4(x + 3)^2$$

$$(3 - 2x)(15 + 2x)$$

3
ступень

$$(2 - a)(4 + a^2)(2 + a)$$

$$16 - a^4$$

2
ступень

$$(3y + 0,1x)(0,1x - 3y)$$

$$0,01x^2 - 9y^2$$

1
ступень

$$(3a^2b + 2ab)(3a^2b - 2ab)$$

$$9a^4b^2 - 4a^2b^2$$



Определить точки
по координатам

4
ступень 37 ° С.Ш. 4 ° В.Д.

3
ступень 33 ° С.Ш. 14 ° В.Д.

2
ступень 15 ° С.Ш. 33 ° В.Д.

1
ступень 12 ° С.Ш. 8 ° З.Д.

Где проходит
ралли?

Гонка по пересеченной местности



Не уверен – не обгоняй!!!!

Внезапная остановка – авария!?

Сложение

Вычитание

Раздробление

Деление

Умножение

Действие

Саванна

Пустыня

Прерии

Степи

Патагония

Пампа



Привал!!!!



+24 °; +16 °; -32 °; +8 °; 0 °, -16 °

Африка	Австралия
Антарктида	Южная Америка

Какому из материков соответствуют температуры января и июля?

Найдите произведение данных чисел.



