

МАТЕМАТИКА

в 1 классе





Тема урока «Число и цифра 0»



0

1 2 3 4 5 6 7 8 9 10

0





Крылатые выражения

- **Ноль без палочки**
- **Ноль внимания**
- **Круглый ноль**
- **Сводить к нулю, свести к нулю**
- **Начинать с нуля**

✦ Памят

н



**Памятник нулю в Будапеште –
нулевой километр.**

Понедельник

Вторник

Среда

Четверг

Пятница



Суббота


Воскресенье

На что похожа цифра 0

Ноль собой весьма
хорош:
На бараночку похож,
И на бублик, и на шар,
И на круглый самовар.

Нолик дружит с
колобком,
Жить нескучно им
вдвоем.
Круглый шарик
надувают,
Круглый год на нем
летают.







ВОТ ТАК ПРАВИЛЬНО!





Стр. 20

34. Учись писать цифры.



0	0	0				0
100	100					
0	0	0				0



4	4	4				4
40	04					
14	14					



7	7	7				7
1	17					
7	77	777				



2	2	2				2
20	20					
22	22	22				

35. Считай круги слева направо. Закрась:


1) пять кругов ○ ○ ○ ○ ○ ○ ○ ○ ○ ○ ○ ○ ○ ○ ○
пятый круг ○ ○ ○ ○ ○ ○ ○ ○ ○ ○ ○ ○ ○ ○ ○

2) восемь кругов ○ ○ ○ ○ ○ ○ ○ ○ ○ ○ ○ ○ ○ ○ ○
восьмой круг ○ ○ ○ ○ ○ ○ ○ ○ ○ ○ ○ ○ ○ ○ ○

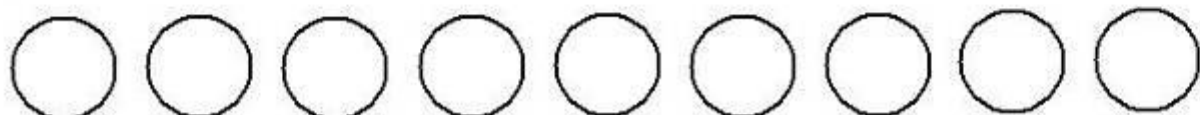
3) четыре круга ○ ○ ○ ○ ○ ○ ○ ○ ○ ○ ○ ○ ○ ○ ○
четвёртый круг ○ ○ ○ ○ ○ ○ ○ ○ ○ ○ ○ ○ ○ ○ ○

36. Раскрась круги, если:

1) второй справа красный, а остальные синие;




2) третий слева синий, а остальные зелёные;



3) пятый справа зелёный, а остальные синие;



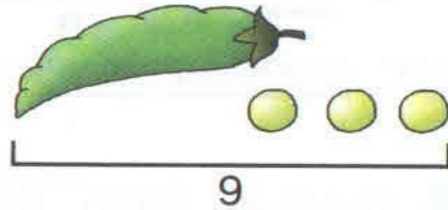

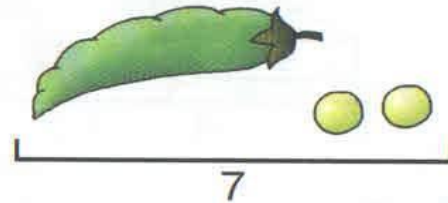
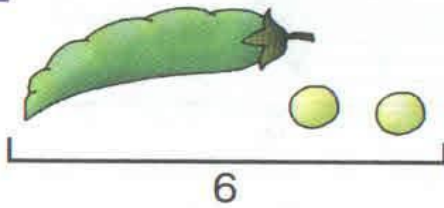
4) шестой и седьмой справа синие, а остальные зелёные;











Стр. 56

117. Сколько горошин в каждом стручке?


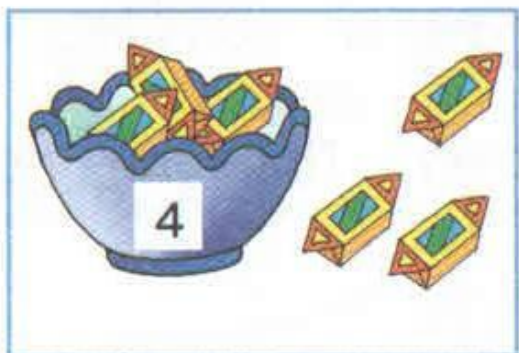



118. Чем похожи рисунки в каждом ряду?



119. По какому признаку соединили картинки?



120. Запиши цифрой, сколько яблок в корзине.

