

ГБОУ «Специальная (коррекционная) школа-интернат 8 вида» г.
Кашина Тверской области

В МИРЕ ЖИВОТНЫХ

Урок подготовили и провели: учитель математики
Бабилова В.С., учитель биологии Чистякова С.Г







5,976

5,3

3,6

2,3

2,7

0,67

3,7

4,1

1,45

$$3,6 + 2,7 + 3,7 = 10 \text{ (дм)}$$

Масса бобра (в кг)

$$\text{Circle} : 4 = \text{Triangle}$$

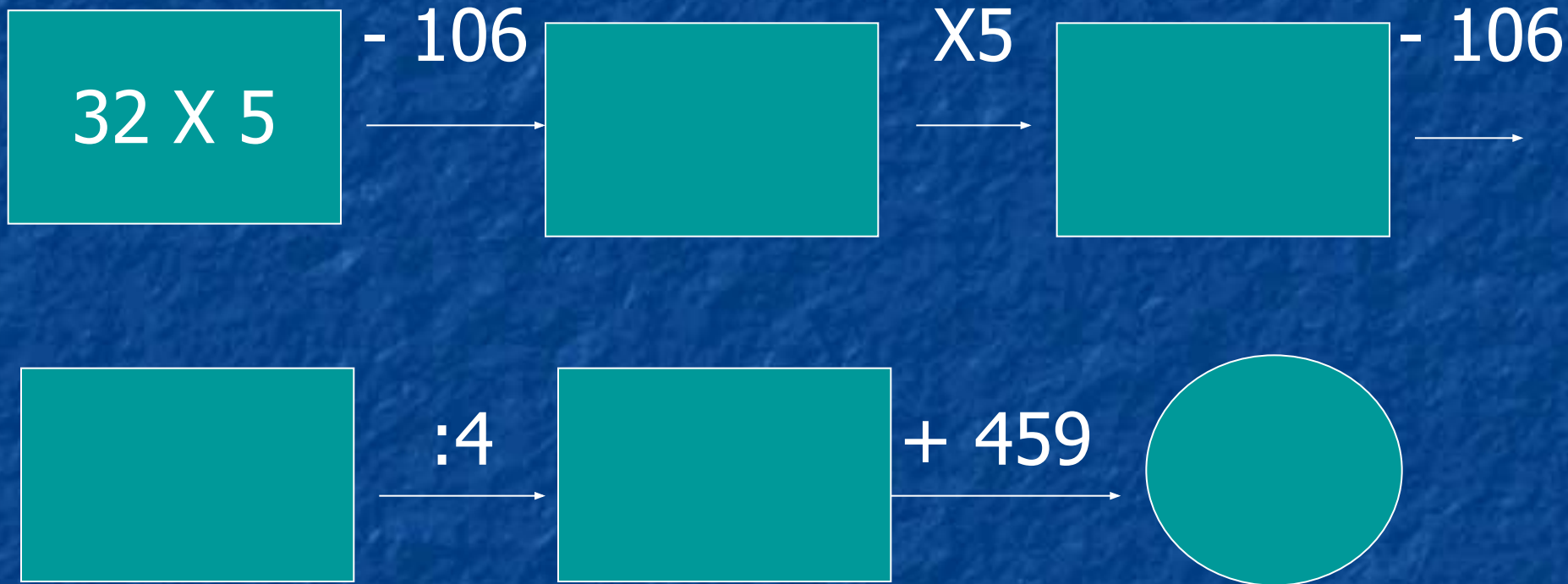
$$\text{Hexagon} : 4 = \text{Heart}$$

$$8 \times 207 = \text{Square}$$

$$\text{Square} - 1500 = \text{Circle}$$

$$\text{Triangle} + 61 = \text{Hexagon}$$

Стоимость 100г жира бобра в рублях





Elephant





A. Kozyukov | photographies.narod.ru

Высота и длина тела африканского слона

- 60



125

X4

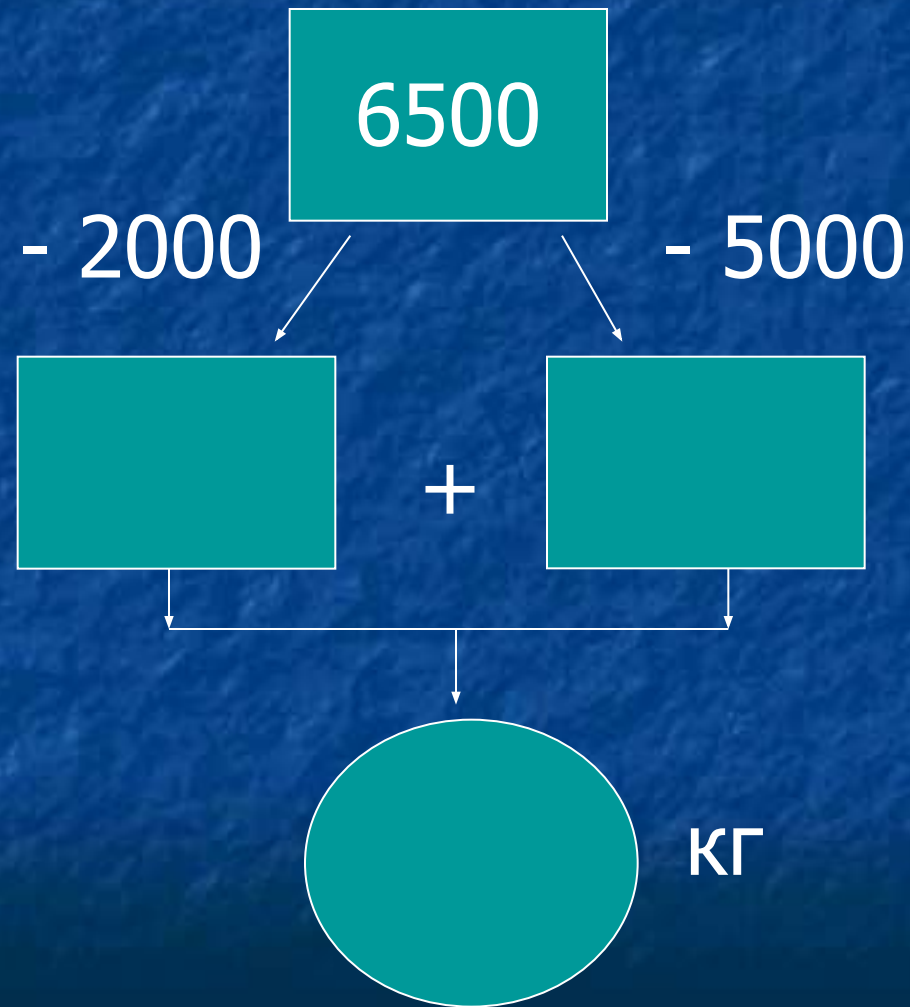
+ 25

X5

+ 60



Масса африканского слона (в кг)



$$X - 17,005 \text{ кг} = 2,995 \text{ кг}$$

$$X \times 10 = 1500 \text{ л}$$

Спасибо за урок.