

ДИКТАНТ

4, 8, 5, 3, 9



ДИКТАНТ

4, 8, 5, 3, 9.

$$9 - 3 = 6$$



КАРТОЧКА №1

5  7

6  8

4  5

3   1



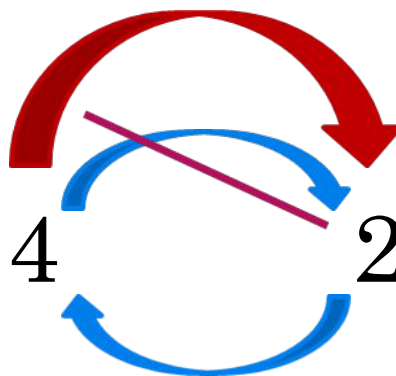
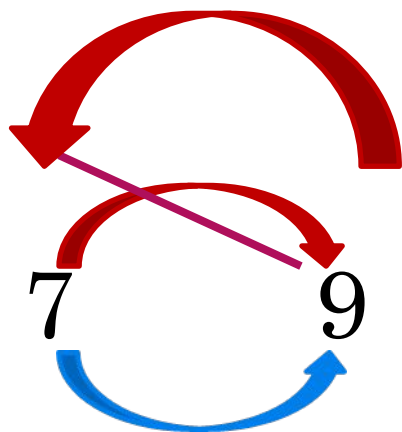


КАРТОЧКА №2

□ 5 больше 4 больше
7 ~~меньше 6~~

□ 4 меньше 6 меньше
8 ~~больше 9~~



КАРТОЧКА №3



КАРТОЧКА № 4

5 больше 2



7 меньше 8



На сколько больше или меньше?

УЗНАЁМ НОВОЕ

На сколько больше или меньше

1. Имеются 8 коробочек и 5 шариков.



На сколько коробочек больше, чем шариков?

Ответить на этот вопрос можно и без рисунка. Для этого из большего числа вычтем меньшее: $8 - 5$. Коробочек на 3 больше, чем шариков.

$$\textcircled{8} - \textcircled{5} = 3$$

ВЫВОД?



ПРАВИЛО!!!



Чтобы узнать, на сколько одно число больше или меньше другого, можно из большего числа вычесть меньшее.

