

Урок математики



3 класс
УМК «Школа России»

«МАТЕМАТИЧЕСКАЯ ЭСТАФЕТА»

$5*7$	$5*6$	$5*9$	$5*3$	$5*8$	$5*4$
$6*2$	$6*4$	$6*7$	$6*3$	$6*5$	$6*7$
$7*8$	$7*3$	$7*5$	$7*9$	$7*8$	$7*2$
$40:5$	$32:4$	$48:6$	$24:3$	$56:7$	$64:8$
$63:7$	$18:2$	$27:3$	$45:5$	$36:4$	$54:6$

Проверка

$5 * 7 = 35$

$5 * 6 = 30$

$5 * 9 = 45$

$5 * 3 = 15$

$5 * 8 = 40$

$5 * 4 = 20$

$6 * 2 = 12$

$6 * 4 = 24$

$6 * 7 = 42$

$6 * 3 = 18$

$6 * 5 = 30$

$6 * 7 = 42$

$7 * 8 = 56$

$7 * 3 = 21$

$7 * 5 = 35$

$7 * 9 = 63$

$7 * 8 = 56$

$7 * 2 = 14$

$40 : 5 = 8$

$32 : 4 = 8$

$48 : 6 = 8$

$24 : 3 = 8$

$56 : 7 = 8$

$64 : 8 = 8$

$63 : 7 = 9$

$18 : 2 = 9$

$27 : 3 = 7$

$45 : 5 = 9$

$36 : 4 = 9$

$54 : 6 = 9$

Найдите периметр
прямоугольника

5 см




3 см

Тема урока:

« Умножение суммы на число »

Задача.

В саду на двух яблонях сидели по 4 воробья и по 3 снегиря. Сколько всего птиц было в саду?



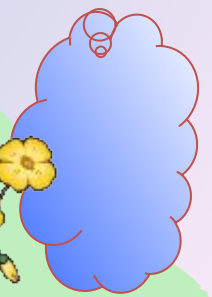









$$(4 + 3) * 2 = 7 * 2 = 14$$

$$4 * 2 + 3 * 2 = 14$$

$$(4 + 3) * 2 = 4 * 2 + 3 * 2$$



Ребята, берегите зрение!



1 вариант

$$(7+1) \times 3 = 8 \times 3 = 24$$

$$(7+1) \times 3 = 7 \times 3 + 1 \times 3 = 24$$

$$(5+2) \times 4 = 7 \times 4 = 28$$

$$(5+2) \times 4 = 5 \times 4 + 2 \times 4 = 28$$

2 вариант

$$(3+5) \times 3 = 8 \times 3 = 24$$

$$(3+5) \times 3 = 3 \times 3 + 5 \times 3 = 24$$

$$(6+2) \times 3 = 8 \times 3 = 24$$

$$(6+2) \times 3 = 6 \times 3 + 2 \times 3 =$$

24

Проверка тестов

1 тест	2 тест	3 тест
7	да	б
16	нет	в
18	нет	в
9	да	а
8	да	в

Лесенка знаний



В

Б

Хочу узнать больше

А

Всё понятно, было
интересно

Ничего не понял



Домашнее задание.

Учебник стр.6, № 2, 3.

