





# К доске I тур

Викторина  
естественно - математического  
цикла



Шишкина Ксения Николаевна  
Учитель математики, информатики  
МБОУ «Старочервовская ООШ»  
Кемеровского района Кемеровской области

# Первый урок



математика

3

4

5

физика

3

4

5

химия

3

4

5

биология

3

4

5

география

3

4

5



ПЕРЕМЕНА




Вопрос:

Математика на 3

Какая геометрическая  
фигура нужна  
для наказания детей.

ОТВЕТ





Угол




далее



Вопрос:

Математика на 4


Какие математические  
знаки бывают круглыми,  
квадратными и  
фигурными



ответ



# Скобки




далее

Вопрос:


Математика на 5

Сколько ступенек у  
лестницы, где средняя  
ступенька восьмая?

ОТВЕТ



# 15 ступеней



далее



Вопрос:


Физика на 3

Какой учёный обещал  
перевернуть мир, если  
ему дать точку опоры?

ОТВЕТ



# Архимед



далее

Вопрос:

Физика на 4

В наполненном до краев ведре с водой объемом 10 л плавает кусок льда массой 500 г.

Сколько воды выльется когда лед растает?



ОТВЕТ

# Нисколько.

# Уровень воды понижится.



далее

Вопрос:


Физика на 5

Какой расплавленный  
металл может  
заморозить воду?

ответ



# РТУТЬ




далее

Вопрос:

Химия на 3

Назовите три агрегатных  
состояния воды.

ответ



Жидкая,  
твёрдая,  
парообразная.

далее



Вопрос:

Химия на 4




Так называют химический элемент, и планету, и реку, и бога неба в греческой мифологии.

ответ



# Уран




далее

Вопрос:

Химия на 5

Какого газа в атмосфере  
земли больше?

ответ



Азота



далее




Вопрос:

Биология на 3

Сколько ног у пауков?

ответ



The background features a vertical gradient from dark orange at the top to a lighter, golden yellow at the bottom. Overlaid on this are several dark brown silhouettes of leaves with prominent veins, scattered across the frame.

Восемь

далее


Вопрос:

Биология на 4

Сколько крыльев у  
блохи?

ответ





# у блохи нет крыльев

[далее](#)




Вопрос:


Биология на 5

Сколько резцов во рту  
обязан иметь каждый  
здоровый человек?

ответ



# Восемь




далее

Вопрос:

## География на 3

Что на карте указывает  
направление на север?



ОТВЕТ





# МЕРЕДИАН


далее

Вопрос:

География на 4

Плоскогорье относится к  
горам или равнинам?

ОТВЕТ





# К РАВНИНАМ


далее

Вопрос:

География на 5

Перечислите три  
отличительных свойства  
циклона и антициклона.

ответ



1. Давление
2. Температура
3. Направление  
вращения  
воздушных масс

далее



35010K

**O-ZONE**

**PRINTE NORI**

