



МАТЕМАТИЧЕСКОЕ ПУТешЕСТВИЕ

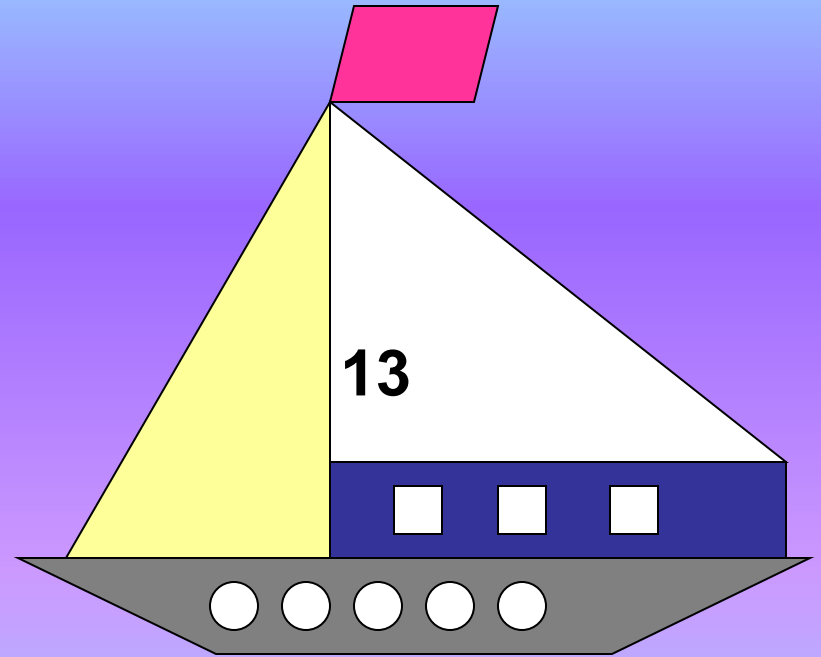
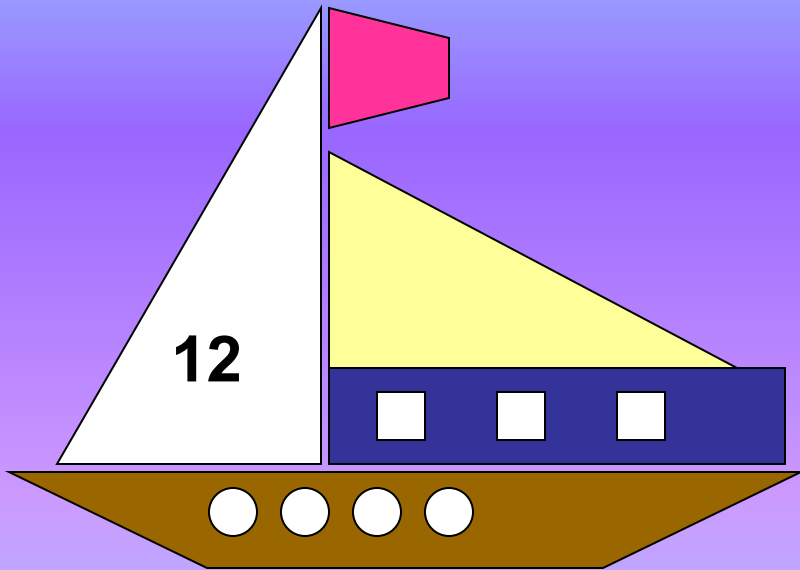


**Внимание! Внимание!
Всем! Всем! Всем!
Приглашаем вас в
математическое путешествие,
полное опасностей
и приключений.**



Выбор корабля

- Найди отличия



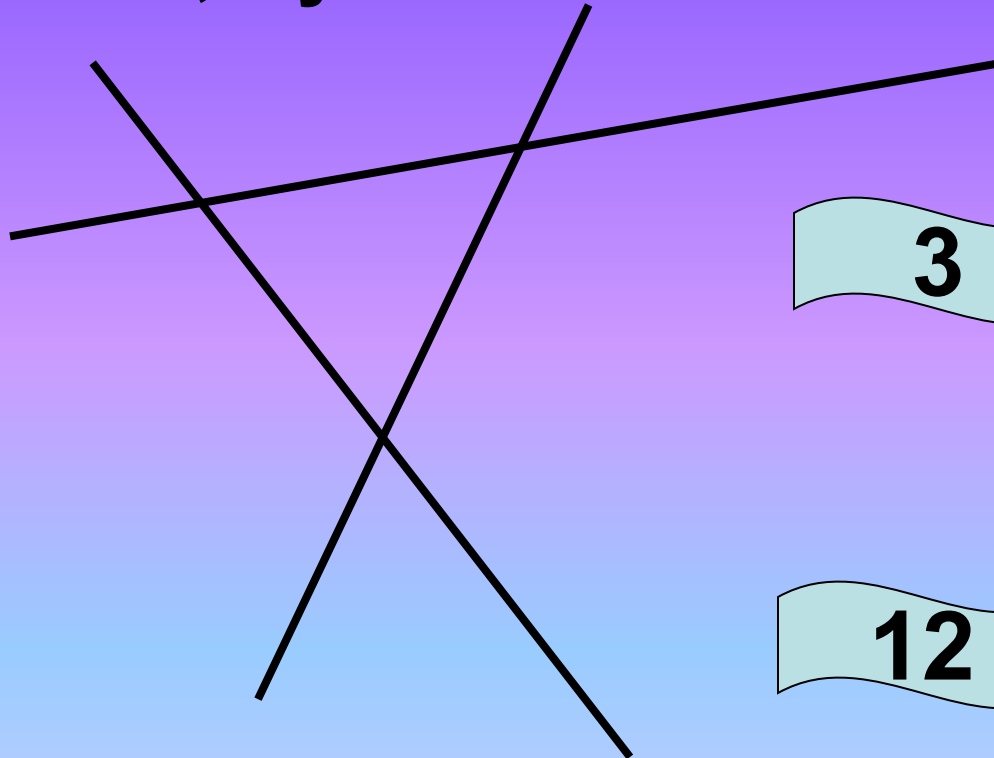

- Сосчитай геометрические фигуры:



- В каком корабле больше фигур?

Канаты

- Сосчитай, сколько прямых -?;
отрезков - ?; лучей-?



3

3

12


Проложить курс

$$\boxed{6} + \boxed{4} - \boxed{7} + \boxed{6} - \boxed{1} + \boxed{1} - \boxed{9} = \boxed{0}$$

- Число, предыдущее 7;
- число, последующее 3;
- число, которое находится между числами 6 и 8;
- число, которое больше, чем 4 на 2;
- число, которое меньше, чем 3 на 2;
- самое маленькое число, которое используется при счете;
- самое большое однозначное число.



Таинственное письмо



**Нарисуй фигуру,
не отрывая
карандаша от
бумаги и не
проводя один и
тот же отрезок
дважды.**

Помогите

острове

дикиннинное

животное

боимся

не можем поймать

Координаты острова

Запиши арабскими цифрами и проверь
правильность вычислений.

$$\text{IX} - \text{III} = \text{IV}$$

нет

$$\text{II} + \text{III} = \text{V}$$

да

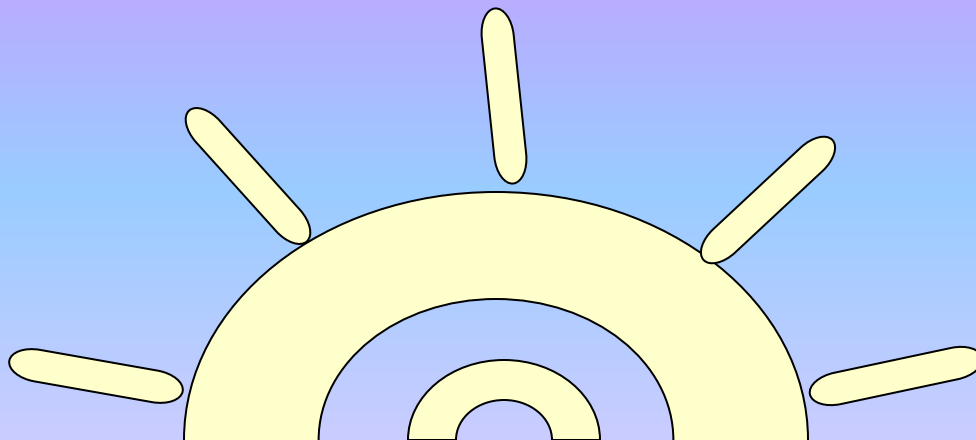
$$\text{VIII} - \text{VI} = \text{X}$$

нет

Шторм

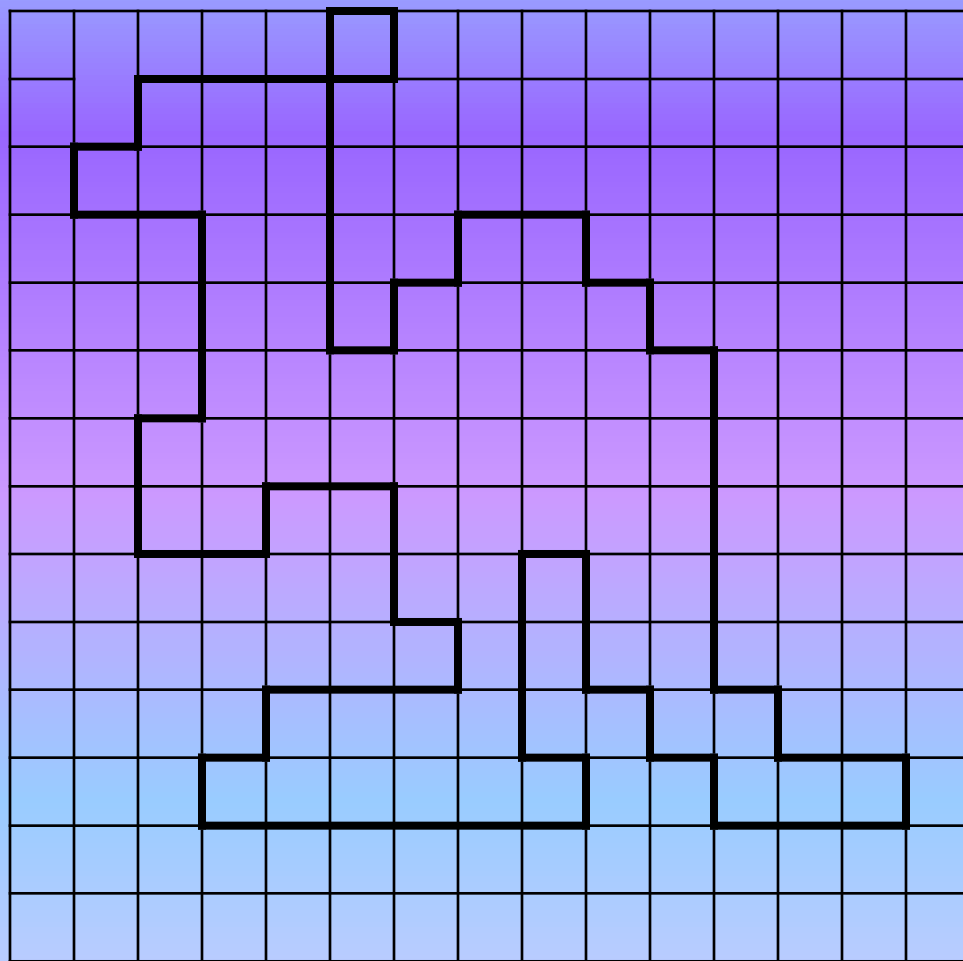
Найди закономерность

9, 6, 7, 4, 5, 2, 3.



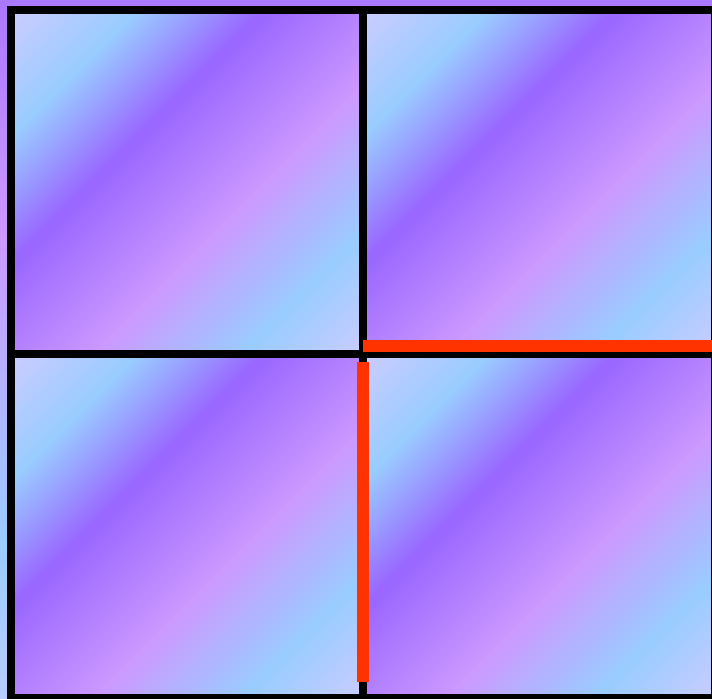
Загадочное животное

- Графический диктант



Клетка

- Убери две палочки так, чтобы получилось два квадрата.



Построение команд

- Выпиши числа по порядку

1, 3, 4, 6, 8,
10, 13, 16, 18,
20, 22, 25, 27,
29, 30, 32

10	25	8	6
30	1	22	16
4	29	3	20
18	13	27	32

Награж
дение

Молодцы!

