

Час занимательной математики

Задание 1

Угадайте о какой цифре идёт речь в этих загадках?

- ◆ 1) Эта цифра -
дверной
замочек, сверху
крюк, внизу
кружочек

2) Эта цифра -
кочерга,
у неё одна нога.


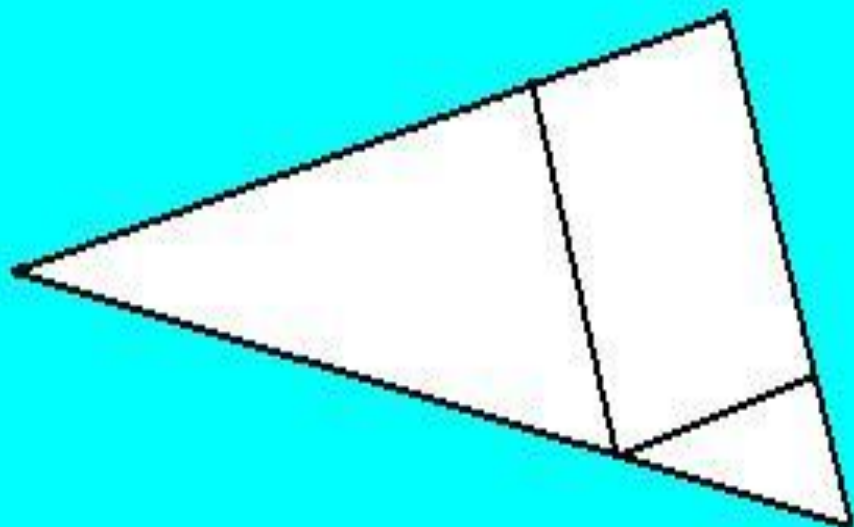
Проверь себя

6

7

Задание 2

Найди на рисунках 3 треугольника и 3 четырёхугольника.



Задание 3

21, 19, 30, 25, 3, 12, 9, 15, 20, 27.

Из данных чисел нужно выбрать и записать три числа, которые в сумме составляют 60. Запишите все возможные варианты.

Проверь себя

- ◆ $21+19+20=60$
- ◆ $27+3+30=60$
- ◆ $25+15+20=60$
- ◆ $27+21+12=60$
- ◆ $21+9+30=60$

Задание 4

- ◆ Задумай однозначное число,
- ◆ Умножь на 2,
- ◆ Прибавь 3,
- ◆ Умножь на 4
- ◆ Вычти 12
- ◆ Раздели на задуманное число.
- ◆ Сколько у тебя получилось?

Проверь себя

◆ Ответ: 8

Задание 5 .

- как называется
треугольник,
у которого один
угол прямой?

- если у
треугольника
один угол прямой,
то какие два других
угла?

Проверь себя

Ответ:

треугольник называется -
прямоугольный

Ответ:

Два других угла - острые.

Задание 6


Бабочка летит выше, чем пчела.
Пчела летит выше, чем стрекоза.
Кто летит выше всех?

Поставь огурец слева от моркови,
но справа от помидора.

Проверь себя



Бабочка летит выше всех - выше, чем пчела, пчела летит выше, чем стрекоза





Проверь себя

Огурец справа от помидора и слева от морковки




Задание 7 - эстафета





Проверь себя



Проверь себя

Задание 8

занимательные квадраты

<i>7</i>		<i>3</i>
	<i>9</i>	
<i>15</i>		

<i>12</i>		
	<i>10</i>	
<i>4</i>		<i>8</i>

Проверь себя

7	17	3
5	9	13
15	1	11

12	2	16
14	10	6
4	18	8

Задание 9

Реши задачу:

Шёл мальчик в магазин и по дороге нашёл 5 копеек.
Сколько денег найдут два мальчика?

Проверь себя

- ◆ Два мальчика найдут те же потерянные 5 копеек.

Задание 10




Реши задачу:

На дереве сидели 3 птички. К ним прилетели ещё 2 птички. Кот подкрался и схватил одну птичку. Сколько птичек осталось сидеть на дереве?

Проверь себя

На дереве не осталось ни одной птички. Они испугались кота и улетели.

Задание 11



Нарисуй
недостающую
фигуру

