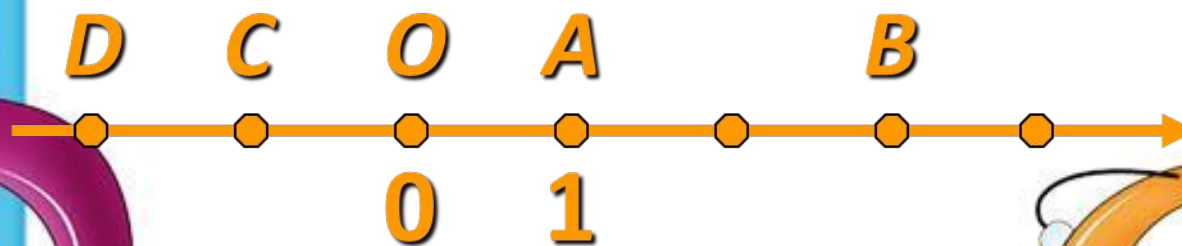
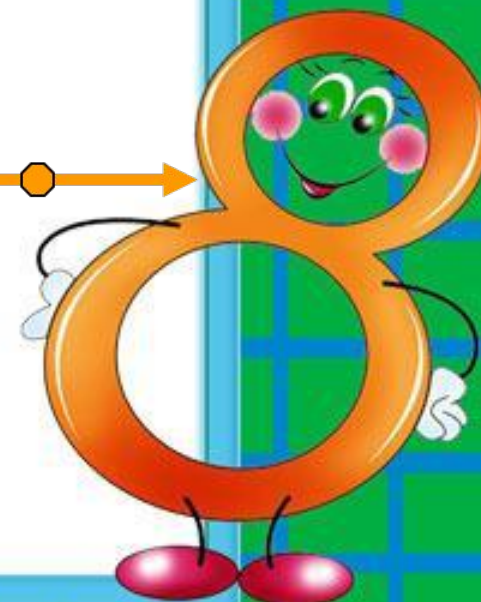
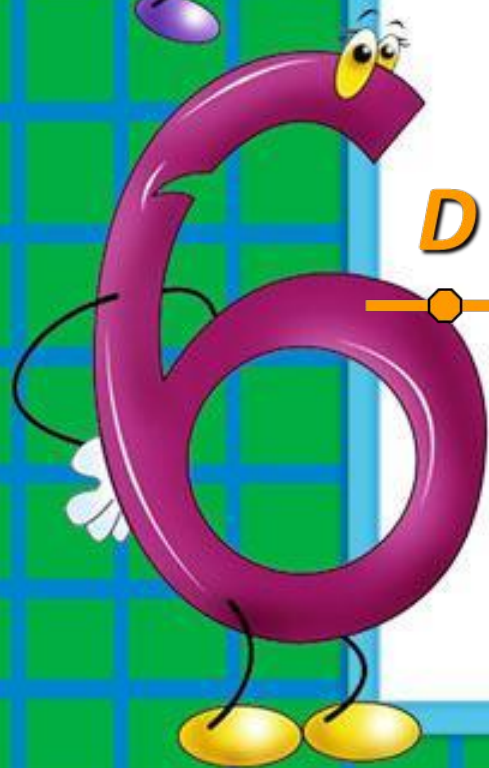
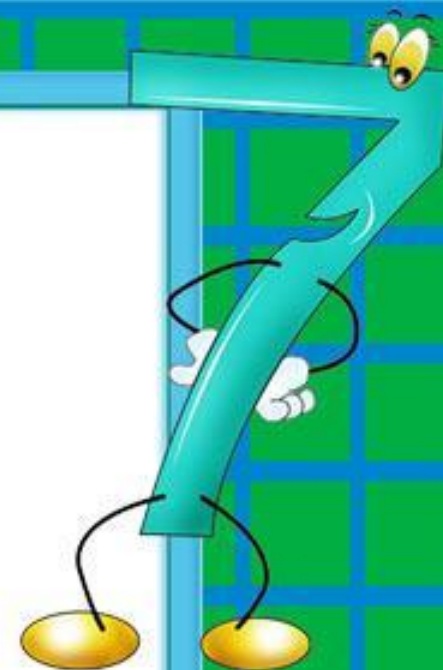


Координаты на прямой



Прочитайте правильно

выражение:

$$a = -15$$

$$x = -0,5$$

$$y = 23$$

$$x = -6,5$$

$$a = 45$$

-25 левее -4

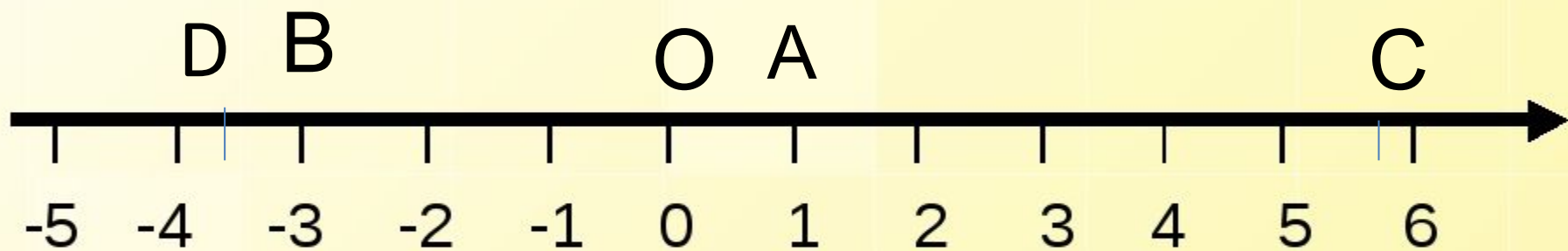
-4 левее 3

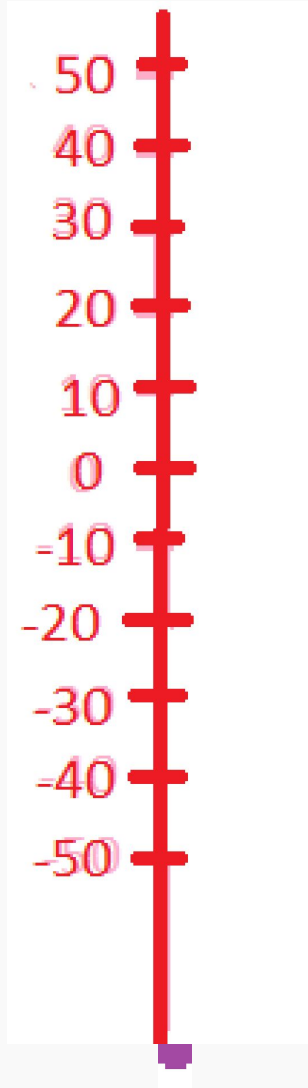

-2 правее -9

7 правее -3



Координатная прямая





893. Из спортивного лагеря (рис. 53) выходит группа туристов и движется по шоссе. Покажите, где будут находиться туристы: а) через 3 ч, если они идут со скоростью 3 км/ч; б) через 2 ч, если они идут со скоростью 4 км/ч. Что еще надо знать, чтобы на каждый вопрос был только один ответ?

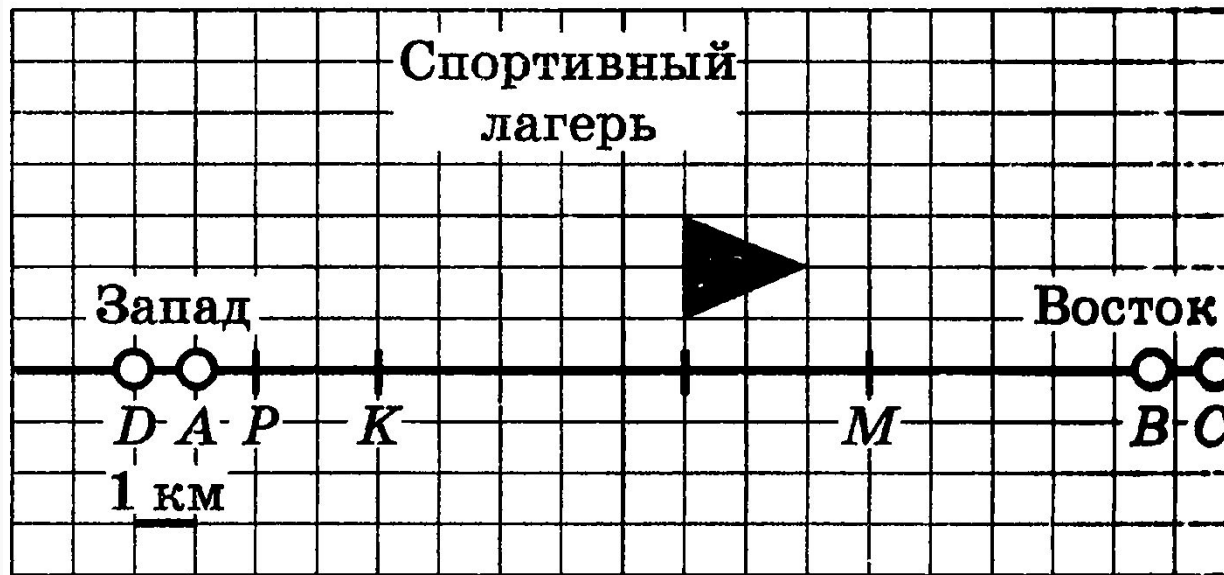


Рис. 53



№911

Древнегреческий учёный **Аристотель** родился в **384г**, а умер в **322г**.

Великий математик **Пифагор** родился в **570г**, умер в **500г**.

Историк **Плутарх** родился в **46г**, умер в **127г**.

- Кто из этих учёных родился раньше?
- Сколько лет прожил каждый из них?

Пифагор 70лет

570 500

Аристотель 62г

384 322

Плутарх 81

46 127

