

своя игра

своя игра

М



Фигуры	<u>10</u>	<u>20</u>	<u>30</u>	<u>40</u>	<u>50</u>
Числа	<u>10</u>	<u>20</u>	<u>30</u>	<u>40</u>	<u>50</u>
Сообрази- тельность	<u>10</u>	<u>20</u>	<u>30</u>	<u>40</u>	<u>50</u>
Внимание	<u>10</u>	<u>20</u>	<u>30</u>	<u>40</u>	<u>50</u>

10

баллов

Узнай фигуру по описанию.

У этой фигуры противоположные стороны
равны.





Прямоугольник



20 баллов

Сколько надо сделать разрезов, чтобы разделить овал на 4 части?

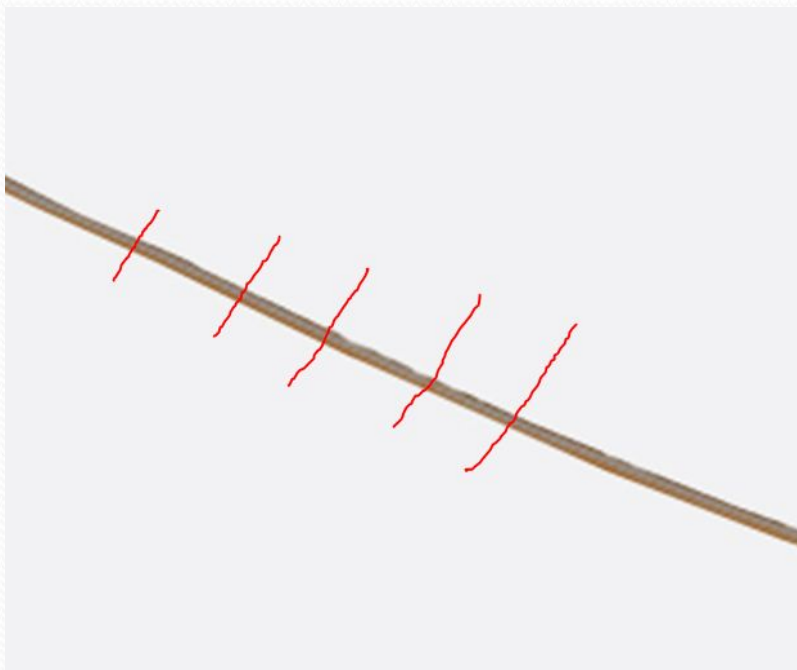


Два разреза



30 баллов

Верёвку разрезали в 5 местах.
Сколько частей получилось?

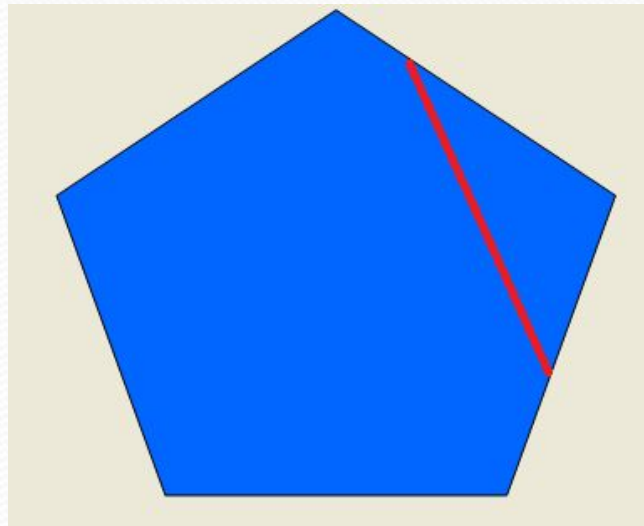


6 частей



40 баллов

У Катиного пятиугольника отломился один угол.
Как теперь называется Катина фигура?





Шестиугольник



50 баллов

Верно ли утверждение: «Если длины всех сторон прямоугольника равны, то этот четырёхугольник-квадрат»?



Нет, может быть ромб.



10 баллов

У Сашки в кармашке
Конфеты в бумажке.
Он дал по конфете
Свете и Пете, Ирине, Галине,
Марине и Нине,
И сам съел конфету.
А больше нету.
Сколько было конфет?

7 конфет.



20 баллов

В одном горшке 6 маленьких кактусов.

Сколько нужно купить ещё горшков, чтобы в каждом было по 2 кактуса?



Ещё нужно 2 горшка.



30 баллов

Столяр сделал 20 ножек для столов.

Для скольких столов он заготовил ножки?



Для 5 столов.

40 баллов

Найди 2 числа, если их сумма равна 15 и одно из них на 3 больше другого?



АЙ. МОЛОДЦА!!

$9+6=15$, $9 > 6$ на 3



50 баллов

Папе, маме и сыну вместе 50 лет.

Сколько лет будет им всем вместе через
2 года?



56 лет.





10 баллов

Во дворе гуляли гуси и собаки.

Мальчик посчитал их лапы.

Всего 8 лап.

Сколько было гусей и сколько было собак?



1 собака и 2 гуся: $4+2+2=8$ лап



баллов

В вазе было 9 роз. Мальчик подарил маме, бабушке и сестре по 3 розы, и три розы остались в вазе?

Как такое могло получиться?



Кому-то подарил вместе с вазой.



Как из двух палочек сделать число 10?

X = 10

Римская цифра X.




50 баллов

У Бабы-яги собрались 15 внуков и внучек.
Количество внучек составляет половину
количества внуков.

Сколько внуков и внучек у Бабы-яги?

5 внучек и 10 внуков.



10 баллов

Росло 2 яблони. На каждой 5 больших веток, на каждой большой ветке по 4 маленьких, на каждой маленькой по 3 груши.

Сколько всего груш?



Ни одной, так как на яблоне груши не растут.



20 баллов

В город ехало 2 автобуса. По дороге они встретили 3 грузовика.

Сколько машин ехало в город?



2 автобуса.



баллов

Гном Загадалка опаздывал на встречу с друзьями. На конечной станции метро он, запыхавшись, вбежал в 1 вагон. На второй станции он пересел во 2 вагон, на третьей – в 3 и затем на каждой станции переходил в следующий вагон.

Из какого вагона Загадалка вышел на седьмой станции?



Из 6 вагона.



40 баллов

Валя - брат Саши, но Саша Вале не брат.

Кто Саша?



Саша- это сестра.



50 баллов

У Маши на руках 10 пальцев.
Сколько пальцев на 8 руках?



40 пальцев.



Молодцы

Использованные источники

<http://yandex.ru/images/>

Максимова Т.Н.

Интеллектуальный марафон: 1-4 классы. – М.:ВАКО, 2009.-208 с.- (Мастерская учителя).

- <http://www.liveinternet.ru/users/3331706/rubric/2936181/page7.html>
- <http://lori.ru/2090874>
- <http://cn.shopotam.ru/taobao/18817686397-item.html>
- <http://ne-kurim.ru/forum/threads/s-uverennostju.14060/page-3>
- <http://golddragon.info/page-seks-mama-papa-dochj-sin-forum>
- http://900igr.net/Detskie_prezentatsii/biologiya/Domashnie_-_na_ferme.files/kartinki_zhivotnykh_025_Gusi.html
- <http://igamberdieva.ru/amerikanskij-fokshaund/>
- http://forum.hobbyportal.ru/album_comment.php?pic_id=4754
- <http://latest-taxnews.rhcloud.com/preview/academic-calendar-2014-2015-gonzaga-university/>
- <http://xn--www-5cd4awhaz.openclass.ru/node/183129?page=3>
- <http://novostey.com/business/news514251.html>
- <http://www.millionka.ru/news/hotnews/8892-administraciya-goroda-navodit-poryadok-na-konechnyx-ostanovkax-transporta.html>
- <http://moeimja.kz/tolkovanie-snov/gnom.html>
- http://pictures.ucoz.ru/photo/detskie_kartinki/malchik_i_devochka_derzhatsja_za_ruki/3-0-1465
- <http://www.liveinternet.ru/users/3564066/rubric/1329070/>