

«ПАЛИТРА ТОП СЛАЙДОВ - 2015»

VASHABNR.INFO
НАЧАЛЬНАЯ ШКОЛА



ТЕСТ ПО ТЕМЕ ВОДА И ЕЁ СВОЙСТВА


3 КЛАСС

УМК «ПЕРСПЕКТИВНАЯ НАЧАЛЬНАЯ ШКОЛА»



Подготовила
учитель начальных классов
МОУ СОШ №1 МО «Барышский район»
Ульяновской области
Путова Алла Юрьевна





ДОРОГИЕ РЕБЯТА!



**Предлагаю проверить свои знания по
теме: «Вода и её свойства».**


Выберите один правильный ответ.

**При выполнении работы не
торопитесь, будьте внимательны.**



Желаю удачи!



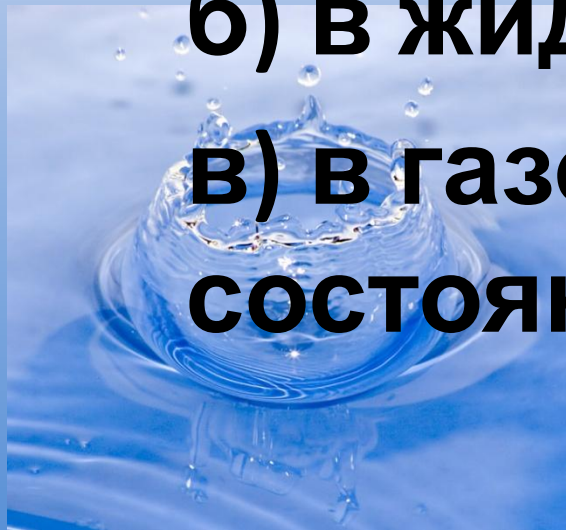


1. ЛЁД И СНЕГ – ЭТО ВОДА...

а) в твердом состоянии;

б) в жидком состоянии;

**в) в газообразном
состоянии.**



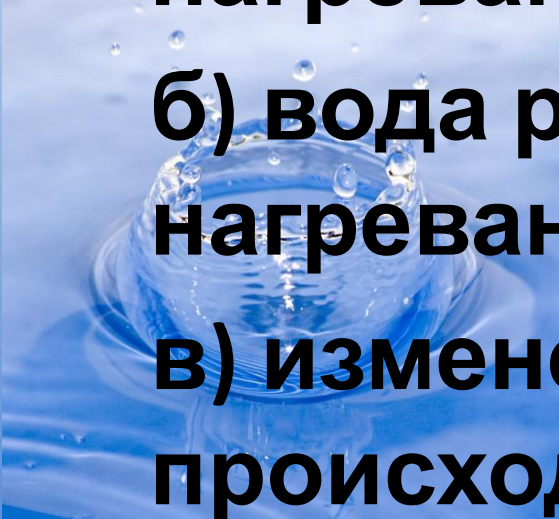


2. ЧТО ПРОИСХОДИТ С ВОДОЙ ПРИ НАГРЕВАНИИ?

**а) вода сжимается при
нагревании;**

**б) вода расширяется при
нагревании;**


**в) изменений с водой не
происходит.**






**3. ПЕРЕХОД ВОДЫ ИЗ
ЖИДКОГО СОСТОЯНИЯ В ПАР
НАЗЫВАЕТСЯ...**

- а) замерзание;**
- б) испарение;**
- в) текучесть**



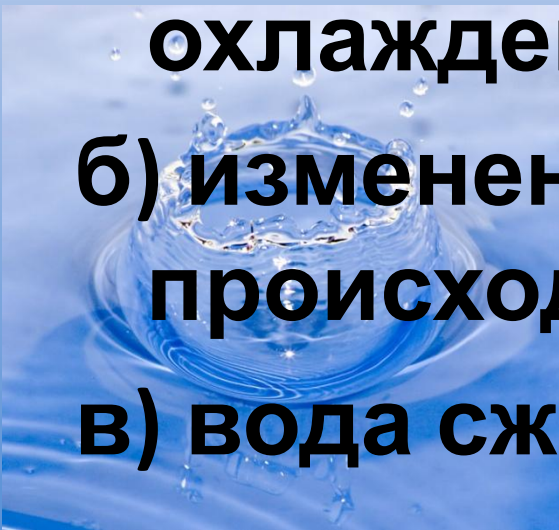




4. ЧТО ПРОИСХОДИТ С ВОДОЙ ПРИ ОХЛАЖДЕНИИ?

а) вода расширяется при охлаждении;

б) изменений с водой не происходит;

в) вода сжимается при охлаждении






**5. ТЫ ВЫМЫЛ ПОЛ В КЛАССЕ.
ПОЧЕМУ ОН ЧЕРЕЗ НЕКОТОРОЕ
ВРЕМЯ СТАЛ СУХИМ?**



**а) вода с поверхности пола
испарилась;**



**б) вода впиталась в поверхность
пола;**

**в) вода осталась на подошвах
обуви учеников, которые ходили**

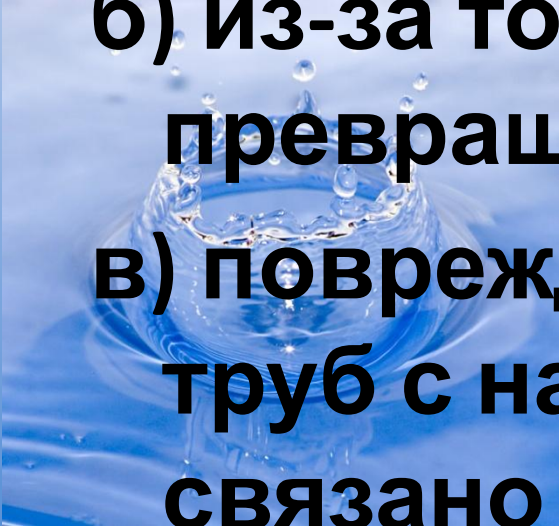




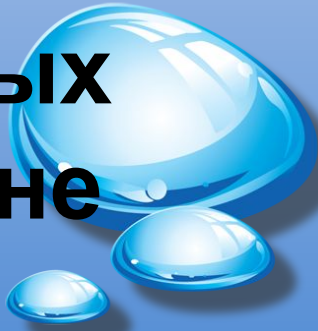
6. Из-за чего зимой могут лопаться водопроводные трубы?

а) из-за того, что вода, превращаясь в лёд, расширяется;

б) из-за того, что вода, превращаясь в лёд, сжимается;



в) повреждение водопроводных труб с наличием в них воды не связано







**7. ИЗ КАКОГО СОСУДА
ОДИНАКОВОЕ КОЛИЧЕСТВО
ВОДЫ ИСПАРИТСЯ БЫСТРЕЕ?**

а) из бутылки;

б) из стакана;

в) из блюдца







8. КТО ИЗОБРЕЛ ШКАЛУ НА ТЕРМОМЕТРЕ?

а) Галилей

б) Цельсий

в) Юлий Цезарь





ПРОВЕРЬ СЕБЯ:

1 а

2 б,

3 б,

4 в,

5 а,

6 а,

7 в,

8 б






**Материал взят из методического
пособия «Окружающий мир. 3 класс»**

**О.Н. Федотова, Г.В. Трафимова,
С.А.Трафимов, Л.А. Царева**

<http://www.akademkniga.ru/library/#30>





- http://lotoskay.ucoz.ru/load/shablony_dlja_prezentacij/priroda/voda/144-1-0-2867

