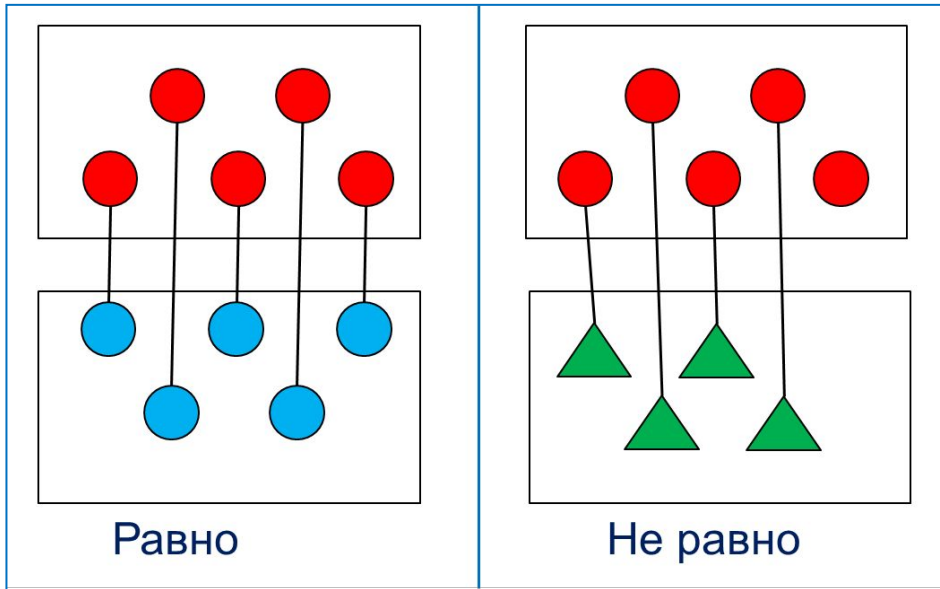


# «Моя математика» 1 класс

Урок 8

Тема урока: «Отношения равно, не равно»



*Автор презентации  
Татузова Анна Васильевна  
<http://avtaturzova.ru>  
учитель школы № 1702  
г. Москвы*

**Советы учителю.**

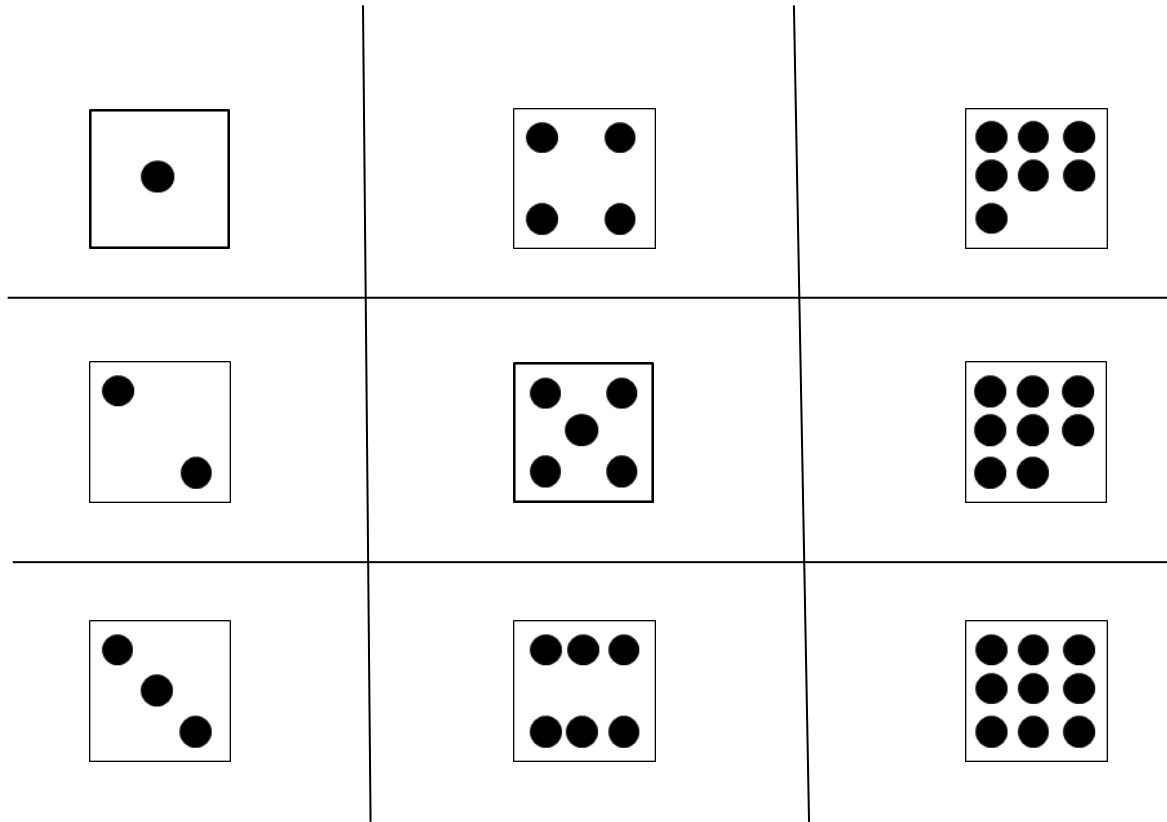
*Презентация к уроку составлена на основе заданий, расположенных в учебнике. Рекомендую открыть учебник на странице с данным уроком, прочитать задания и посмотреть их в данной презентации в режиме демонстрации.*

**Внимание!**

*Некоторые задания можно выполнять интерактивно. Например, продолжить ряд, сравнить или вставить пропущенные числа. Для этого презентацию надо перевести в режим редактирования.*


# Урок 8. Отношения равно, не равно

1. Помоги Пете назвать число точек на каждой карточке.



# Урок 8. Отношения равно, не равно

## 2. Продолжи ряд.










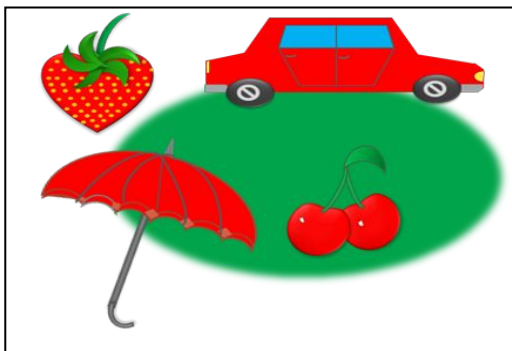
### **Внимание!**

*Данное задание можно выполнить интерактивно.*

*Для этого презентацию надо перевести в режим редактирования.*

# Урок 8. Отношения равно, не равно

3. Что общего у предметов на рисунках Кати?  
Какую карточку можно подобрать к каждому рисунку?









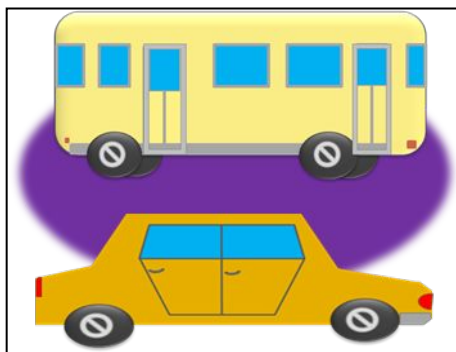

**Внимание!**

Данное задание можно выполнить интерактивно.

Для этого презентацию надо перевести в режим редактирования.

# Урок 8. Отношения равно, не равно

3. Что общего у предметов на рисунках Кати?  
Какую карточку можно подобрать к каждому рисунку?



# Урок 8. Отношения равно, не равно


4. Сравни число девочек и мальчиков в классе Кати и Пети. Как это сделать не пересчитывая ребят.



поровну

## Урок 8. Отношения равно, не равно

**5.** Сравни число воробьёв и галок на рисунке Пети, не пересчитывая птиц.

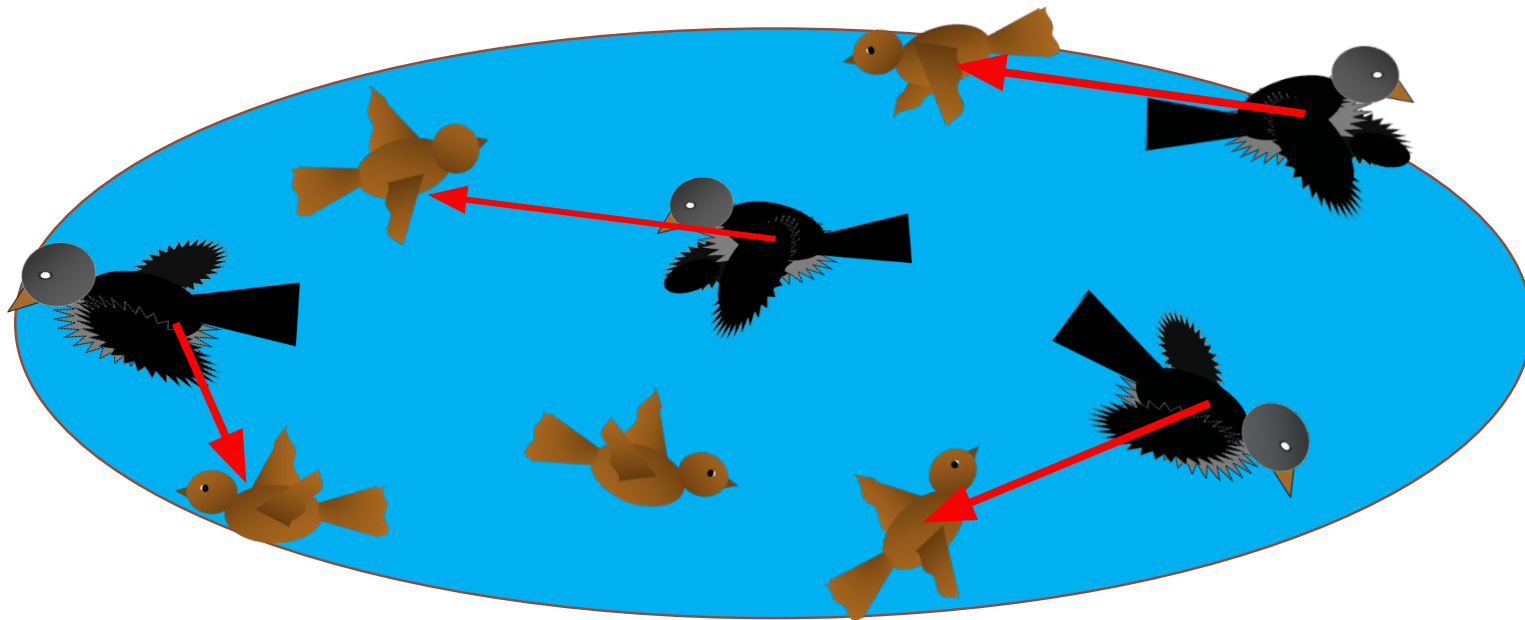


### **Внимание!**

*Данное задание можно выполнить интерактивно (соединить предметы с помощью пера).*

## Урок 8. Отношения равно, не равно

**5.** Сравни число воробьёв и галок на рисунке Пети, не пересчитывая птиц.



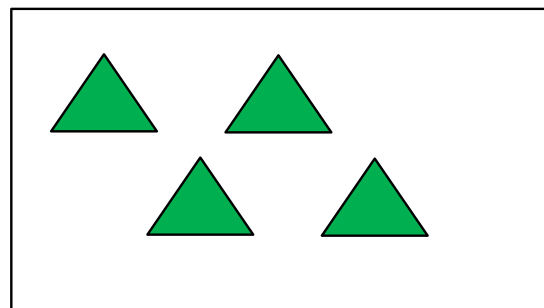
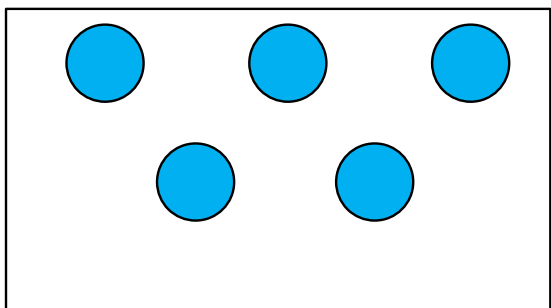
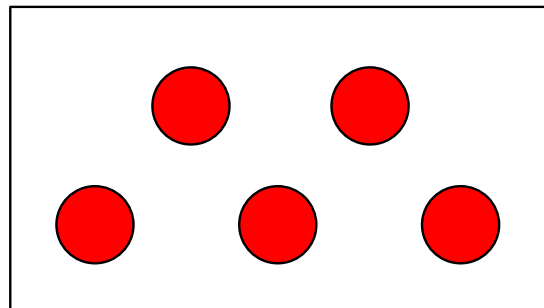
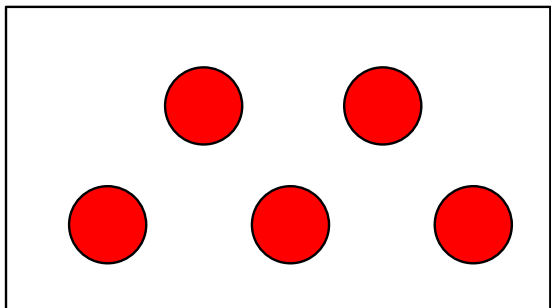
равно

не равно



## Урок 8. Отношения равно, не равно

**!** Количество предметов в разных группах можно сравнивать так:

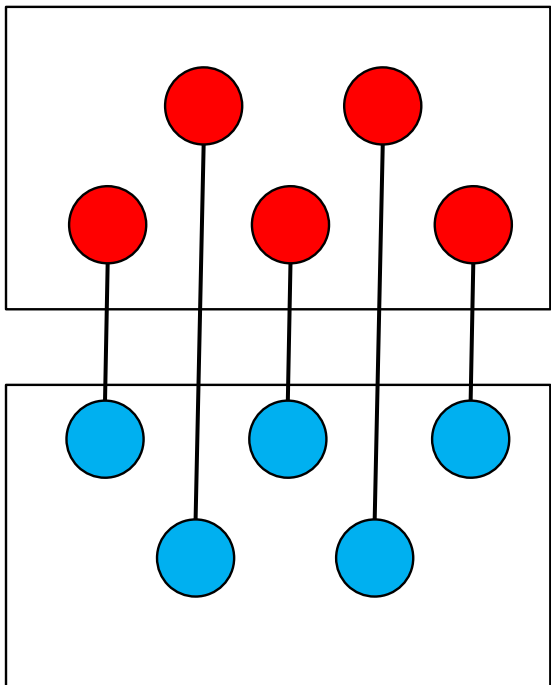


### **Внимание!**

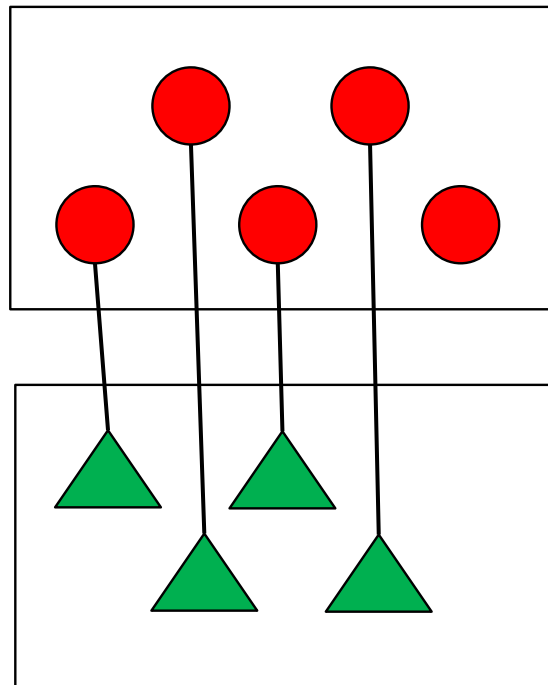
*Данное задание можно выполнить интерактивно (соединить предметы с помощью пера).*

# Урок 8. Отношения равно, не равно

! Количество предметов в разных группах можно сравнивать так:



Равно



Не равно

*Спасибо!*