





# ВИКТОРИНА ПО МАТЕМАТИКЕ





ВОСПИТАТЕЛЯ ШКОЛЫ –  
ИНТЕРНАТА №49  
МАХЛАТОВОЙ КСЕНИИ  
НИКОЛАЕВНЫ

# СОДЕРЖАНИЕ

- ✓ Четвертый лишний
  - ✓ Продолжи ряд
  - ✓ Подбери ответ
  - ✓ Найди ошибку
  - ✓ Реши задачу
  - ✓ Геометрическая загадка
- 

# ЧЕТВЕРТЫЙ ЛИШНИЙ



[К содержанию](#)

# ПРОДОЛЖИ РЯД

6      18      30      42      54

3  
6

4  
8

2  
4

12

6  
0

[К содержанию](#)

# ПОДБЕРИ ОТВЕТ

$258 + 343 =$

$659 - 230 =$

$678 - 500 =$

$246 + 90 =$

$250 : 5 =$

$640 : 8 =$

$30 * 5 =$

150      178      60  
            1      429      33  
                    80      5      6  
                                    0

[К содержанию](#)

НАЙДИ ОШИБКУ  
В КАКИХ ПРИМЕРАХ ОШИБКА?

$$250+360 = 500$$

$$300+ 205 = 505$$

$$(208 - 200) * 8 = 64$$

$$400 - ( 500 - 125) = 130$$

# РЕШИ ЗАДАЧУ

В третьем классе 28 учеников. Готовясь к празднику, 8 из них разучивают танцы, 9 репетируют песни, а остальные учат стихи. Сколько учеников учат стихи? Выбери правильный ответ.

Решение 1:

1)  $8+9 = 17$  (уч)

2)  $28-17 = 11$  (уч)

**Ответ: 11 учеников учат стихи**

Решение 2:

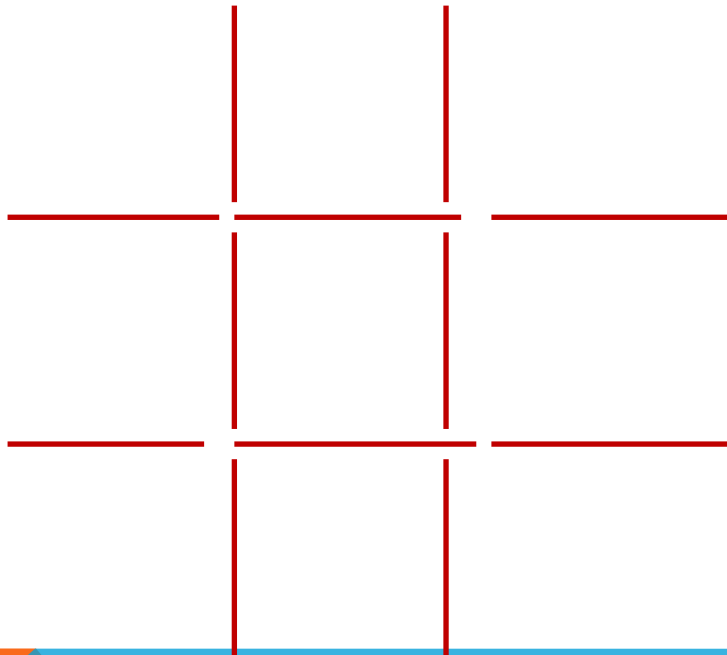
1)  $28 - 8 = 20$  (уч)

2)  $20+ 9 = 29$  (уч)

**Ответ: 29 учеников учат стихи**

# ГЕОМЕТРИЧЕСКАЯ ЗАГАДКА

**Переложите три линии так, чтобы получилось  
ровно три квадрата**



[К содержанию](#)



СПАСИБО ЗА ВНИМАНИЕ



[www.faccinefb.com](http://www.faccinefb.com)

# ИСПОЛЬЗУЕМАЯ ЛИТЕРАТУРА И САЙТЫ

