

Площадь прямоугольника

Урок математики в третьем
классе






«УМКА

»



Научно-исследовательский институт





Блиц -турнир


- 1. Увеличьте 8 в 6 раз.
- 2. Во сколько раз 45 больше , чем 9?
- 3. Найди произведение 8 и 7.
- 4. Первый множитель 4 , произведение 36. Чему равен второй множитель?
- 5. Я задумала число, увеличила его в 6 раз и получила 48. Какое число я задумала?
- 6. На сколько нужно разделить 24, чтобы получилось 4.
- 7. Какое число нужно разделить на 6, чтобы получилось 6?
- 8. Какое число я умножила само на себя и получила 25?
- 9. Во сколько раз 49 больше, чем 7?



Найдите лишнюю фигуру



Площадь прямоугольника



Чтобы найти площадь
прямоугольника надо длину

ширину

$$S_{\text{пр}} = a \cdot b$$



Строим дом!!!

