

Математический тренажер для 1 класса

Тема: «Сложение и вычитание в
пределах 10»

Список игровых заданий:

Задания на выбор примера с заданным ответом:

1. «На рыбалке» (выбери примеры с ответом 5) (слайд 3);
2. «Игра в кубики» (выбери примеры с ответом 8) 2. «Игра в кубики» (выбери примеры с ответом 8, 9) (слайды 4 – 5);
3. «Мыльные пузырьки» (выбери примеры с ответом 7) (слайд 6);







Задания на выбор ответа из нескольких:

4. «Метко в цель» (слайд 7);
5. «Светофор» (слайд 8);
6. «Строим дом» (слайд 9);

Круговые примеры:

7. Домино «Кот на отдыхе» (слайд 10);
8. Круговые примеры «Чертово колесо» (слайд 11).

«На рыбалке» (выберите примеры с ответом 5)



«Игра в кубики» (постройте башню из кубиков с ответом 9)

$$= 9$$

$$4+4$$

$$1+7$$

$$8+1$$

$$6+3$$


$$4+5$$

$$6+4$$

$$2+7$$

$$3+5$$

$$3+4$$



$$6+2$$



«Игра в кубики» (постройте башню из кубиков с ответом 8)

= 8

6+3

1+7

4+4

6+4

8+1

4+5

3+5

3+4

2+7



6+2

HOME

ENTER

«Мыльные пузырьки» (выберите примеры с ответом 7)

$$\begin{array}{r} 4 + \\ 4 \end{array}$$

$$\begin{array}{r} 8 - \\ 1 \end{array}$$

$$\begin{array}{r} 5 + \\ 3 \end{array}$$

$$\begin{array}{r} 4 + \\ 3 \end{array}$$


$$\begin{array}{r} 3 + \\ 7 \end{array}$$

$$\begin{array}{r} 2 + \\ 5 \end{array}$$

$$\begin{array}{r} 10 \\ - 3 \end{array}$$

$$\begin{array}{r} 9 - \\ 2 \end{array}$$

$$\begin{array}{r} 10 \\ - 6 \end{array}$$



HOME

ENTER

«Метко в цель»

$$9 - 3 =$$

4

6

5

$$2 + 3 =$$

3

4

5

$$2 - 1 =$$

1

2

3

$$4 + 0 =$$

4

5


6

HOME

ENTER

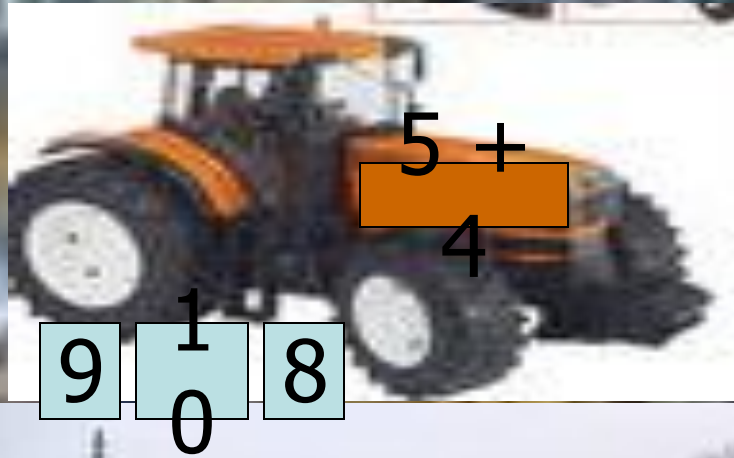


«Светофор»



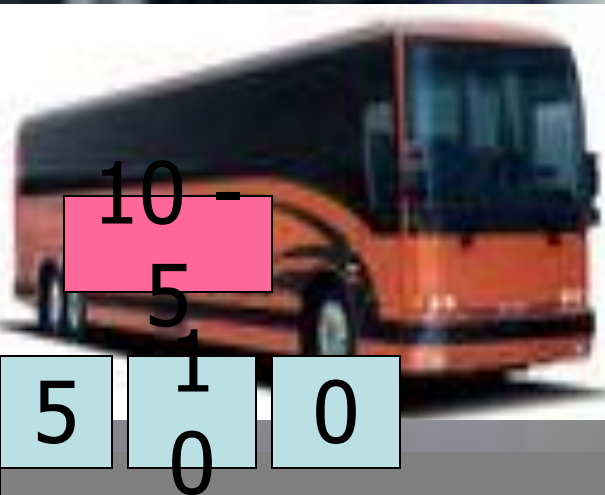
10 -
6

4 3 2




5 +
4

9 1 8
0



10 -
5

5 1 0
0



9 -
6

3 4 5



«Строим дом»



HOME

ENTER

Домино «Кот на отдыхе»

$9-7 \quad | \quad 10=$

$6+4 \quad | \quad 6 =$

$3+3 \quad | \quad 7 =$

$6-5 \quad | \quad 2 =$

$1+1$

$=8$

$=1$

?

$5+4$

$5+3$



HOME

ENTER

$$9+0 \mid 9=$$

$$=10 \mid 9-6$$

$$=2 \mid 5-5$$

$$4+5 \mid 0=$$

Чертovo колесо

$$7-1 \mid 5=$$

$$=6 \mid 7+3$$

$$=3 \mid 6-7$$

$$8-3 \mid 9=$$

HOME

Список литературы:

1. Вапняр Н.Ф., Моро М.И. Тетрадь по математике для 1 класса трехлетней начальной школы. В 2 ч. – М., 1992.
2. Волкова С.И. Математика: Тесты: 1-й кл. – Тула, М., 2004.
3. Герман О.И. Математика. 1 класс. Карточки заданий. – Саратов, 2004.
4. Жикалкина Т.К. Игровые и занимательные задания по математике для 1 класса четырехлетней начальной школы. – М., 1989.
5. Моро М.И., Вапняр Н.Ф. Карточки с математическими заданиями и играми: 1 кл.: Для четырехлет. нач. шк. – М., 1989.
6. Моро М.И. Математика. Учеб. для 1 кл. нач. шк. В 2 ч. – М., 2007.