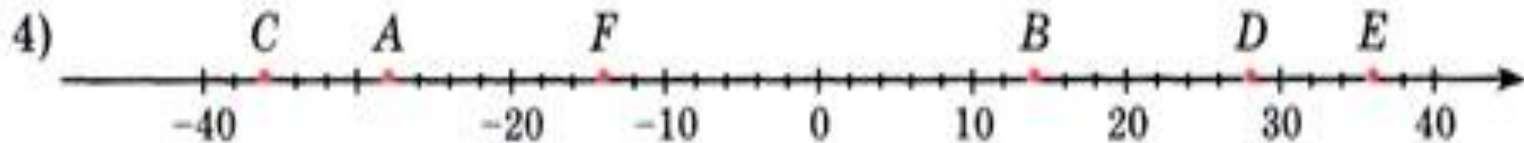
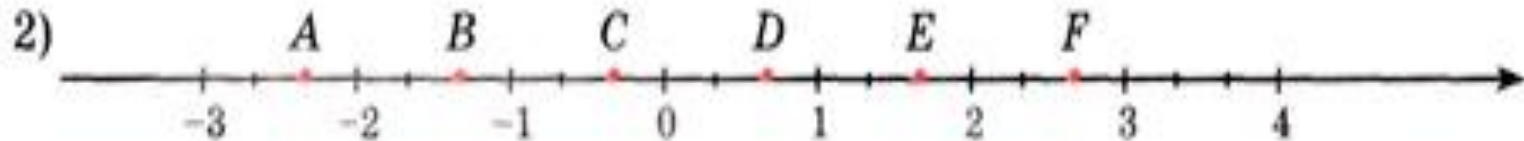
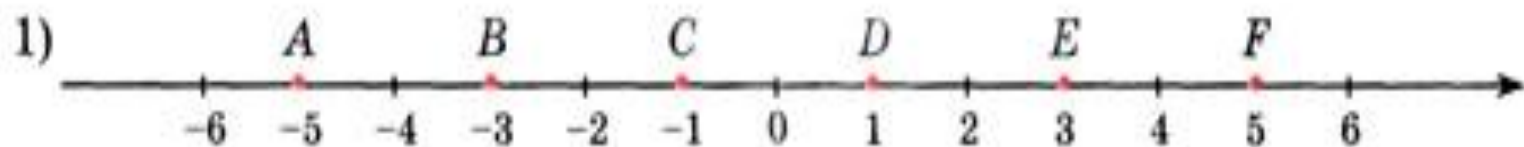


Назовите координаты точек



КИНОМАКС ДОН

СЕТЬ КИНОБ

ООО "Мир кино" ИНН 61642

Зал

Аватар

Ряд

12.01

Дата

Оплат

платный

Сохраняется

Захар

Сохраняется до конца сеанса

Захарченко М.

подпись

КИНОМАКС ДОН

СЕТЬ КИНОТЕАТРОВ

КИНОБИЛЕТ Серия МЮ № 235348

ООО "Мир кино" г. Ростов н/Д, ул. Б.Садовая, 51
ИНН 6164206361 КПП 616401001, ОГРН 1026103280268

Зал 4

Аватар 3D

Ряд 8 Место 15

12.01.2010

Начало 19:00

Дата продажи 08.01.2010 14:33

Оплачено 260,00 рублей

платный ПУ № 121020109

www.kinomax.ru

ПУ № 121020109 Захарченко М.

СЕРИЯ МЮ № 235348
цена 260,00 Аватар 3D

12.01.2010 19:00

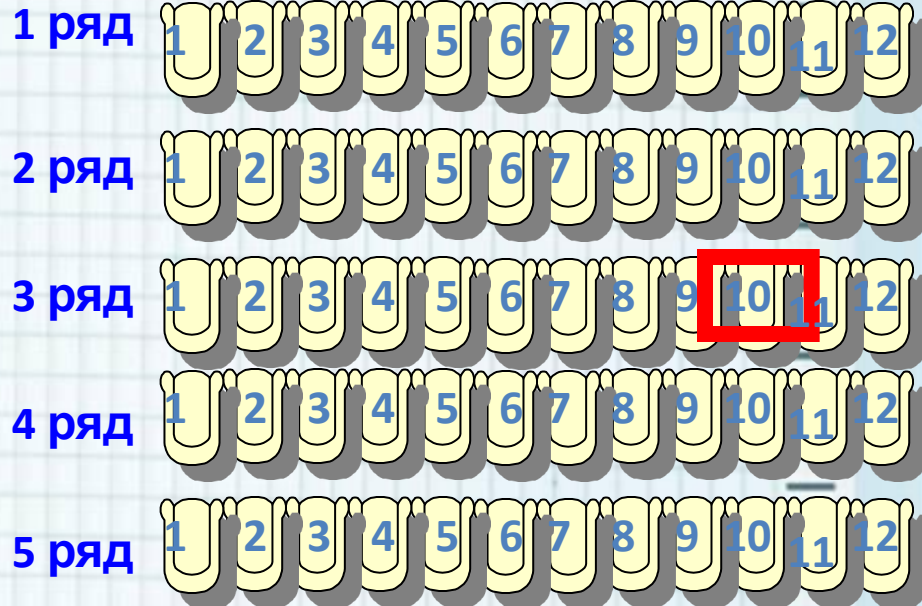
Закказ №906, тираж 300 000, 12.09г.

Закказ №906, тираж 300 000, 12.09г.

Чтобы правильно занять свое место в кинотеатре, нужно знать две координаты – ряд и место



ЭКРАН



Кинотеатр





Рене Декарт
(1596-1650)

Французский
философ, математик




Тема урока:
Координатная
плоскость



Задачи урока:

- Дать определение координатной плоскости;
- Научиться определять координаты точек;
- Научиться строить координатную плоскость;
- Строить точки на координатной плоскости по заданным координатам



Координатная
плоскость –
плоскость, на
которой выбрана
система
координат.



Морской бой



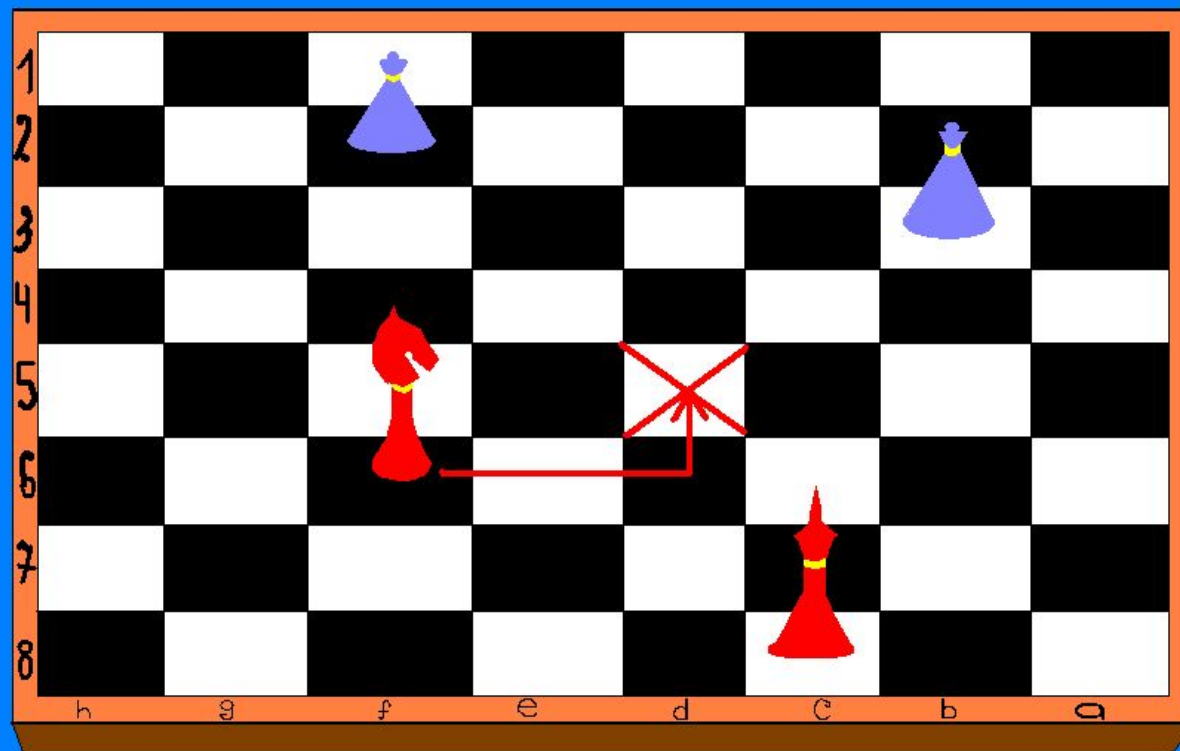
	А	Б	В	Г	Д	Е	Ж	З	И	К
1										
2										
3		×	×	×						
4		•								
5						•	×	•	×	
6							•			
7		•								
8										
9										
10										




Г 5



шахмат ы



f6 → d5



С помощью координатной сетки
летчики, моряки определяют
местоположение объектов.



WWW.GEE.RU

ПРЯМОУГОЛЬНАЯ (ДЕКАРТОВА) СИСТЕМА КООРДИНАТ

ось
абсцисс

начало
координат

0

0

1

2

3

4

5

-1

-2

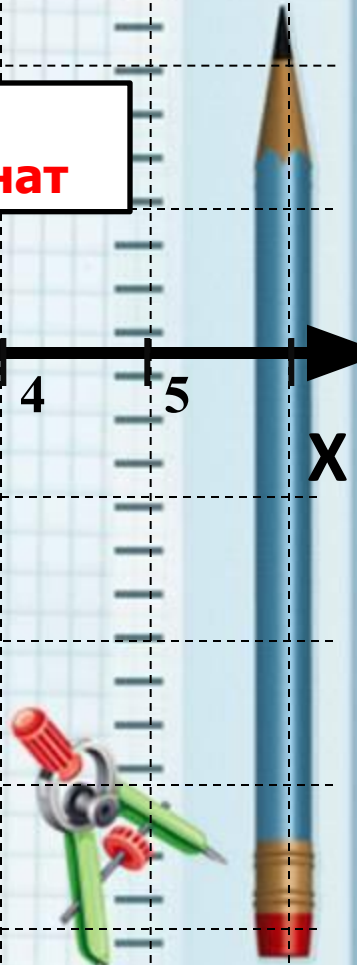
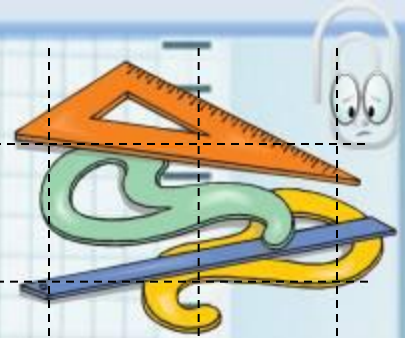
-3

-4

Y

X

ось ординат



Построить точки

Y

4

3

$y=2$

2

1

-5

-4

-3

-2

-1

0

1

2

3

4

5

-1

$B(-3;-1)$

-2

абсцисса

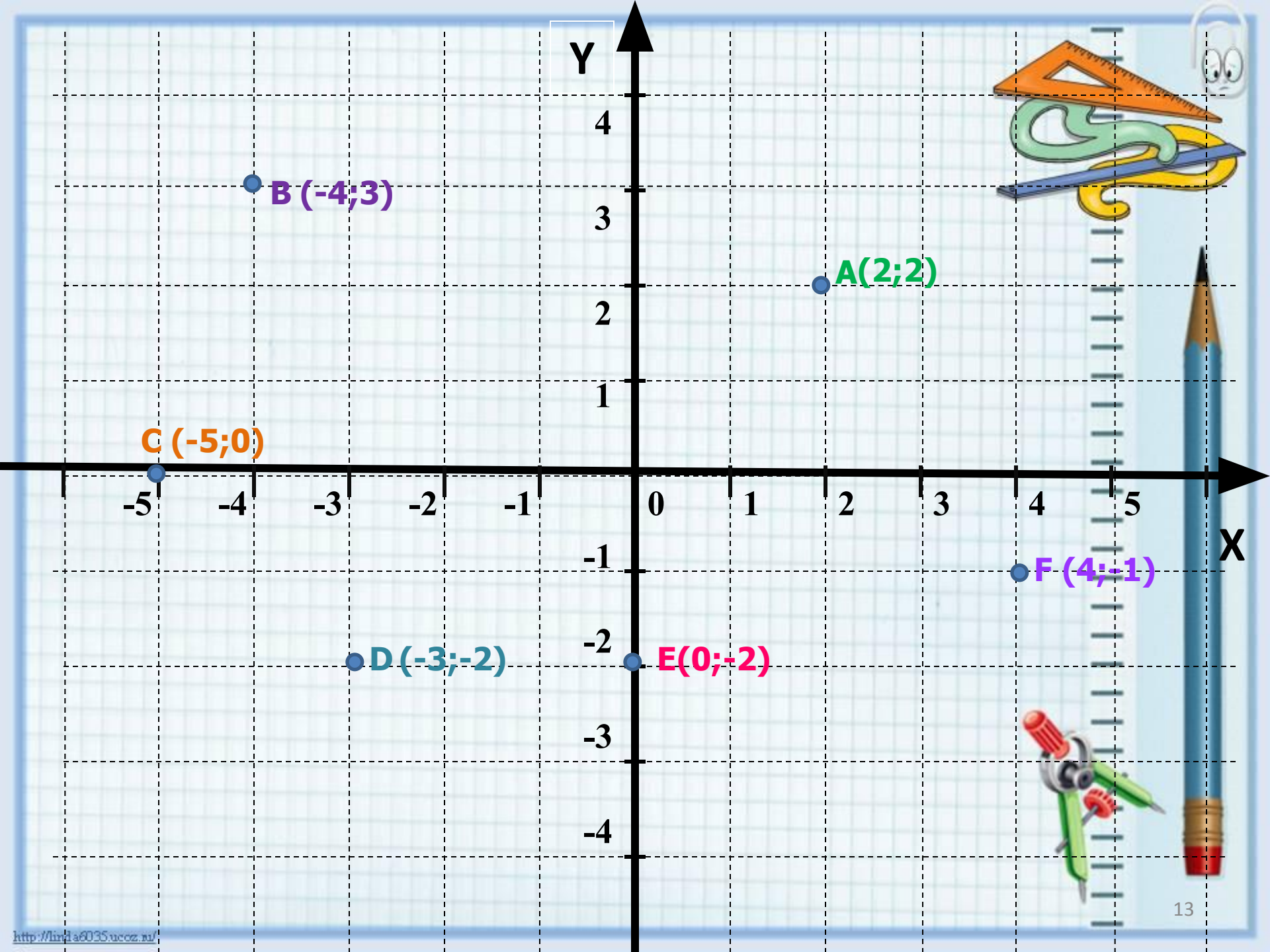
ордината

-4

$A(4;2)$

$x=4$

X



Y

4

3

2

1

-5

-4

-3

-2

-1

0

1

2

3

4

5

-1

-2

-3

-4

X

B (-4;3)

A(2;2)


C (-5;0)

D (-3;-2)

E(0;-2)

F (-4;-1)

Постройте фигуры по заданным точкам.




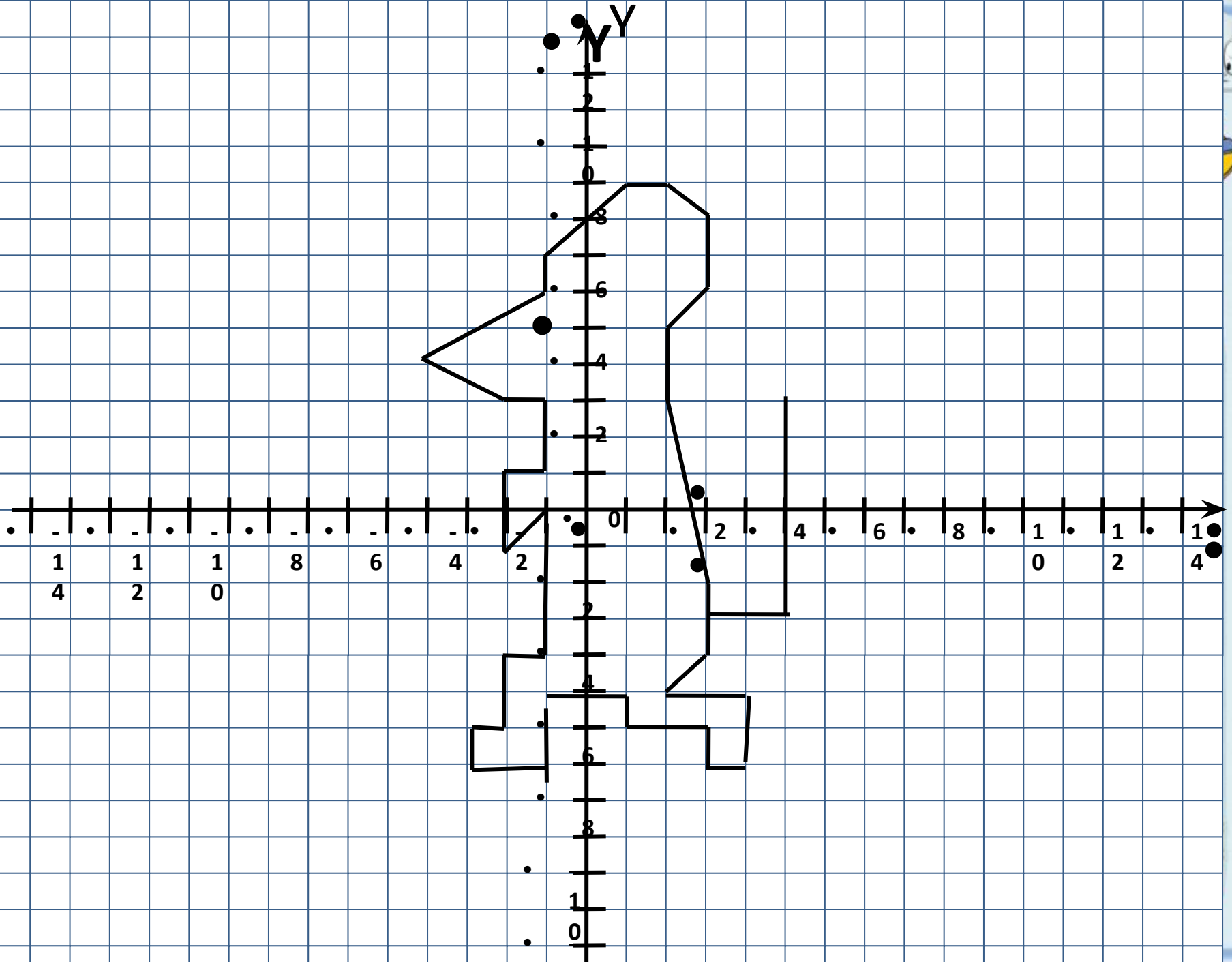
Мышонок

$(3; -4), (3; -1), (2; 3), (2; 5),$
 $(3; 6), (3; 8), (2; 9), (1; 9),$
 $(-1; 7), (-1; 6), (-4; 4),$
 $(-2; 3), (-1; 3), (-1; 1),$
 $(-2; 1), (-2; -1), (-1; 0),$
 $(-1; -4), (-2; -4), (-2; -6),$
 $(-3; -6), (-3; -7), (-1; -7),$
 $(-1; -5), (1; -5), (1; -6),$
 $(3; -6), (3; -7), (4; -7),$
 $(4; -5), (2; -5), (3; -4).$
Хвост: $(3; -3), (5; -3), (5; 3).$
Глаз: $(-1; 5).$

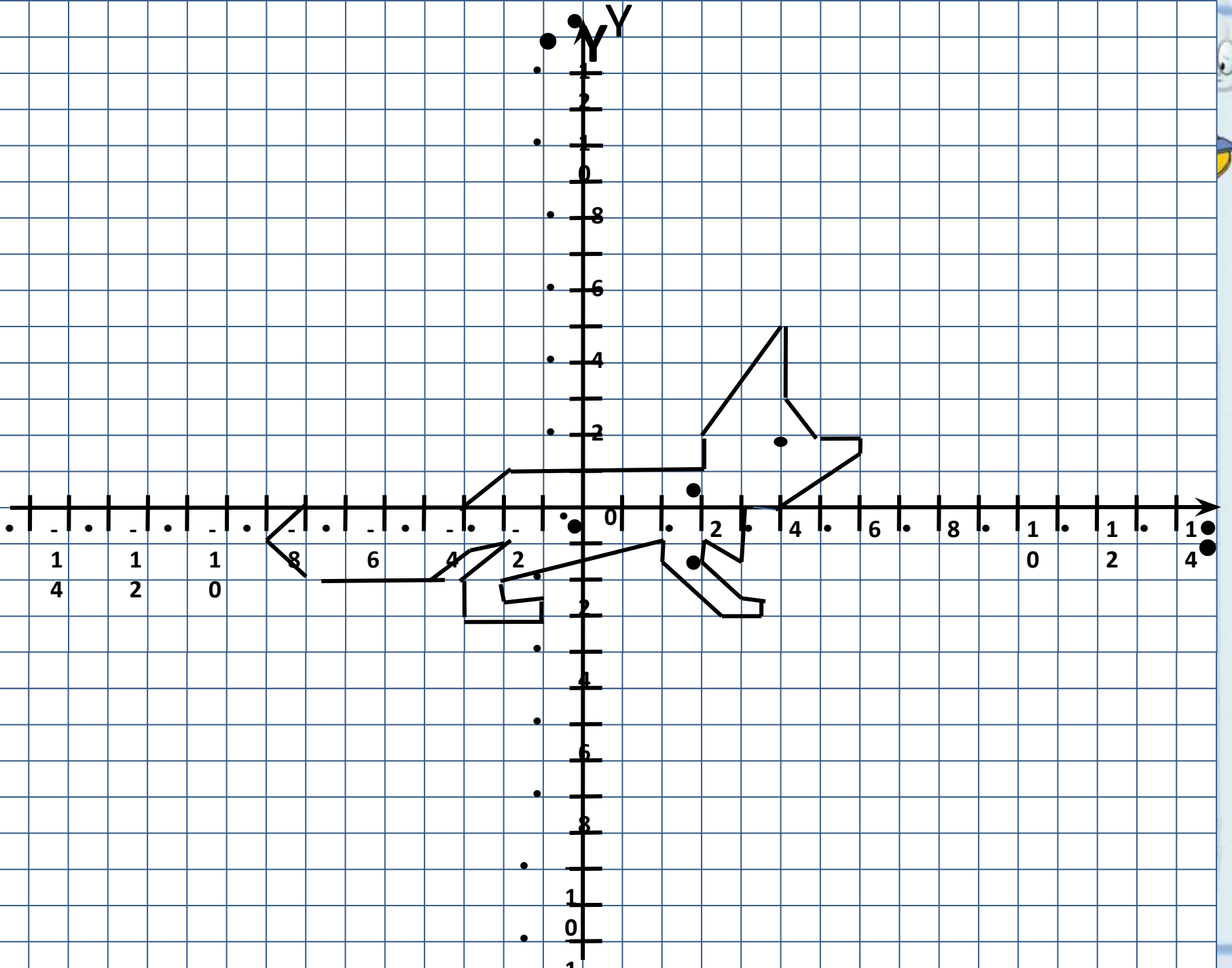
Лисица

$(-3; 0), (-2; 1), (3; 1), (3; 2),$
 $(5; 5), (5; 3), (6; 2), (7; 2),$
 $(7; 1,5), (5; 0), (4; 0), (4; -1,5),$
 $(3; -1), (3; -1,5), (4; -2,5),$
 $(4,5; -2,5), (-4,5; -3), (3,5;$
 $3),$
 $(2; -1,5), (2; -1), (-2; -2),$
 $(-2; -2,5), (-1; -2,5), (-1;$
 $-3),$
 $(-3; -3), (-3; -2), (-2; -1),$
 $(-3; -1), (-4; -2), (-7; -2),$
 $(-8; -1), (-7; 0), (-3; 0).$
Глаз: $(5; 2).$





X
X



X
X



СПАСИБО
ЗА
УРОК!!!

MyDarin

