

10, 2, 8

4 + 2 = ?

<, >, =



У отца есть мальчик странный,
Необычный, деревянный,
На земле и под водой
Ищет ключик золотой,
Всюду нос сует свой длинный...
Кто же это?.. **Буратино**

МБОУ «Октябрьская средняя школа»




Закрепление по разделу «Числа от 1 до 10 или «Приключения Буратино в стране Дураков».





Урок математики
1 класс («Школа России»)
(Антикоррупционное воспитание школьников)

Автор-разработчик :
учитель I кв. категории Наумова Н.А.



- Из каких геометрических фигур составлен Буратино?
- Сколько треугольников на рисунке? **6**
- Сколько кругов? **3**
- Сколько прямоугольников? **9**
- На сколько кругов меньше, чем треугольников? **На 3**
- На сколько прямоугольников больше, чем кругов? **На 6**



№1

$$7 + 3 - 8 = 2$$

$$6 + 4 - 7 = 3$$

$$5 + 5 - 6 = 4$$

$$4 + 6 - 5 = 5$$

$$6 - 2 + 3 = 7$$

$$6 - 3 + 4 = 7$$

$$6 - 4 + 5 = 7$$

$$6 - 5 + 6 = 7$$

Р Я Т Ё
2 4 5 7





Буратино потянулся,
Раз-нагнулся, два-
нагнулся,
Руки в стороны развел
Видно ключик не нашел.
Чтобы ключ ему достать,
Надо на носочки встать.
Крепче Буратино стой,
Вот он – ключик золотой!



№2

$$3 + 2 = 5 \text{ (м.)}$$

Ответ: 5 монет.

№3

$$5 - 3 = 2 \text{ (м.)}$$

Ответ: 2 монеты.

После того как лиса Алиса отобрала у Буратино 3 монетки у него осталось 2. Сколько монет сначала было у Буратино?

У Буратино было 5 монет. 3 монеты отобрала у него лиса Алиса. Сколько монет осталось у Буратино?



