



Тест за I полугодие для учащихся 2 класса

УМК ПНШ

учитель начальных классов
МАОУ лицея №10 г. Советска
Гайдай Юлия Владимировна

[Начать тест](#)

A cartoon illustration of a smiling tiger and a smiling hippo in a lush green forest. The tiger is perched on a tree branch, and the hippo is sitting on the ground with a butterfly nearby.

Результат теста

Верно: 17

Ошибки: 0

Отметка: 5

Время: 1 мин. 16 сек.

ещё

A cartoon tiger is perched on a tree branch in the upper left, and a cartoon hippo is sitting on the grass in the lower left. A butterfly is also visible near the hippo.

Какое число является
значением выражения?

$$13 - 6 + 3 =$$

4

7

10



Вычисли значение выражения

$$17 - (2 + 8) =$$

10

7

23

Разгадай правило и вставь число

86	86	86	86
10	20	30	?
76	66	56	46

60

50

40

A cartoon tiger is perched on a tree branch on the left side of the page. Below it, a cartoon hippo is sitting on the grass, holding a spotted ball. A butterfly is also visible near the hippo.

**Вставь второе
слагаемое**

$$87 - \square = 37$$

50


60

40

Сравни числа

87 **?** 78



A cartoon tiger is perched on a tree branch on the left side of the page. Below it, a cartoon hippo is sitting on the grass, holding a spotted ball. A butterfly is also visible near the hippo.


Вставь пропущенную цифру

69, 67, 65, 63, 59

61

60

62

A cartoon tiger is perched on a tree branch in the upper left, and a cartoon hippo is sitting on the grass in the lower left. A butterfly is also visible near the hippo.

**Представь число 75
в виде суммы
разрядных слагаемых**

$$75 = 45 + 30$$

$$75 = 70 + 5$$

$$75 = 72 + 3$$




**Укажи наименьшее
двузначное число**

99

11

10

A cartoon tiger is perched on a tree branch in the upper left, and a cartoon hippo is sitting on the grass in the lower left. A butterfly is also visible near the hippo.

Выбери выражения с одинаковым уменьшаемым

$46 - 21$

$21 - 15$

$28 - 24$

$46 - 16$

$46 - 25$

$30 - 21$

ОТВЕТ ГОТОВ!



Какой текст можно назвать задачей?

У школы висит 7 кормушек для птиц, а в парке – на 3 кормушки больше.

На сколько открыток у Тани больше, чем у Кати?

В цветочном магазине до обеда продали 8 букетов, а после обеда на 4 букета больше. Сколько всего букетов продали за день?

Реши задачу

На ёлке висело несколько игрушек. Когда на неё повесили ещё 5, на ёлке стало 19 игрушек. Сколько игрушек висело на ёлке вначале?



24

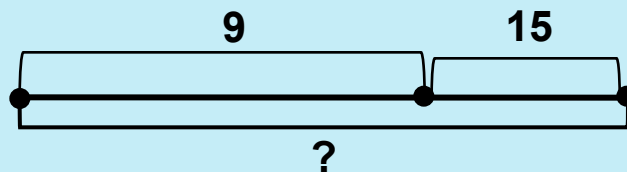
14

23

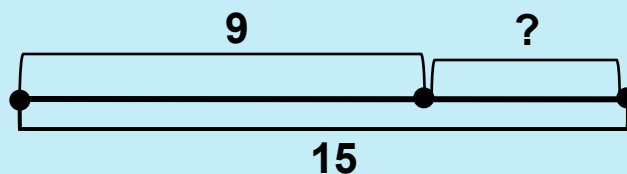
Выбери схему, которая соответствует задаче

Дети в парке посадили 15 деревьев. Из них 9 ёлочек, остальные – берёзки. Сколько берёзок посадили дети?

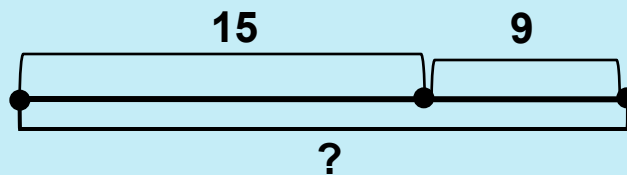
1



2



3





Поставь знак

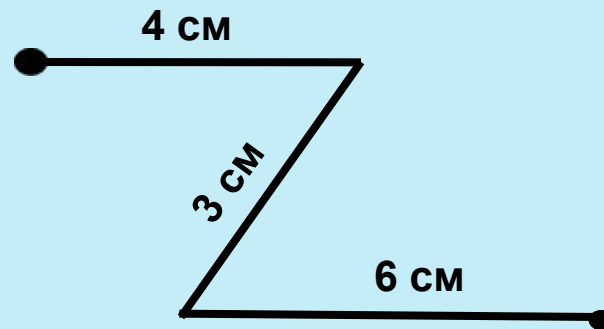
30см ...?.. 2дм8см

=

>

<

Вычисли длину ломаной




10 см

13 см

9 см

Сколько углов у
данной фигуры?

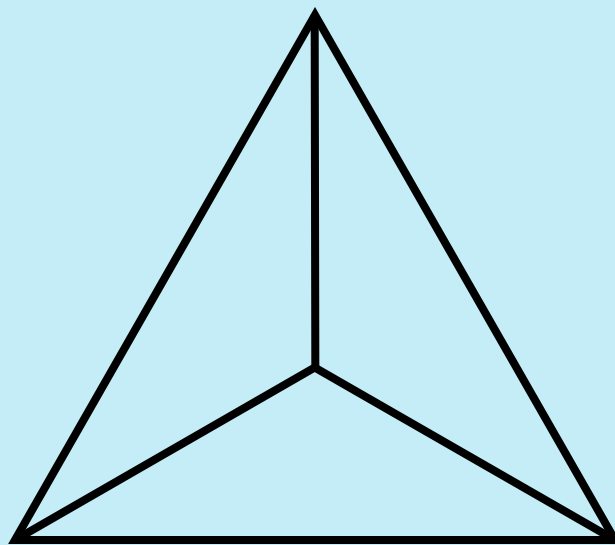


5

6

4

Сколько треугольников
на чертеже?




3

5

4

Укажи квадраты




1



2




3



4



5



6

ОТВЕТ ГОТОВ!