


«Делим числа» урок 47

Учитель начальных классов
МОБУ «ООШ с. Ивановки»
МО «Енотаевский район»
Боброва И.В.

Задача на смекалку



Какие числа пропущены в каждом ряду?

□ А) 1, 2, , , 5, , , 8, , 10;

□ Б) 2, 4, , , 10;

В) 10, 8, , 4, .

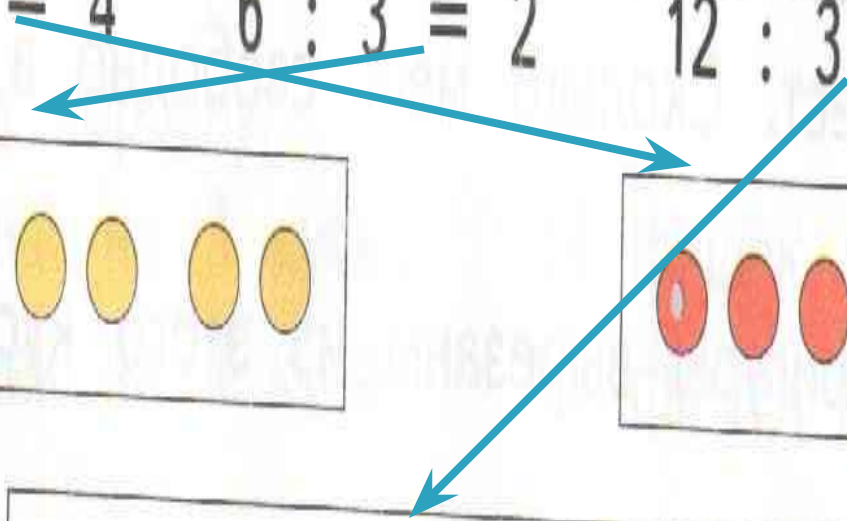
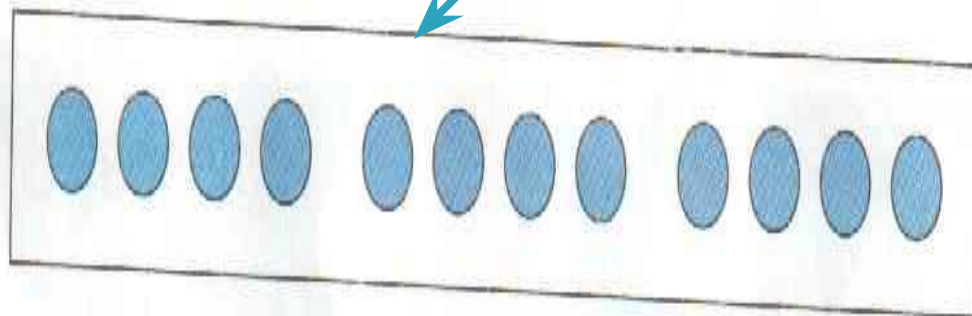
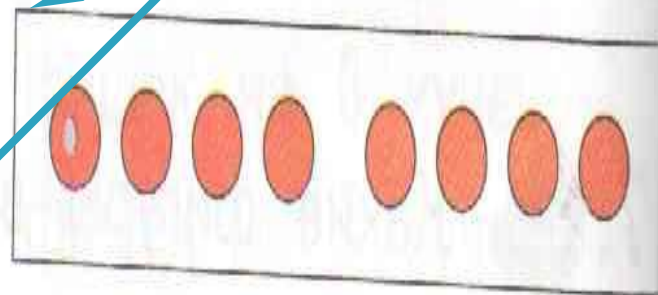
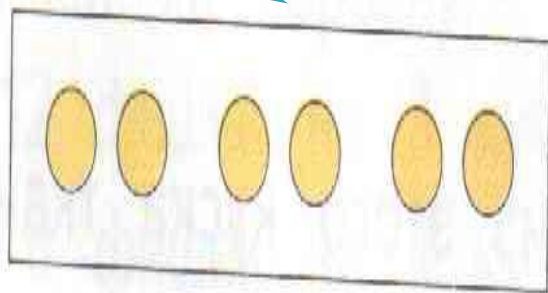
2.

Подбери к каждой записи карточку с фишками.

$$8 : 2 = 4$$

$$6 : 3 = 2$$

$$12 : 3 = 4$$





В домике живут три гнома. К ним пришли гости.
Сколько гномов на празднике?

$$\square ? \square = \square$$



Сколько цветов у гостей?

$$\boxed{3} \cdot \boxed{4} = \boxed{12}$$

http://go.mail.ru/search_images?q=%D0%BA%D0%B0%D1%80%D1%82%D0%B8%D0%BD%D0%BA%D0%B0%20%D0%B2%D0%B8%D0%BD%D0%BD%D0%B8%20%D0%BF%D1%83%D1%85%D0%B0&fr=web&rch=l&jsa=1#urlhash=6571820125946622533

- http://go.mail.ru/search_images?q=%D0%BA%D0%B0%D1%80%D1%82%D0%B8%D0%BD%D0%BA%D0%B0+%D0%BF%D1%8F%D1%82%D0%BE%D1%87%D0%BA%D0%B0&us=16&usln=1&usstr=%D0%BA%D0%B0%D1%80%D1%82%D0%B8%D0%BD%D0%BA%D0%B0+%D0%BF%D1%8F%D1%82%D0%BE%D1%87%D0%BA%D0%B0&hasnavig=0#urlhash=740382989504510175
- http://go.mail.ru/search_images?q=%D0%BA%D0%B0%D1%80%D1%82%D0%B8%D0%BD%D0%BA%D0%B0+%D0%BA%D1%80%D0%BE%D0%BB%D0%B8%D0%BA%D0%B0+%D0%B8%D0%B7+%D0%BC%D1%83%D0%BB%D1%8C%D1%82%D1%84%D0%B8%D0%BB%D1%8C%D0%BC%D0%B0+%D0%B2%D0%B8%D0%BD%D0%BD%D0%B8+%D0%BF%D1%83%D1%85#urlhash=3878704792841037171
- http://go.mail.ru/search_images?q=%D0%BA%D0%B0%D1%80%D1%82%D0%B8%D0%BD%D0%BA%D0%B0+%D0%BE%D1%81%D0%BB%D0%B8%D0%BA%D0%B0+%D0%B8%D0%B7+%D0%BC%D1%83%D0%BB%D1%8C%D1%82%D1%84%D0%B8%D0%BB%D1%8C%D0%BC%D0%B0+%D0%B2%D0%B8%D0%BD%D0%BD%D0%B8+%D0%BF%D1%83%D1%85#urlhash=345696379779822088