



Урок математики





**Скоро – скоро у ворот
постучится Новый год!**



20 декабря. Классная работа.



1

21

31



ГАРФИЛА

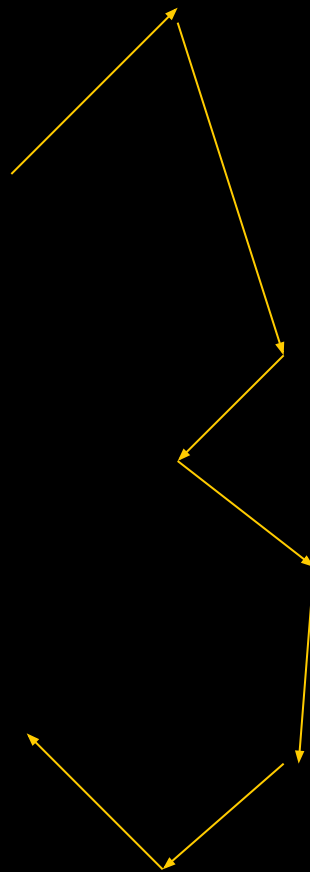
Второклассникам -
Математика



Проверим знания!?



2x2=4
2x3=6
2x4=8
2x5=10
2x6=12
2x7=14
2x8=16
2x9=18



1.в)

2.б)

3.б)

4.в)

5.б)

6.а)

1.и)

2.и)

3.л)

4.л)

5.и)

6.и)

7.л)

8.л)

Тема: Умножение и деление на число 3.

УЦ: составить таблицу умножения и деления на 3; закрепить умения решать текстовые задачи на умножение и деление.





$$3 \times 2 = 6$$



$$3 \times 3 = 9$$



Таблица умножения и деления на 3.

$3 \times 3 = \square$

$3 \times 4 = \square$

$3 \times 5 = \square$

$3 \times 6 = \square$

$3 \times 7 = \square$

$3 \times 8 = \square$

$3 \times 9 = \square$

$4 \times 3 = 12$

$5 \times 3 = 15$

$6 \times 3 = 18$

$7 \times 3 = 21$

$8 \times 3 = 24$

$9 \times 3 = 27$

$9 : 3 = \square$

$15 : 3 = \square$

$18 : 3 = \square$

$21 : 3 = \square$

$24 : 3 = \square$

$27 : 3 = \square$

$15 : \square = 3$

$18 : \square = 3$

$21 : \square = 3$

$24 : \square = 3$

$27 : \square = 3$



Перейдём к решению задач?!

Дед Мороз посадил в сани 27 Снегурочек по 3 в каждые сани. Сколько потребовалось саней?

$$27:3=9(\text{с.})$$

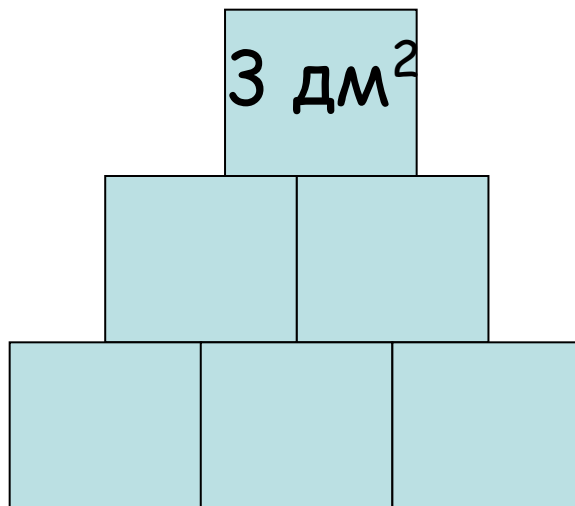
Ответ: 9 саней потребовалось.



SMS

Из 6 льдинок площадью 3дм^2 Серая мышь составила ледяную фигуру. Чему равна площадь ледяной фигуры?


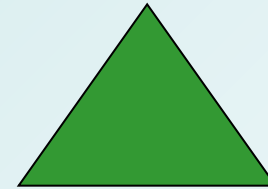

$$3 \times 6 = 18 (\text{дм}^2)$$



Ответ: 18дм^2 площадь ледяной фигуры.

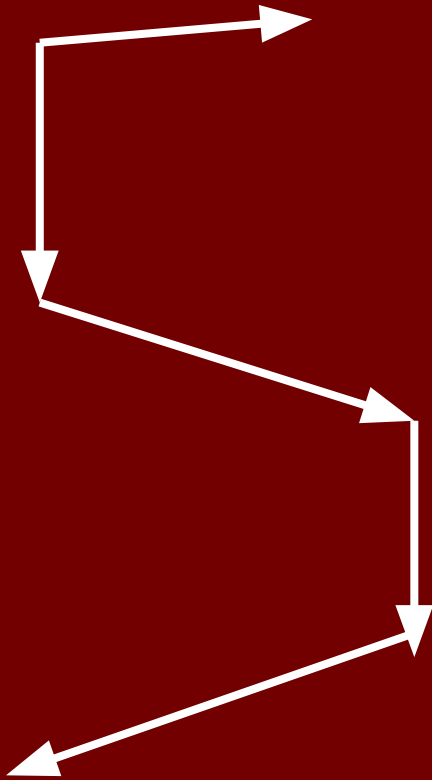


Покажите треугольник периметр
которого равен 4×3



Поверим работу?!

Тест № 2 (А)



Тест № 2 (В)

6	4
9	9
12	3
15	8
18	5
21	7
24	8
27	1
30	2

Перед тем как распрощаться,
Должен детки вам признаться:
У меня сюрприз для вас,
Где узнаете сейчас!





Спасибо за работу!

