



# Урок-путешествие по сказке Х.К.Андерсена «Снежная королева»




# Карта путешествия Герды





# Проверка таблицы умножения



# Устный счёт





# Обобщение знаний о высказывании



# Найди высказывания.

1. В нашем классе 18 учеников.
2.  $35+25=68$
3. Прямоугольник – это четырехугольник, у которого все углы прямые.
4. Бывают треугольники с двумя прямыми углами.
5. Сколько тебе лет?
6.  $X+12$
7. Сегодня 18 декабря.





# Реши уравнения



$$X+10=12$$

$$X-5=10$$

$$X \cdot 4=20$$

$$X:4=8$$

$$X+2=10-4$$



# Реши задачу





# Реши задачу!

Коля, Петя и Ваня играли в снежки. Коля бросил 12 снежков, из них только 5 попали в цель. Петя бросил на 4 снежка меньше Коли, но 8 из них попали в цель. А Ваня бросил на 2 снежка больше, чем Коля, но 7 раз промахнулся.



Заполни таблицу и определи, кто из ребят оказался самым метким?



# Сложи кристалл





# Подведем итог



# Придумать задачу на тему «Зимние забавы»

Решить уравнения:

$$5x \quad X=25$$

$$X+12= 20-5$$

$$24: X=6$$



*Мир прекрасен! Радуйтесь  
жизни!*

*Будьте оптимистами! Боритесь  
за человека, сердце которого  
покрыто льдом!*

*Будьте терпеливы в достижении  
цели! Не жалейте времени и сил,  
чтобы воспитать в себе  
человечность, отзывчивость и  
доброту!*

*Х.К.Андерсен*