

# **Математическая акция.**




**СОСТАВИЛИ УЧАЩИЕСЯ 9 КЛАССА  
МБОУ-ООШ С. ЯБЛОНОВКА  
РОВЕНСКОГО РАЙОНА:  
БАНЦГОФ АНГЕЛИНА, БАНЦГОФ НЕЛЛИ,  
ПЛАТОВА СОФЬЯ.  
РУКОВОДИТЕЛЬ:  
ЕФРЕМОВА ОЛЬГА АНАТОЛЬЕВНА.**

# ДЕНЬ УЛЫБКИ.

Буратино с задачами в садике.



От улыбки хмурый день светлей,  
от улыбки в небе радуга проснётся...



# Задачи – шутки!

Решите!



Задачи решаем!




# Задача про кроликов.

текст

Задание детям: показать как зайчики прыгают.


- №1. В клетке находились 4 кролика. 4 ребят купили по одному из этих кроликов и один кролик остался в клетке. Как это могло получиться?



# Задача про слонов.

**Задание детям: Показать как слон топает.**

**Текст.**



**Гуляет в джунглях  
старый слон,  
Одинок, и грустен он,  
Но подошёл к нему  
сынок,  
И больше слон не  
одинок.  
Сколько слонов  
теперь, ребята?**

# Задача про петухов.



Задание детям: показать как машут крыльями птицы.

**На плетень взлетел  
петух,  
Повстречал ещё там  
двух.  
Сколько стало  
петухов?  
У кого ответ готов?**

# Задачи – шутки.



- В комнате горело 5 свечей. Подул ветер – две погасли. Сколько осталось?
- Летело два крокодила – один красный, другой зелёный, один на север, другой на юг. Сколько весит 1 кг. картошки?
- На грядке сидели 6 воробьёв, к ним прилетели ещё 5. Кот подкрался и схватил одного воробья. Сколько воробьёв осталось на грядке?
- На груше росло 50 груш, а на иве – на 12 меньше. Сколько груш росло на иве?
- Летела стая уток. Охотник выстрелил и убил одну. Сколько уток осталось?

# Задачи – шутки.



- Два колхозника шли из деревни в город, а навстречу им ещё пять колхозников. Сколько колхозников шли из деревни в город?
- На складе было 5 цистерн с горючим, по 6 т. в каждой. Из двух цистерн горючее выдали. Сколько цистерн осталось?
- Вообрази, что ты капитан футбольной команды. В районе 8 футбольных команд, по 11 человек в каждой. Игроки вашей команды на 2 года моложе своего капитана, а игроки в другой – только на 1 год. Сколько лет капитану вашей команды?
- Курица на двух ногах весит 2 кг. Сколько весит курица на одной ноге?
- У пчёлки глаз столько, сколько у тебя, да ещё столько, да ещё полстолько. Сколько у неё глаз?
- Горело 6 свечей. Треть из них погасла. Сколько свечей осталось?
- У Марины было целое яблоко, две половинки и четыре четвертинки. Сколько было у неё яблок?
- Сколько концов у двух с половиной палок?