

Умники и умницы




1. По небу летали
воробей, ворона,
стрекоза, ласточка и
шмель.

Сколько птиц летало?

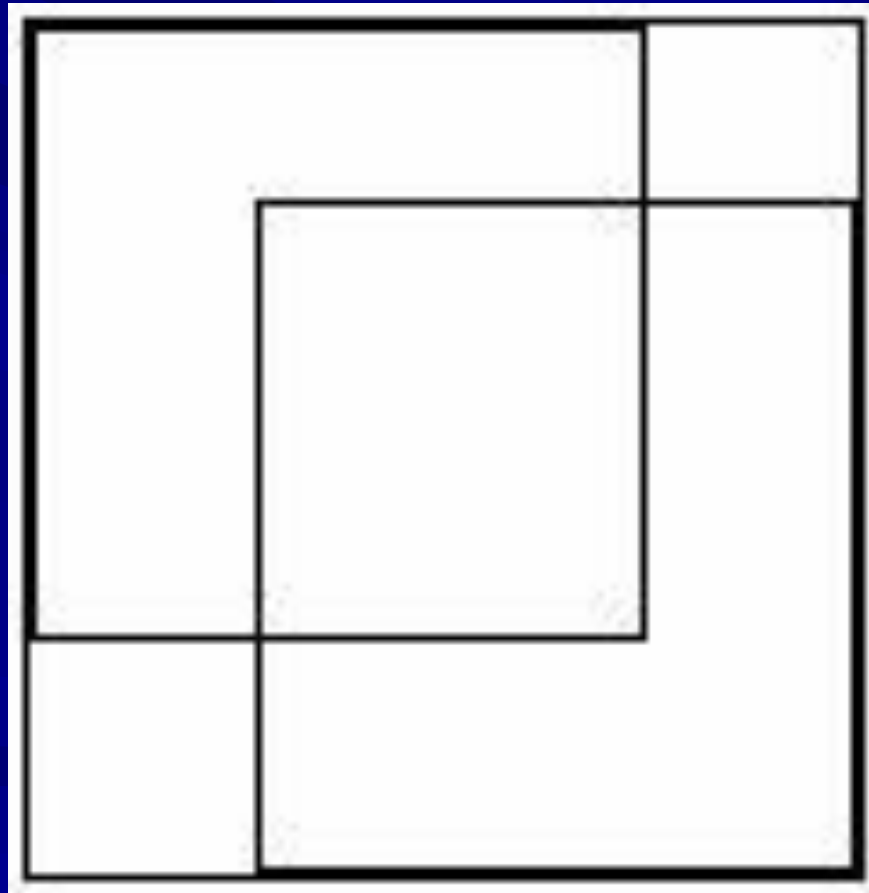
2. Стоит в поле дуб, а
на дубе 3 ветки. На
каждой ветке по 2
крупные сладкие
сливы. Сколько слив
ты можешь собрать?

3. Продолжи ряд чисел:


- 3, 4, 5
- 2, 4, 6,



4. Сколько квадратов на рисунке?



5. Начерти три прямые
линии так, чтобы они
пересекались.



6. Сколько нечетных чисел находится в промежутке чисел от 3 до 10?

7. Мама дала Ире
четыре рубля.
Сколько монет и
какого достоинства
она могла ему дать?



8. Сколько концов у трёх с половиной палок?



9. Три девочки готовили ёлочные игрушки к Новому году. Втроем они работали 3 часа. Сколько часов работала каждая из них?



