

ГРАФИЧЕСКИЙ ДИКТАНТ

Тема:

**«Делимос
ть чисел»**



Котляр Светлана Артуровна
учитель математики

МБСЛШ им. Ю.А.Гагарина г. Озёрск, Челябинская
область




Правила:


**«Да» изображается
отрезком  ,
а «Нет» -  уголкем.**

Вопрос

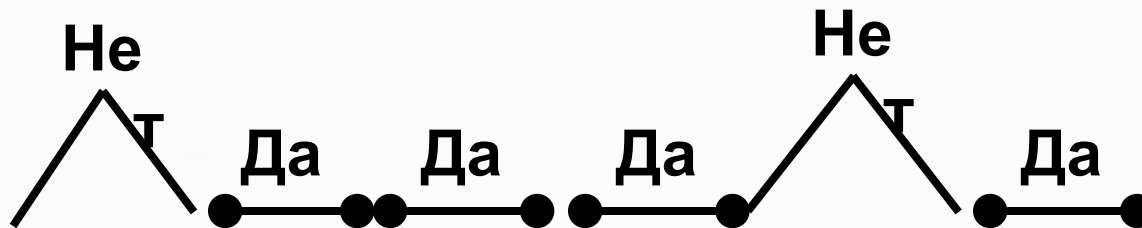
ы:

1. $D(2) - 18; 36; 72.$
2. $K(5) - 15; 20; 25.$
3. 276 делится на 2; на 3.
4. 468 не делится на 5; на 10.
5. $\text{НОД}(17; 51) - 51.$
6. $\text{НОК}(27; 81) - 81.$





ВОТ ТАКОЙ ГРАФИК!



Источник

И:

1. [Зелёный карандаш](#)

<http://www.liveinternet.ru/use...>

2. [Три карандаша](#)

<http://www.liveinternet.ru/use...>

3. [Семь карандашей](#)

<http://www.liveinternet.ru/use...>

4. [Шаблон слайда](#)

edu-teacherzv.ucoz.ru

