

# Тема: **РЕКИ**

Течёт, течёт – не вытечет,  
Бежит, бежит – не выбежит.

# Что такое река?

Река – постоянный поток воды,  
протекающий в естественном  
углублении, называемом  
руслом



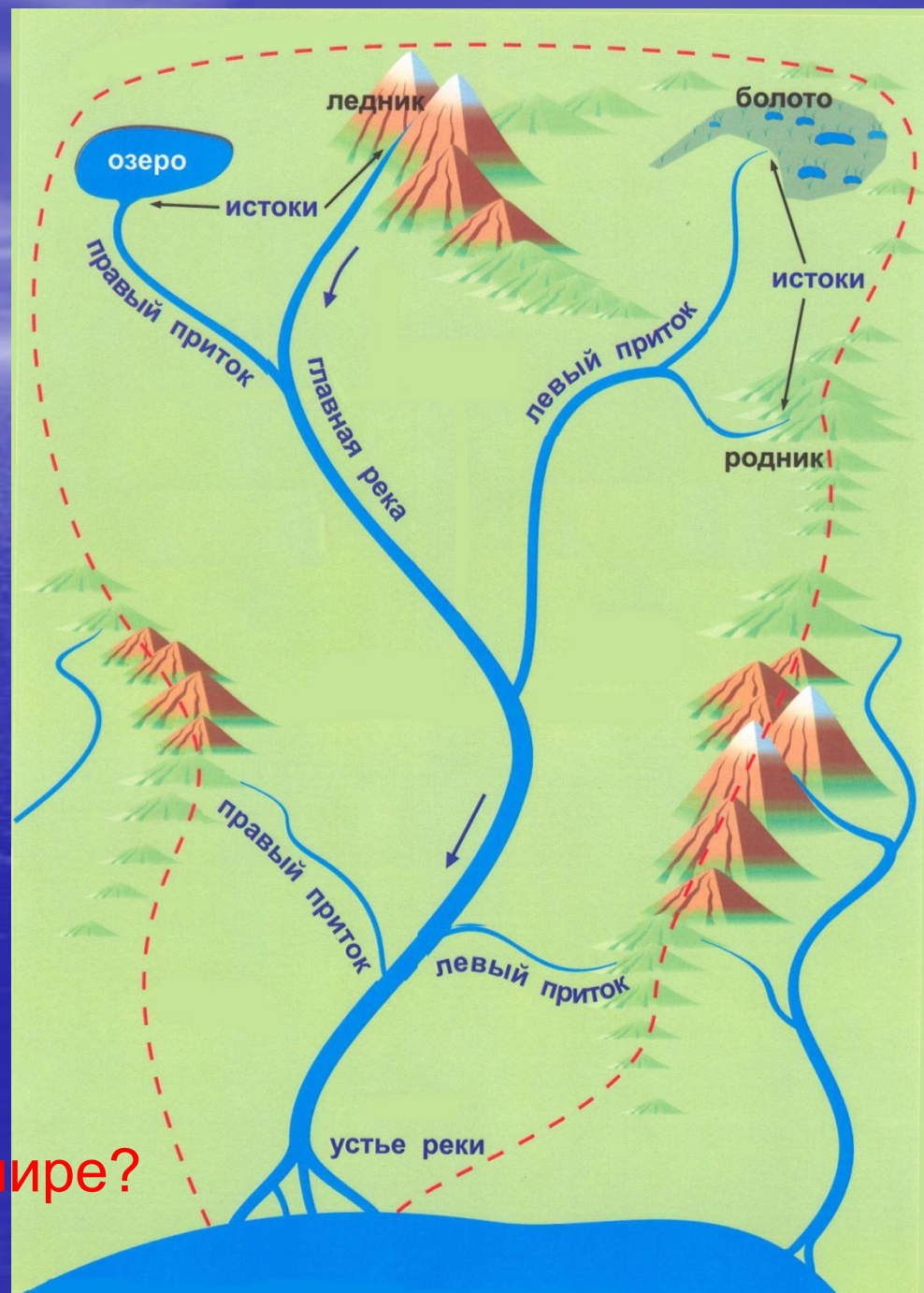
**Исток** — начало реки.

**Устье** — место впадения в другую реку, море или озеро.

**Длина реки** — расстояние от истока до устья

Какая река самая длинная в мире?

**НИЛ**

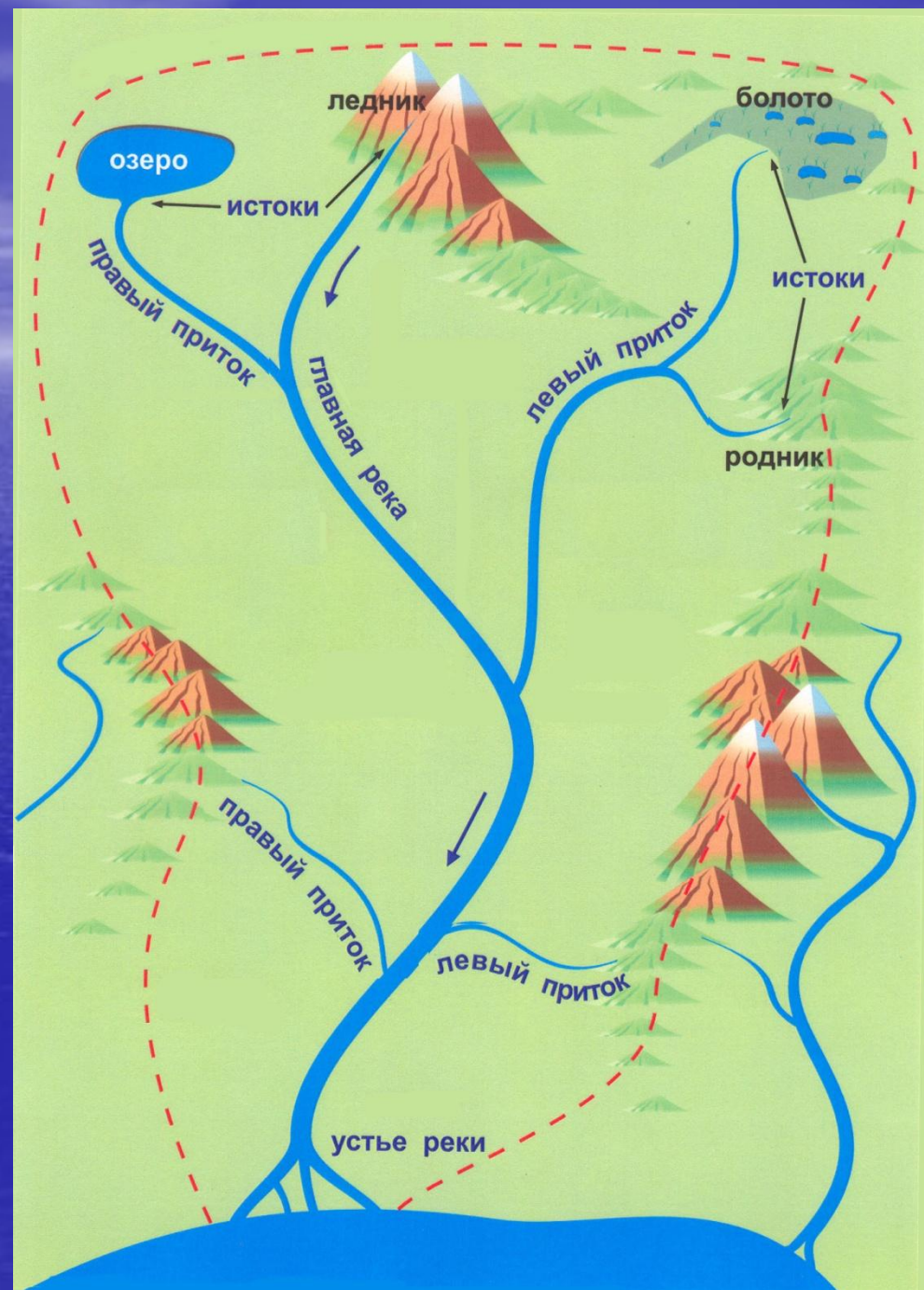




Река всегда течёт  
в понижение по  
рельефу

**Приток** — река,  
впадающая в другую  
реку

**Речная система**  
— главная река со  
всеми  
притоками.



**Бассейн реки** -  
участок земной  
поверхности, с  
которого вся вода  
стекает в реку

**Водораздел** -  
граница,  
разделяющая  
соседние речные  
бассейны



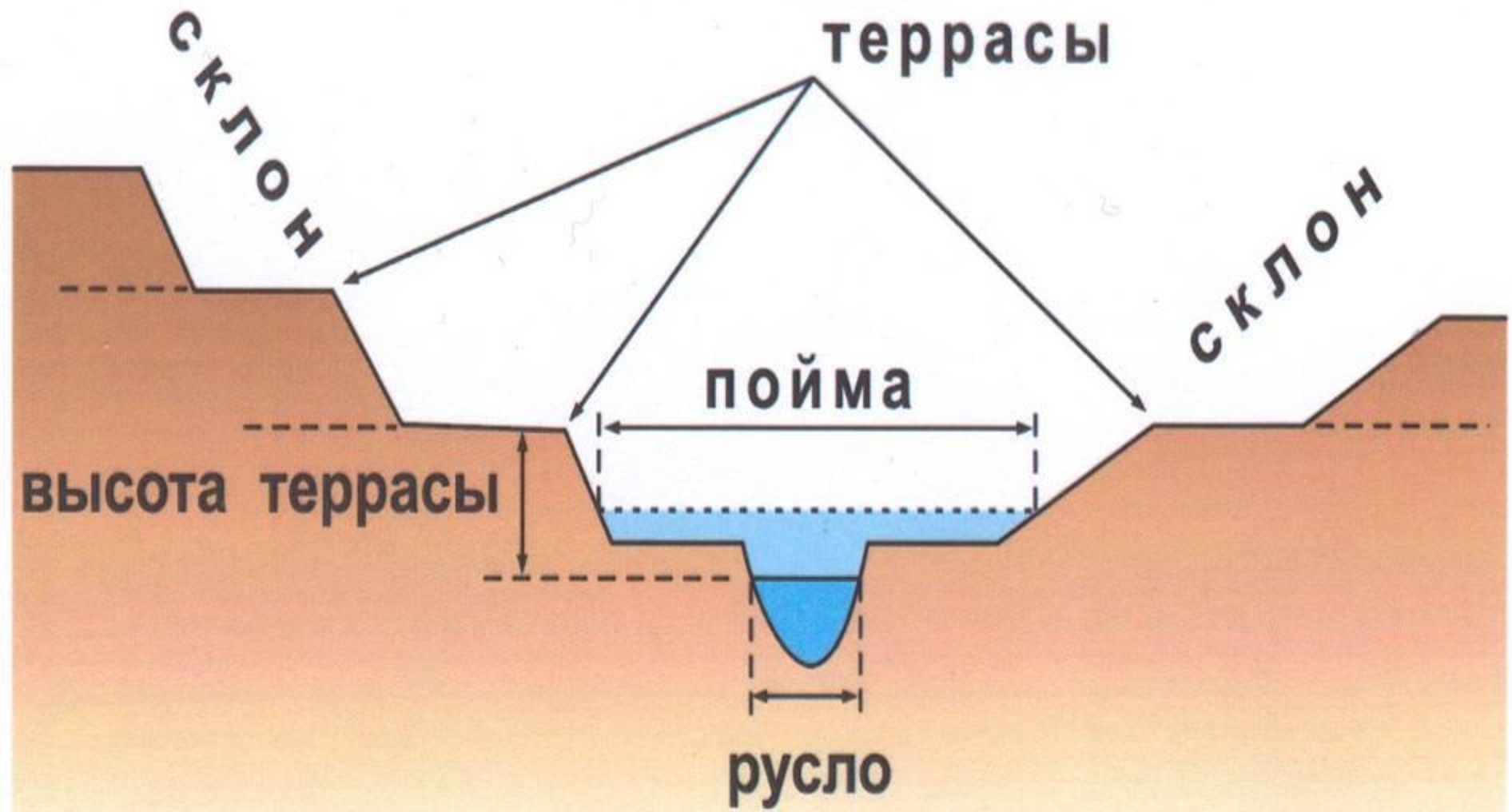


# Речная долина -




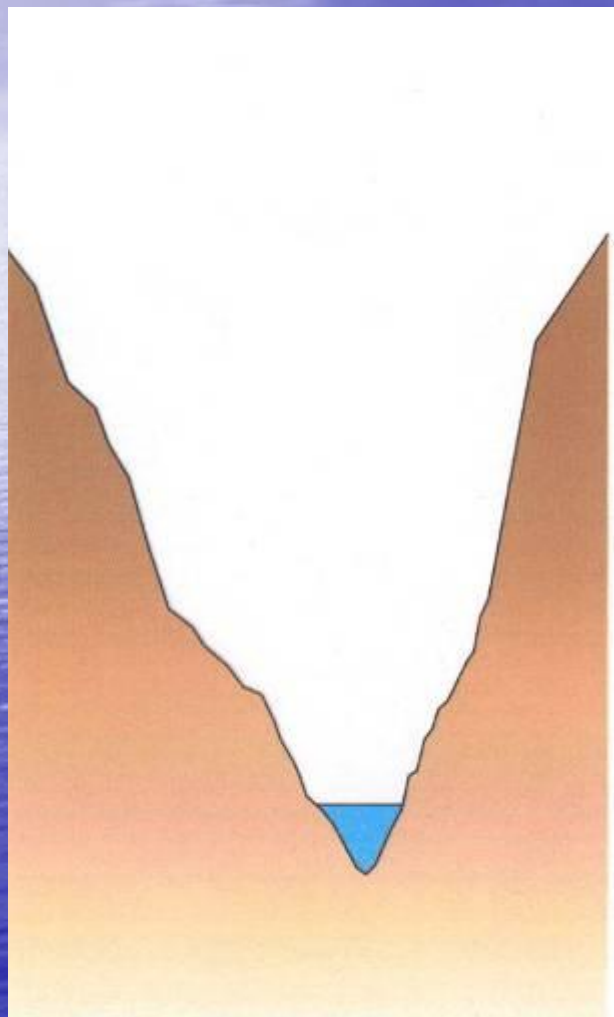
широкое понижение в рельефе, на дне которого находится русло реки.

## Долина равнинной реки





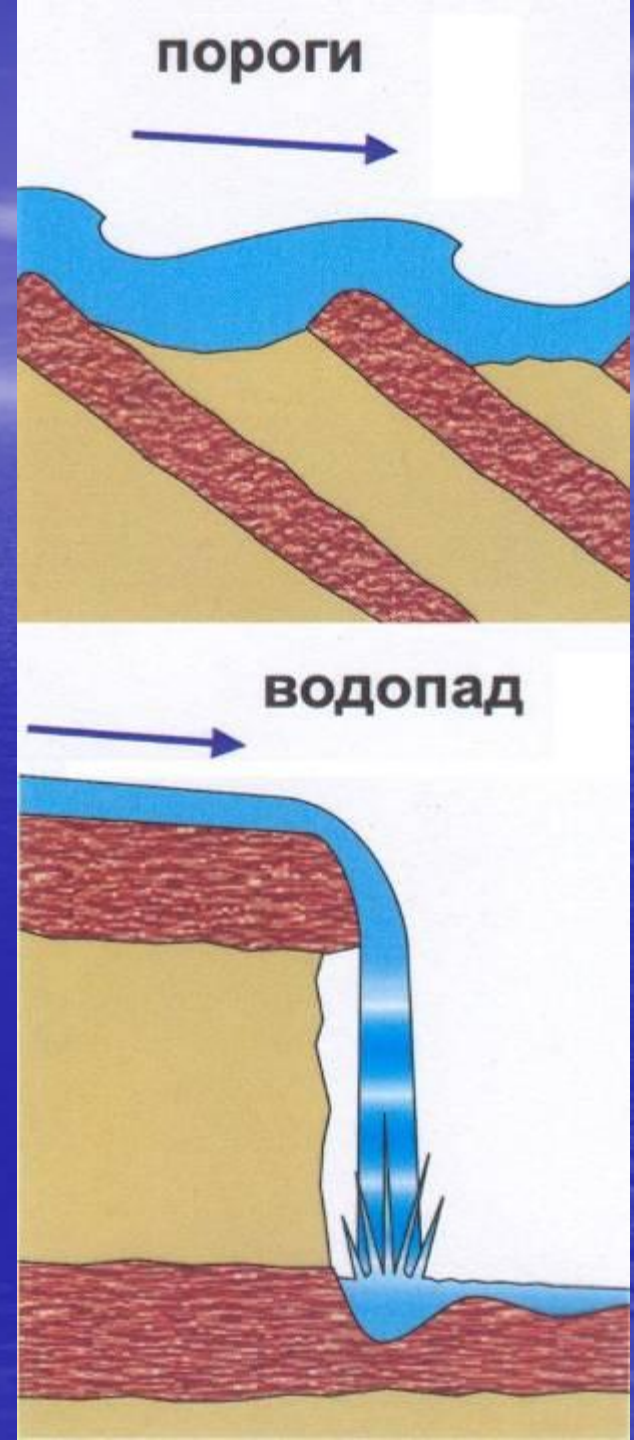
# Долина горной реки



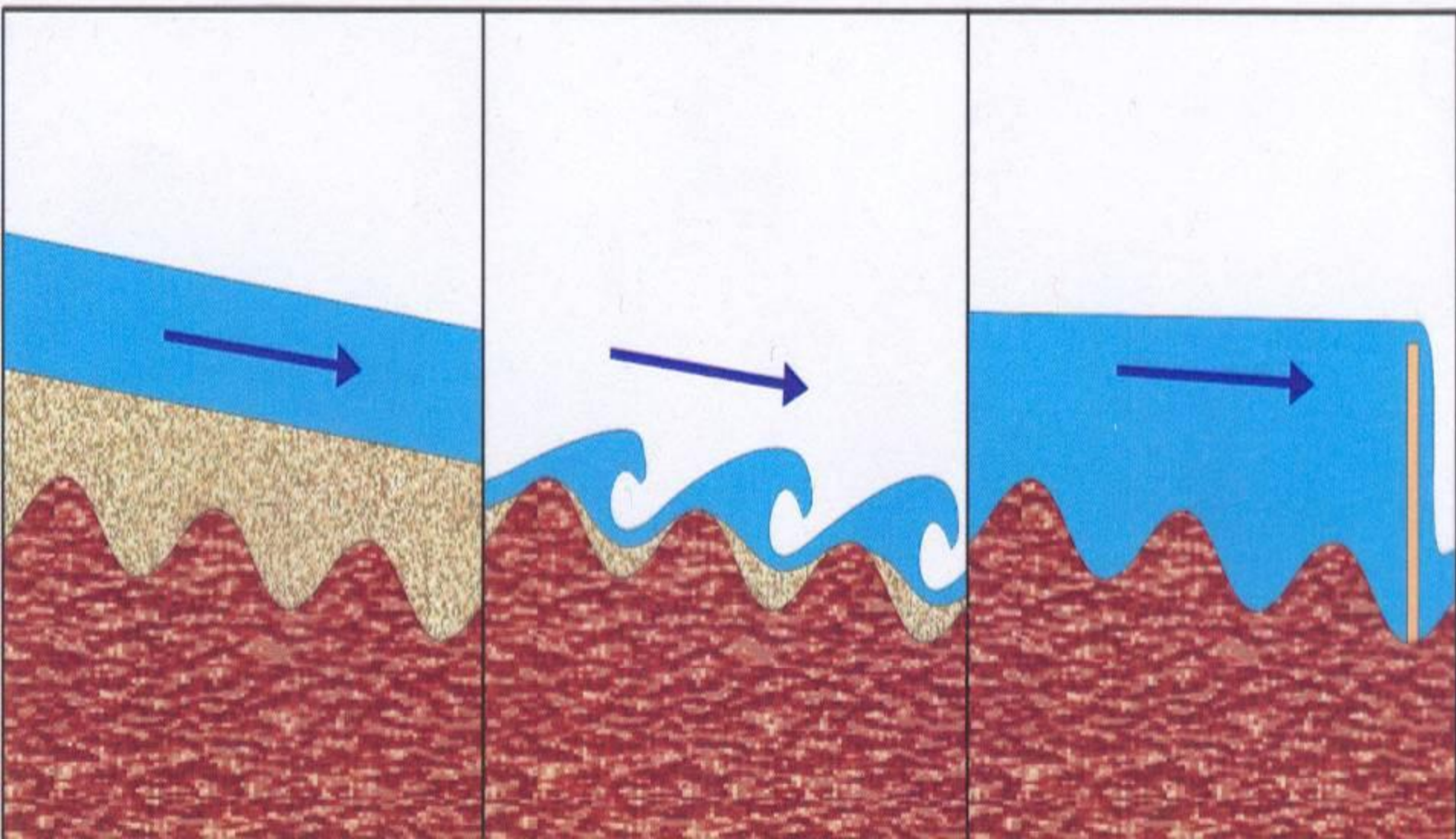


**Пороги** образуются при выходе твердых пород пересекающих русло и нагромождении камней

Падая с высокого уступа река образует **водопад**



# Пороги на равнинной реке





# Питание рек.

- 1) дождевое
- 2) ледниковое
- 3) подземные воды
- 4) снеговое
- 5) смешанное

**Водный режим рек** - изменение количества воды в реке в течение года.

**Половодье** – большой и продолжительный по времени подъём воды в реке.

**Паводок** – быстрый и краткий подъём воды в реке.

**Межень** – период самого низкого уровня воды в реке.



# Заполни таблицу, используя материалы учебника.

Признак реки	Горная река	Равнинная река
Скорость течения		
Долина		
Глубина		
Русло		

# *Подведём итоги*

**Река** – постоянный поток воды, протекающий в естественном углублении, называемом руслом

**Исток** – начало реки.

**Речная долина** - Широкое углубление на дне которого расположено русло реки

**Речная система** - Главная река со всеми её притоками

**Водораздел** - Граница, разделяющая соседние речные бассейны

**Устье** - Место впадения реки в море или другую реку

**Приток** - Река, впадающая в главную реку.



# Выполни задание:

1. Найди на карте России реки:

Волга, Лена, Амур.

2. Определи где у данных рек ИСТОК, а где УСТЬЕ ?

3. Есть ли у данных рек притоки? Как они называются? Какие левые, а какие правые?

4. Определи какие это реки – горные или равнинные?

# Домашнее задание:

- § 30, вопросы после параграфа.
- Подготовка к практической работе – «Реки»
- В контурной карте (мира) обозначить:
  - 1 крупные реки на всех материках,
  - 2 крупные водопады,
  - 3 определить координаты водопадов:  
Виктория, Ниагарский, Анхель.