

Урок математики во 2 классе МБОУ «ЗСОШ» по теме:  
«Свойство противоположных сторон прямоугольника»

# «Спасатели»



**Автор:** Гладилина Елена Владимировна  
**Должность:** учитель начальных классов  
**Место работы:** Кариан – Строгановский филиал МБОУ «ЗСОШ»





# Решите задачи



15 ПТИЦ



20 снегирей






# Задание «Замок, откройся!»




Выполните задание из конвертов

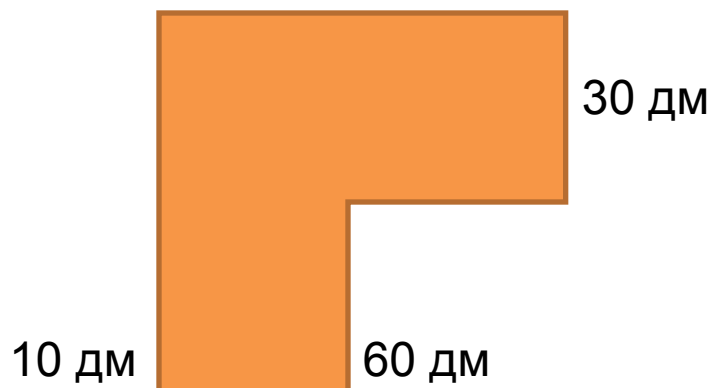
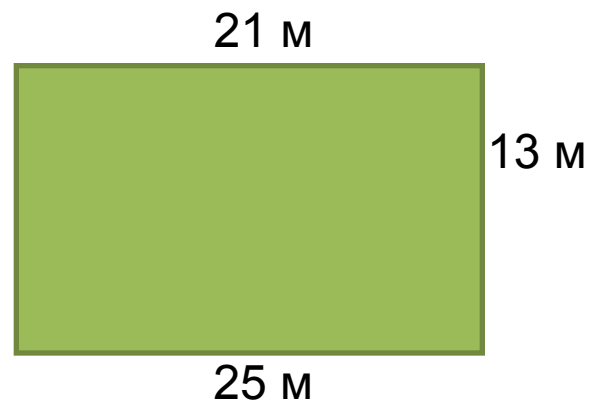
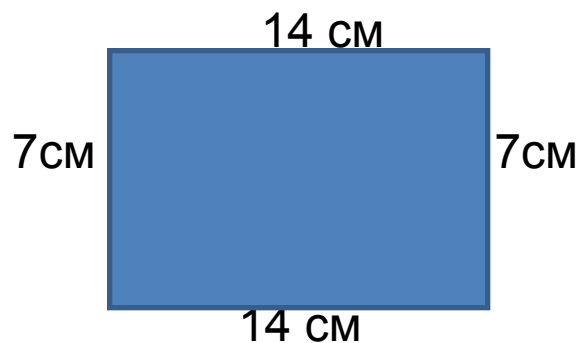




# Задание из конверта №1



Найдите ошибки.



## Задание из конверта №2



- Вычислите удобным способом.

$$36+18+2+4 = 60$$

$$27+6+14+3 = 50$$



$$17+20+40+3 = 80$$

$$29+50+1+20 = 100$$








# Задание «Замок, откройся!»






# Зарядка для глаз





***Сосчитайте, сколько на чертеже  
прямоугольников.***



*Задание от Кощея Бессмертного.  
Помогите Кощею ответить на вопросы.*

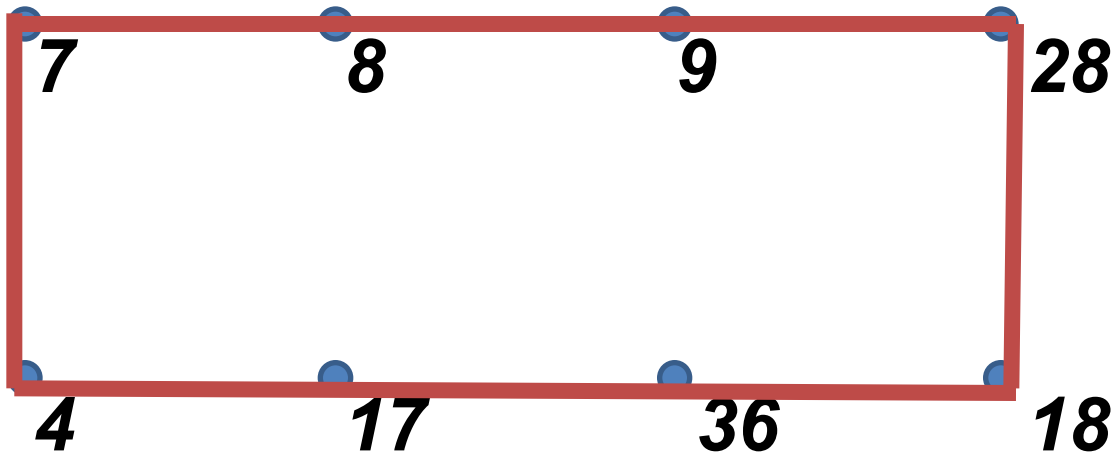




**Найдите на карточке ваши ответы и  
отметьте их цветным фломастером.**

• 6

• 10




• 12

• 0

• 75



Согните прямоугольники и сравните длину противоположных сторон.





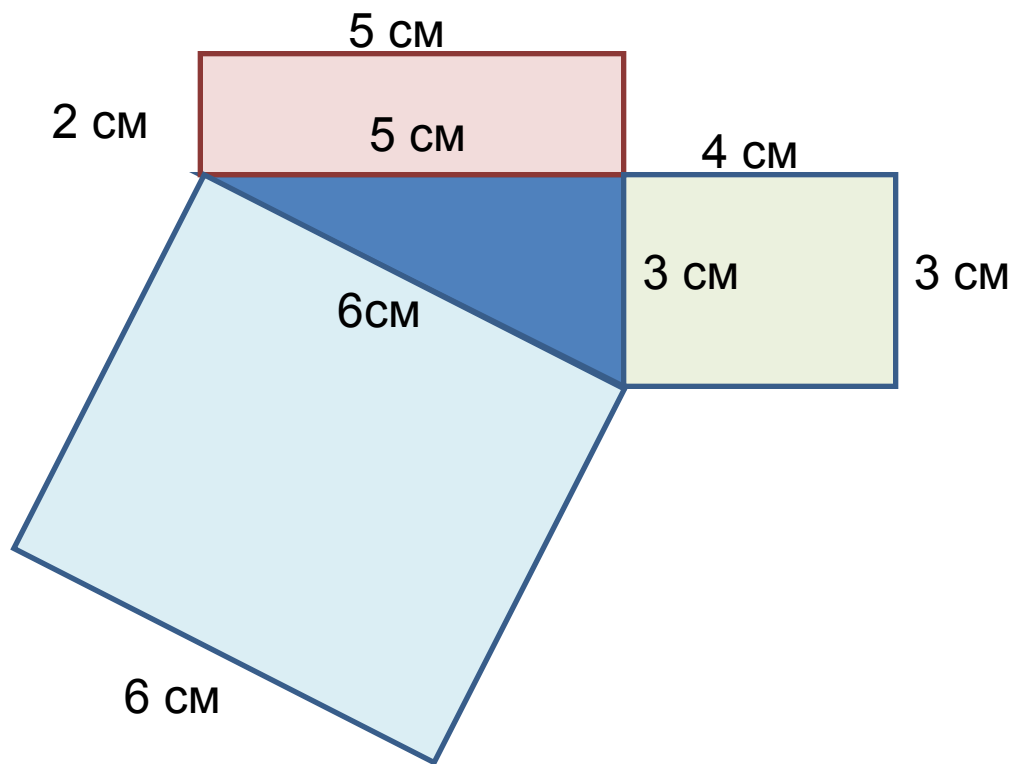
## Названия компонентов и результата действия при сложении:

- Первое слагаемое
- Второе слагаемое
- Сумма

$$12 + 24 = 36$$



Найдите периметр треугольника.







100

$$62+38$$

90

$$76+14$$

70


$$41+59$$

80

$$25+55$$





A vibrant, natural scene featuring a birch tree on the left with its characteristic white bark and dark lenticels. The foreground is filled with tall, green grass and various wildflowers, including a prominent white daisy. The background shows a dense forest of green trees under a bright, slightly hazy sky. The overall atmosphere is peaceful and verdant.

Спасибо за помощь!  
Удачи!