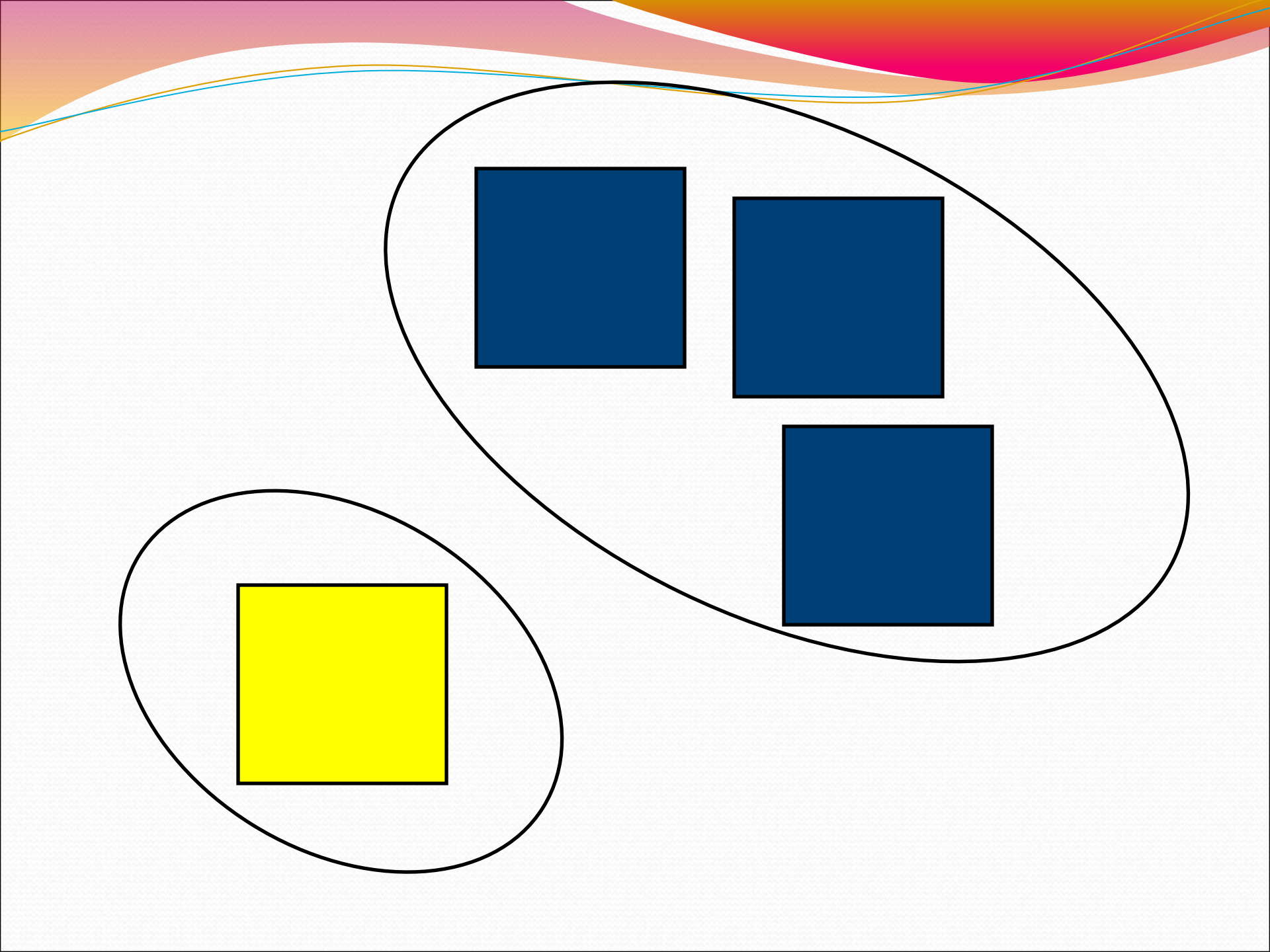



Dark Blue	Dark Blue
Yellow	Dark Blue



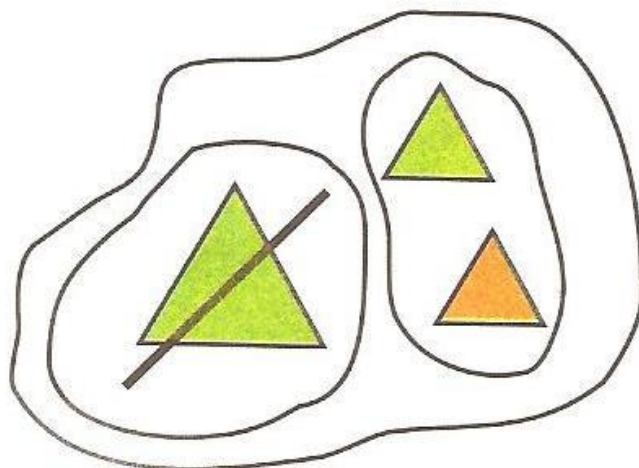
2

По какому признаку фигуры объединили вместе (в целое)? По какому признаку целое разбили на части? Подберите равенство к каждому рисунку.



$$3 - 1 = 2$$

$$1 + 2 = 3$$



$$3 - 2 = 1$$


$$2 + 1 = 3$$

3 Катя и Петя сделали рисунки и записали к ним выражения. Какие рассказы можно придумать по рисункам и выражениям? Найдите значения выражений. Запишите полученные равенства.



К.

$$\begin{array}{l} 1 + 2 \\ 2 + 1 \\ 3 - 1 \\ 3 - 2 \end{array}$$



П.

$$\begin{array}{l} 1 + 1 \\ 2 - 1 \end{array}$$