

Муниципальное бюджетное специальное (коррекционное) образовательное учреждение для обучающихся, воспитанников с ограниченными возможностями здоровья «Специальная (коррекционная) общеобразовательная школа №23»

Платить за услуги на индивидуальную подготовку от учителя




Учитель математики  
Ватутина Валентина Ивановна



# Загадки

**Часть слова первая – предлог,  
Вторая – мелкая монета,  
А весь он, он бы нам помог  
При счете, ну и что же это?**



# *Минутка познания*

*1% - это \_\_\_\_\_*

*Найти 1% от числа – значит найти*

\_\_\_\_\_

*Чтобы найти несколько процентов от  
числа, надо это число разделить на  
\_\_\_\_\_ и умножить на*

\_\_\_\_\_.



# Выберите верное равенство

1

$$1\% = 0,01$$

2

$$1\% = 0,001$$

3

$$1\% = 0,1$$

4

$$1\% = 1$$

**ПРАВИЛЬНО!**

**ПОДУМАЙ!**




1

2

3

4



# Выберите верное равенство

1

$$2\% = 0,02$$

2

$$2\% = 0,002$$

3

$$2\% = 0,2$$

4

$$2\% = 2$$

**ПРАВИЛЬНО!**

**ПОДУМАЙ!**




1

2

3

4



*Запишите десятичной дробью 8%*

**1**

0,008

**ПРАВИЛЬНО!**



**2**

0,08

**ПОДУМАЙ!**

**3**

8

**4**


0,8

1

2

3

4



# Запишите с помощью процентов 0,7

1

7%

2

0,07%

3

0,7%

4

70%

ПРАВИЛЬНО!

ПОДУМАЙ!




1

2

3

4



# Запишите с помощью процентов 0,03

1

30%

2

0,3%

3

3%

4

0,03%

**ПРАВИЛЬНО!**

**ПОДУМАЙ!**




1

2

3

4





*Чему равен 1% от 300 ?*

**1**

300

**2**

3

**3**

3 000

**4**

30

**ПРАВИЛЬНО!**

**ПОДУМАЙ!**




1

2

3

4



*Чему равны 2% от 80 ?*



**1**  
160

**ПРАВИЛЬНО!**

**2**  
16

**ПОДУМАЙ!**

**3**  
1,6


**4**  
0,16

1

2

3

4



*Чему равны 25% от 180 ?*

*1*

45



*2*

4,5

*ПРАВИЛЬНО!*

*3*

60

*ПОДУМАЙ!*

*4*


0,45

1


2



3


4







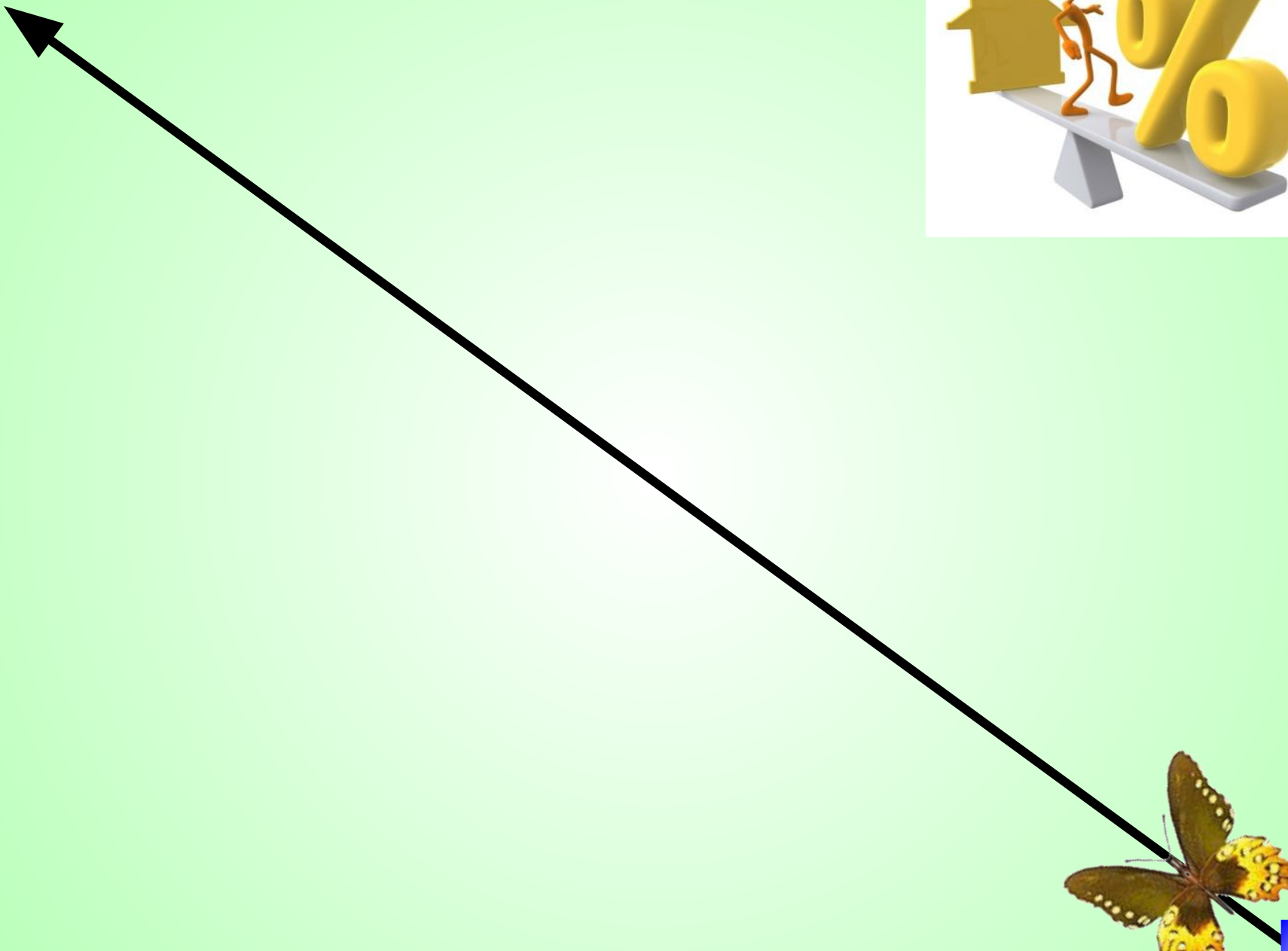
# Гимнастика для глаз






















# *Берегите зрение*



*Из пшеницы получается 60 % муки. Сколько тонн муки получится из 3,5 тонн пшеницы?*



**ПРАВИЛЬНО!**

**ПОДУМАЙ!**

**1**  
4,2

**2**  
21

**3**  
0,21


**4**  
2,1

1

2

3

4



*После уценки компьютера его новая цена составила 0,9 старой. Сколько процентов от старой цены составляет новая?*

**ПРАВИЛЬНО!**

**0,9**

**ПОДУМАЙ!**

**9**

**10**


**90**

1

2

3

4



*Куртка стоит 4800р. Во время весенних скидок цену куртки снизили на 20%. Какой стала цена после весенних скидок?*

1

4100

ПРАВИЛЬНО!

4

3940

2

4000

3

3840

ПОДУМАЙ...




1

2

3

4



# Самостоятельная работа

Работа с учебником  
стр.87 №456(1ст).

0,33

0,16

12,2625

0,438

3,598





*Задание на дом*  
*стр. 87 №456(2-3ст)*

