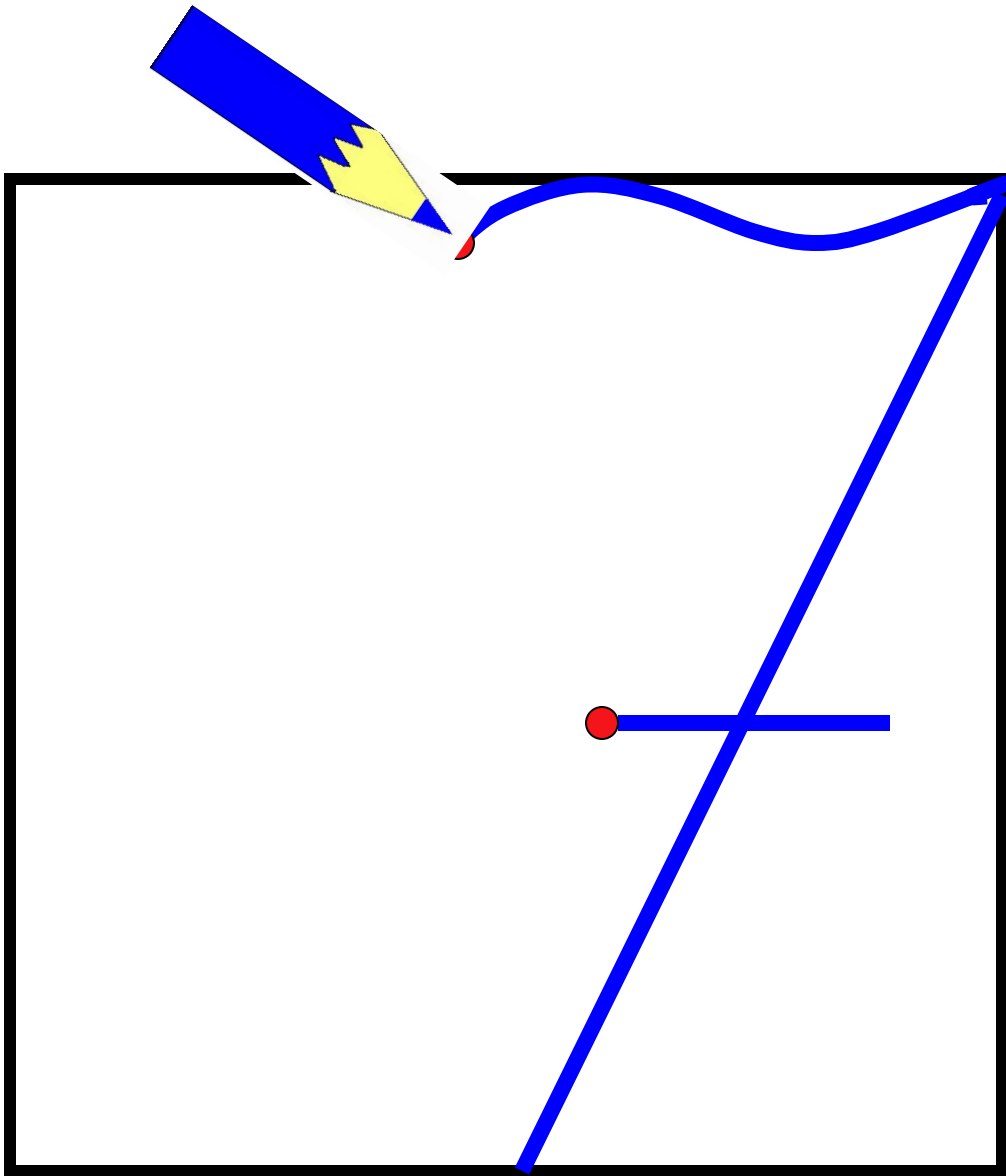


**Новогодние
приключения
с *Котом*
Леопольдом**

Ты ведь знаешь дни
недели?
Посчитай-ка
поживей!
Если в счёте не
собиёшься –
То получишь
ровно....





1

2

3

4

5

7

6

9

8

*Какие цифры стоят не на своем
месте,
куда их нужно поставить?*





4

2

6

3

5

л

б

а

е

к



Если вы правильно расставите цифры в порядке возрастания, узнаете, кто повстречался Пеопольду в зимнем лесу.


Реши задачи

Две мышки проникли в квартиру,
Решили попробовать сыру.



Тут следом явились подружки –
Три сереньких мышки-норушки

Кот спал в это время на крыше,
Про этот не ведая пир.
А ну, сосчитай, сколько мышек
Съели оставленный сыр?



Десять ёлочек в лесу росли,
В школу на праздник одну привезли.
Сколько ёлок осталось там?



Жили-были мышки,
Мышки-шалунишки.
На страницу сели,
В примерах цифры съели.


$$5 + 1 \dots =$$

$$6 - 2 \dots = 5$$

$$4 + 4 \dots =$$

8





$$8 \geq 3$$

$$5 \dots \\ 7 <$$

$$3 \equiv 3$$

$$0 \leq 7$$

$$1 \geq 0$$

С Новым
Годом!

Татьянка

