


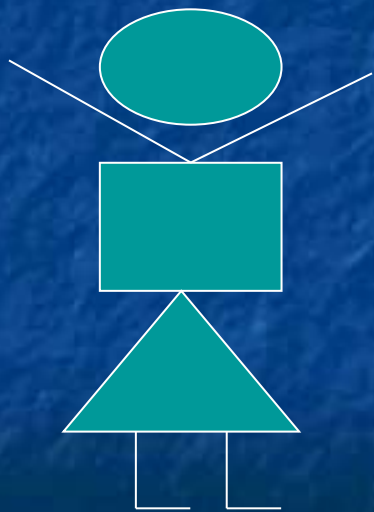
Числа 1-5.

Состав числа 5 из двух слагаемых




УСТНЫЙ СЧЁТ


1) Назвать геометрические фигуры, из которых составлены человечки. Чем они отличаются друг от друга?





**2) Сколько понадобится палочек,
чтобы выложить пятиконечную
звезду?**




3) «Засветило солнышко – выглянуло в окошечко»

$2 + 3 =$ 

$5 - 3 =$ 

$5 - 1 =$ 

$1 + 4 =$ 

**4) «4 краски есть у Сани,
1 маленького брата.
Все краски посчитайте сами.
Ну, постарайтесь-ка, ребята!»»**

**«Как-то 4-ро ребят
С горки покатались.
Двое в саночках сидят,
Сколько в снег свалились?»»**


II Новая тема

1) Игра «Заселяем домики»




2) Работа с математическим набором

- Положите 5 кружков. Как эти кружки можно разделить в два конверта?



3) Игра «Заселяем домик»»



4) Работа по учебнику (стр. 34-35)

1) – рассмотреть картинки и объяснить, как разными способами можно посадить 5 девочек на скамейки.

2) - рассмотреть рисунок с шариками.

 Сколько красных шаров на проволоке в верхнем ряду?

 Сколько синих?

 Сколько всего шариков?

 Как получить 5?

 Как это записано?

 Всего 5 шариков. Из них 1 синий.
Сколько красных?

III Закрепление

Стр. 35 - устно

IV ИТОГ

- Вспомните, как получили число 5?