

Сьогодні
23.05.2023

Урок
№12

7



**Зручний спосіб обчислення.
Віднімання двоцифрових чисел.
Задача на різницеве порівняння.
Розрізнення плоских геометричних
фігур.**

Сьогодні
23.05.2023

Підготовчі вправи. Актуалізація вмінь порівнювати числа в межах
100

❖ Розташуйте числа в порядку зростання.



36

17

58

22

40

84

63

97

Сьогодні
23.05.2023

Підготовчі вправи. Актуалізація вмінь порівнювати числа в межах 100

❖ Розташуйте числа в порядку спадання.



17

22

36

40

58

63

84

97



**В морях сивих проживаю,
В темних водах корм шукаю.
Хвостик мій на якір схожий
Я кидаю там де зможу.
Що за дивина - конячка?
Не страшна морська їй качка:
Кінь не сіє й не оре.
Під водою вальс веде.
Ні до чого йому човник:
це цікавий ...**



**МОРСЬКИЙ
КОНИК**

 $10 + 11$

 21

 $92 - 2$

 90

 92

 $51 + 41$

 $4 + 60$

 64


 10

 $20 - 10$

 $50 + 10$



60

 $70 - 4$



66

 $10 + 3$




13

 $33 + 5$



38

 $15 + 1$




16



Морські коники є самими повільними морськими рибами в світі. 1,5 м відстань долають тільки за годину. Але незважаючи на це, вони здатні зловити здобич, яка швидко рухається.



Склади вирази за таблицею та обчисли їхні значення.



Доданок	20	2	35	69	11	81	47	34
Доданок	40	67	30	0	22	7	40	43
Сума	60	69	65	69	33	88	87	77

Сьогодні
23.05.2023

Мотивація навчальної діяльності. Робота з нумераційною таблицею

Прочитайте числа,
у складі яких є 7
одиниць.

Назвіть числа, що
на десяток менші
та більші
поданого: 20, 50, 80.

1	2	3	4	5	6	7	8	9	10
11	12	13	14	15	16	17	18	19	20
21	22	23	24	25	26	27	28	29	30
31	32	33	34	35	36	37	38	39	40
41	42	43	44	45	46	47	48	49	50
51	52	53	54	55	56	57	58	59	60
61	62	63	64	65	66	67	68	69	70
71	72	73	74	75	76	77	78	79	80
81	82	83	84	85	86	87	88	89	90
91	92	93	94	95	96	97	98	99	100

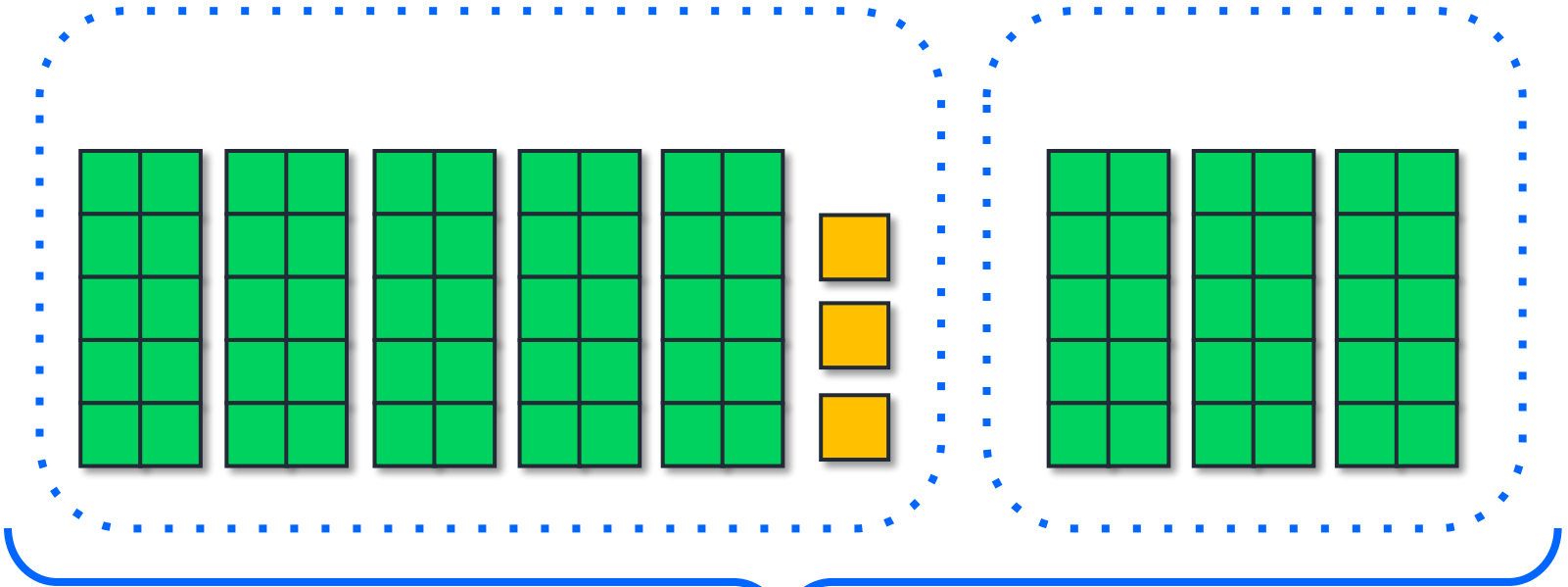
Сьогодні
23.05.2023

Робота з підручником. Дії з десятками

Обери зручний для себе спосіб обчислення виразу $50 + 3 + 30$.



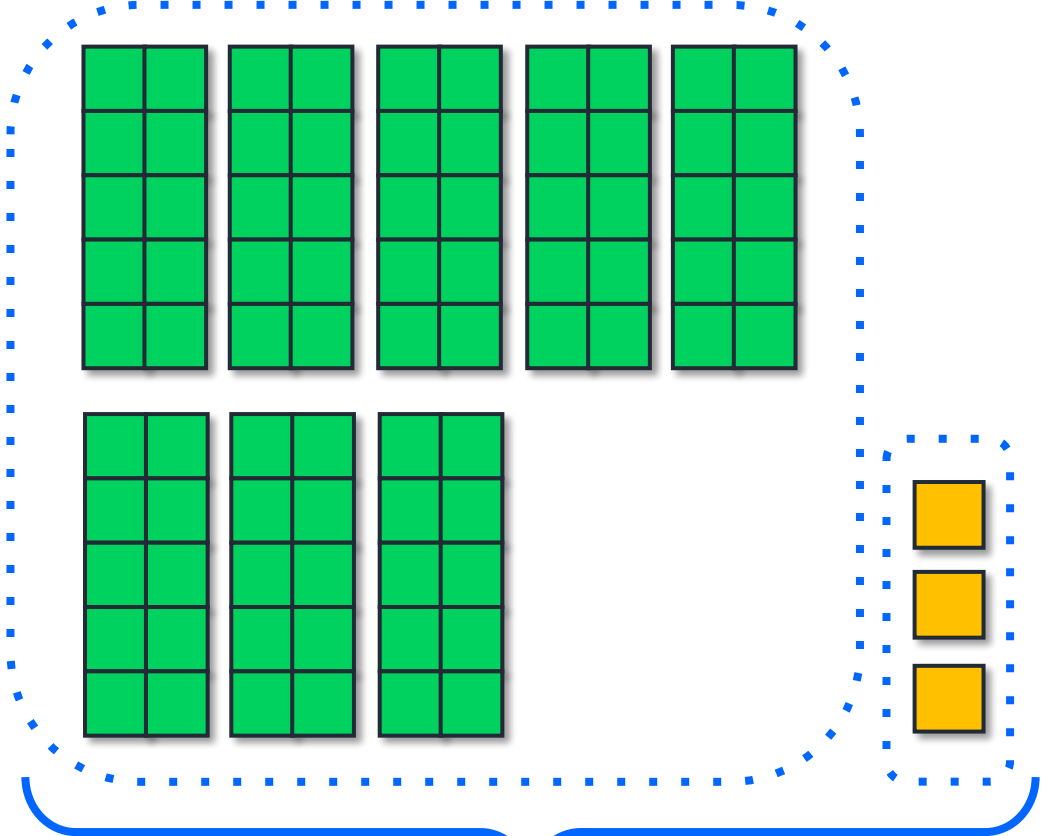
1 спосіб



$$50 + 3 + 30 = 53 + 30 = \boxed{83}$$

2

Другий спосіб.



$$50 + 30 + 3 = 80 + 3 = \boxed{83}$$

Сьогодні
23.05.2023

Робота з підручником. Обчислення виразів

Обчисли зручним
для тебе способом.



$$60 + 4 + 20 = 84$$

$$10 + 9 + 10 = 29$$

$$4 + 70 + 5 = 79$$

Сьогодні
23.05.2023

Робота з підручником. Обчислення виразів

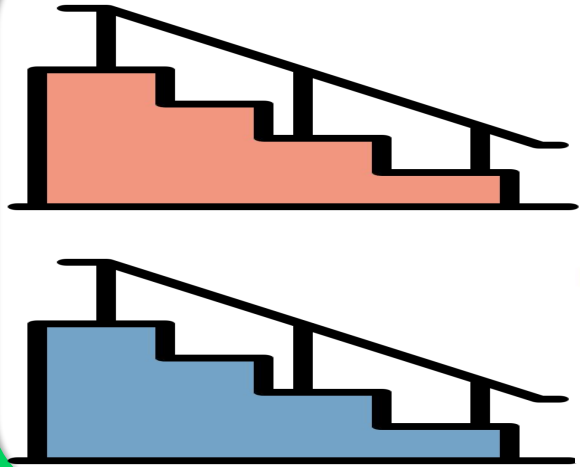
Обчисли зручним
для тебе способом.



$$5 + 30 + 2 = 37$$

$$70 + 8 + 20 = 98$$

$$30 + 5 + 50 = 85$$




– 24 сх.



– 36 сх.

?



До Світланчиної квартири треба пройти 24 сходинки, а до квартири Олесі — 36

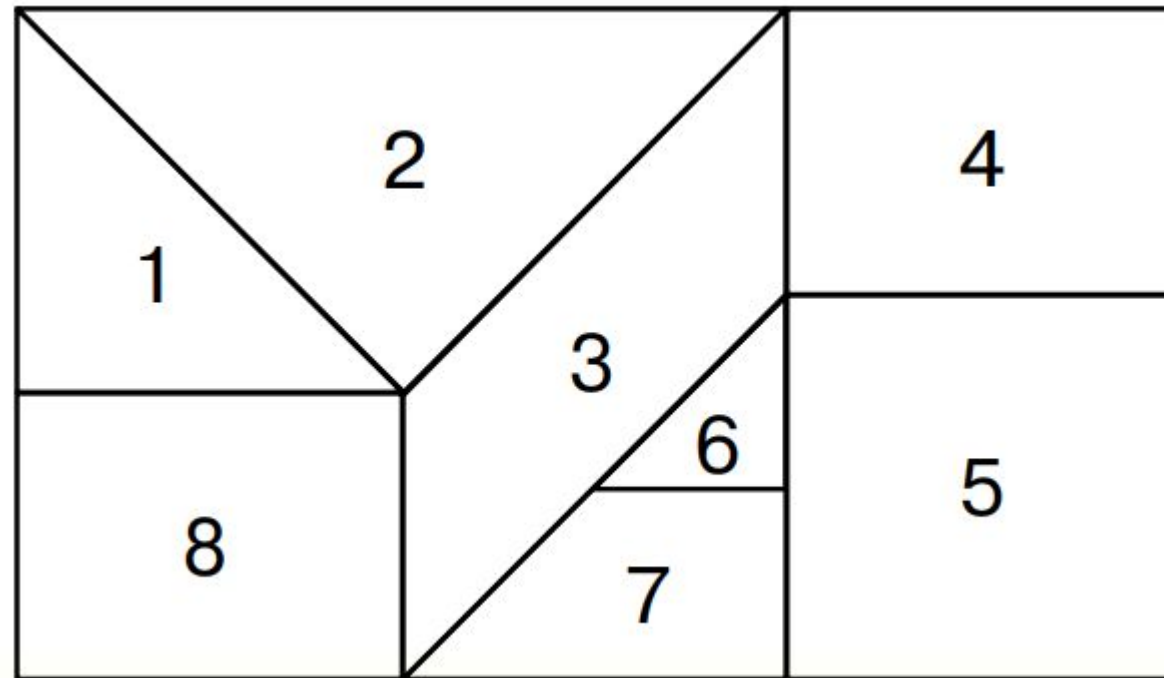


сходинок
На скільки сходинок довший шлях до квартири Олесі?

$$36 - 24 = 12 \text{ (сх.)}$$

Відповідь на 12 сходинок довший.

Розглянь чотирикутник. Він складається з різних фігур. Назви номери фігур, які є чотирикутниками; трикутниками. Серед цих фігур є дві однакові (рівні). Назви їхні номери.



Чотирикутники 8, 3, 7, 4, 5

Трикутники 1, 2, 6

Однакові (рівні) 8 і 4




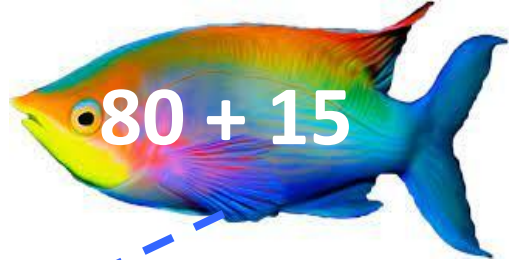

Сьогодні
23.05.2023

**Робота у зошиті
(сторінка 49).**



Робота в зошиті

- Помісти кожну рибку в акваріум із числом, що є значенням виразу, записаного на ній (з'єднай лінією).



Сьогодні
23.05.2023

Робота у зошиті

- Скільки літрів фарби треба долити, щоб відро стало повним?

Є у відрі	10 л	22 л	20 л	15 л	5 л
Треба долити	15 л	3 л	5 л	10 л	20 л



- Запиши вирази й обчисли їх значення.

- Зменшуване – 55, від'ємник – 12. Знайди різницю.

$$\boxed{}\boxed{}55 - 12 = 43\boxed{}\boxed{}\boxed{}$$

- Числа 20 і 30 – це доданки. Знайди суму.

$$\boxed{}\boxed{}20 + 30 = 50\boxed{}\boxed{}\boxed{}$$













- Число 43 збільш на 30.

$$\boxed{}\boxed{}43 + 30 = 73\boxed{}\boxed{}\boxed{}$$



Сьогодні
23.05.2023

Повторення на порівняння чисел. Гра «Збираємо мед»

	8	>	1 на	7	
	5	<	7 на	2	
	3	<	5 на	2	
	2	<	7 на	5	
	1	<	8 на	7	
	4	<	6 на	2	



Сьогодні
23.05.2023

(щоби відкрити інтерактивне завдання, натисніть на помаранчевий прямокутник)

**Відкрити онлайнове
інтерактивне завдання**