

Математика

Сьогодні
15.11.2022

Урок
№35



**Додавання і віднімання числа
1.**

**Додавання й віднімання за
числовим відрізком**



очі
дивляться



ротик
мовчить



вуха
слухають



руки, ноги
не
рухаються



голова
працює

Дай мені 5







$8 - 7 = 1$

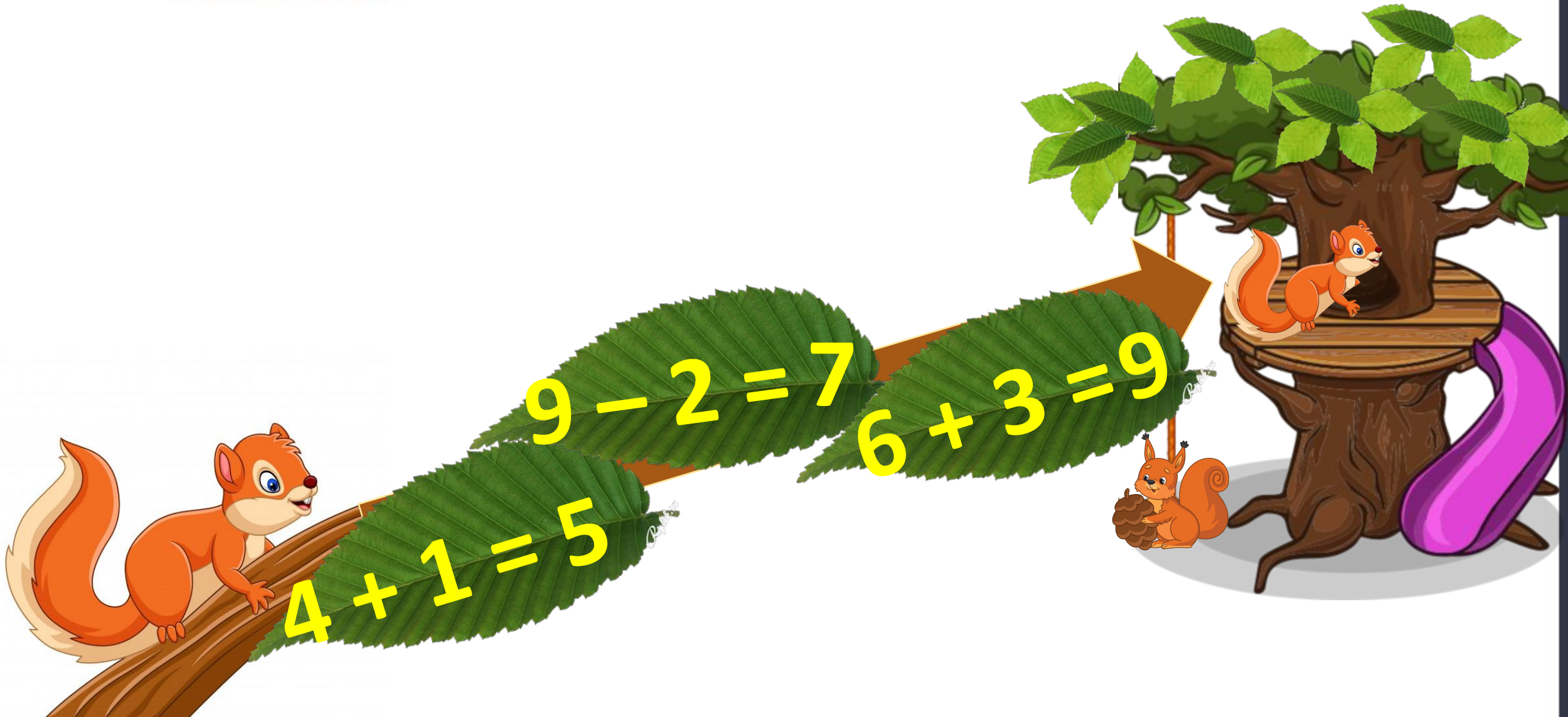
$5 + 2 = 7$

$7 - 3 = 4$



Сьогодні
15.11.2022

Математичні приклади. Гра «Допоможи звірятам потрапити додому».



Ведмежатко вранці встало
І важливе щось згадало.
Математику відкрило
І **шість** прикладів зробило.
Потім встало, потягнулось

І шість раз перевернулось.
Ще **задачу** розв'язало,
А, втомившись, устало
І замислилось на мить:
Скільки всіх завдань
устиг зробити?

$$6 + 1 = 7$$




Зловив Василько **вісім** риб.

Одна з них в воду раптом —
стриб!

Відповідайте: рибок

тепер зосталось у
Василька?



$$8 - 1 = 7$$

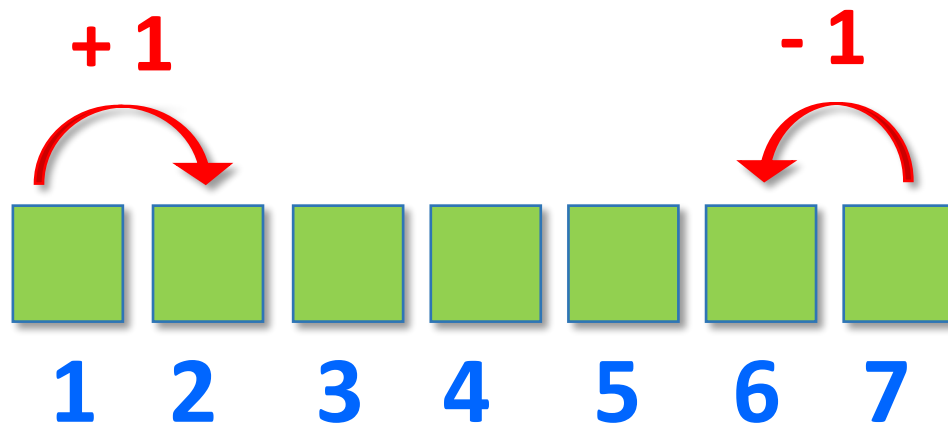




Вміє чапля рахувати.
Може й цифру показати.
Шию вгору тягне птиця,
Дзьоб – униз. Це – ...

ОДИНИЦЯ





Заберемо 1 квадрат. Скільки тепер залишилося?
(9.) Приберемо ще 1. На скільки зменшилася
кількість квадратів? (На 1.) Скільки квадратів
тепер? (8.) Яке число ми отримали? (Попереднє.)




- Сьогодні на уроці ми будемо додавати і віднімати число 1.
- Додавати й віднімати за числовим відрізком.



- ❖ Полічи фігури в кожному рядку.
- ❖ Розглянь, як утворені таблиці.

Треба запам'ятати
результати додавання
і віднімання числа 1.



$$1 + 1 = 2$$

$$2 + 1 = 3$$

$$3 + 1 = 4$$

$$4 + 1 = 5$$

$$5 + 1 = 6$$

$$6 + 1 = 7$$

$$7 + 1 = 8$$

$$8 + 1 = 9$$

$$9 + 1 = 10$$

$$2 - 1 = 1$$

$$3 - 1 = 2$$

$$4 - 1 = 3$$

$$5 - 1 = 4$$

$$6 - 1 = 5$$

$$7 - 1 = 6$$

$$8 - 1 = 7$$

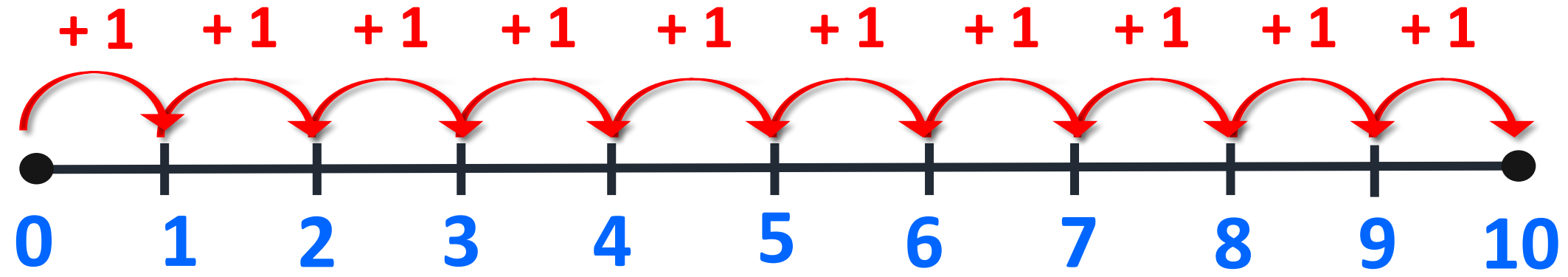
$$9 - 1 = 8$$

$$10 - 1 = 9$$



Сьогодні
15.11.2022

Робота з підручником. Наступне число.



Виконай додавання за допомогою
числового відрізка.

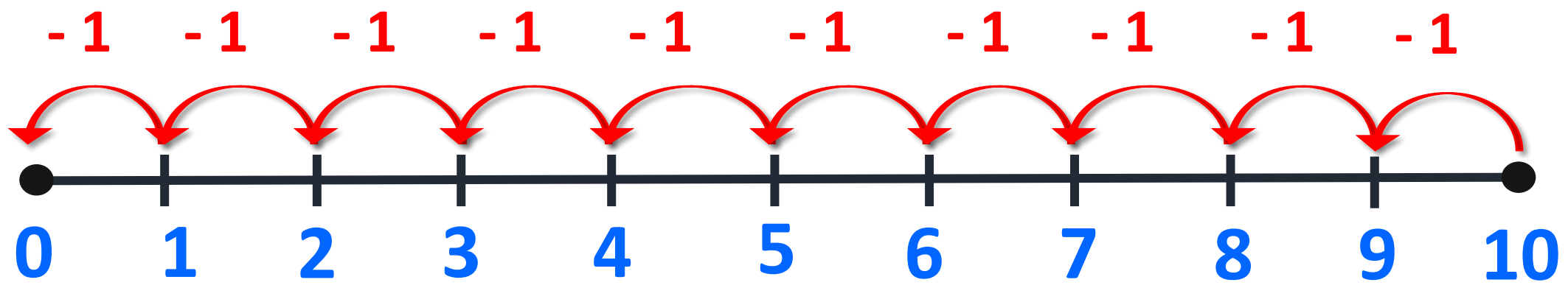




Додаючи число 1,
дістаємо ***наступне число.***

Сьогодні
15.11.2022

Робота з підручником. Попереднє число.



Виконай віднімання за допомогою
числового відрізка.





Віднімаючи число 1,
дістаємо **попереднє**
число.

Сьогодні
15.11.2022

Додавання і віднімання числа 1

Обчисли.



$$2 + 1 = 3$$

$$1 - 1 = 0$$

$$6 + 1 = 7$$

$$5 - 1 = 4$$

$$8 + 1 = 9$$

$$7 - 1 = 6$$



РУХЛИВА

ВПРАВА




Сьогодні
15.11.2022

**Робота у зошиті
(сторінка 34).**



- Виконай додавання числа 1.



$1 + 1 = 2$

$4 + 1 = 5$

$7 + 1 = 8$

$2 + 1 = 3$

$5 + 1 = 6$


$8 + 1 = 9$

$3 + 1 = 4$

$6 + 1 = 7$

$9 + 1 = 10$

- Виконай віднімання числа 1.



$2 - 1 = 1$

$5 - 1 = 4$

$8 - 1 = 7$

$3 - 1 = 2$

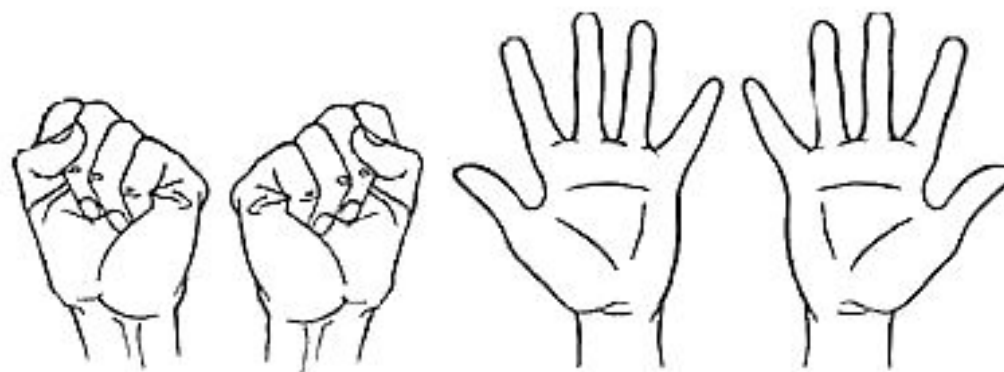
$6 - 1 = 5$

$9 - 1 = 8$

$4 - 1 = 3$

$7 - 1 = 6$

$10 - 1 = 9$



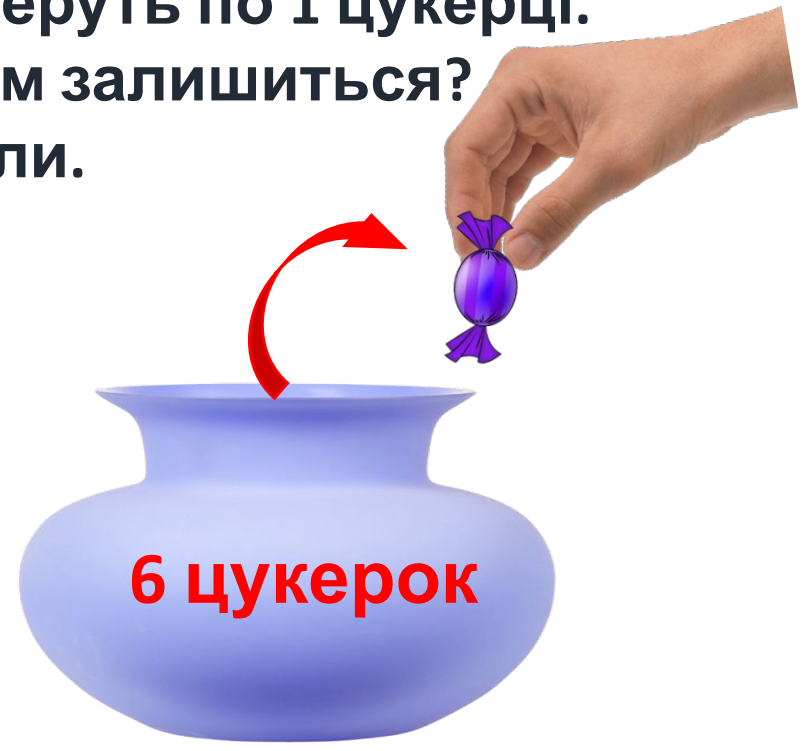
5-6 разів

Робота у зошиті

- З кожної цукерниці заберуть по 1 цукерці.
- Скільки цукерок там залишиться?
- Обчисли.



$$5 - 1 = \boxed{4}$$

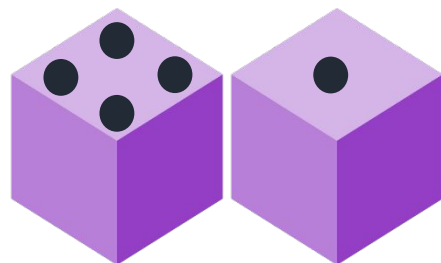


$$6 - 1 = \boxed{5}$$


- Скільки очок набрав кожен гравець? Обчисли.



Олег



	4	+	1	=	5		

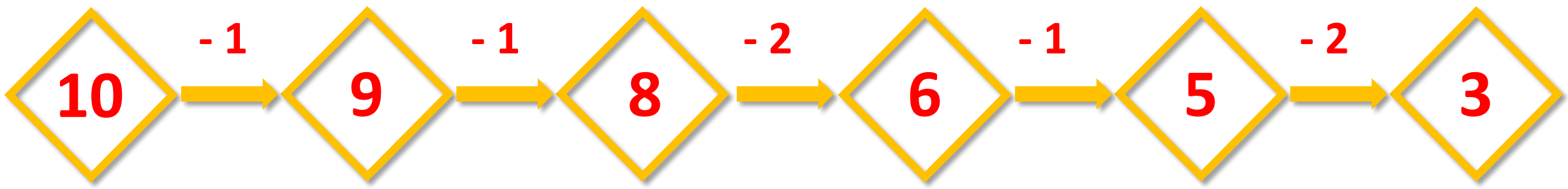
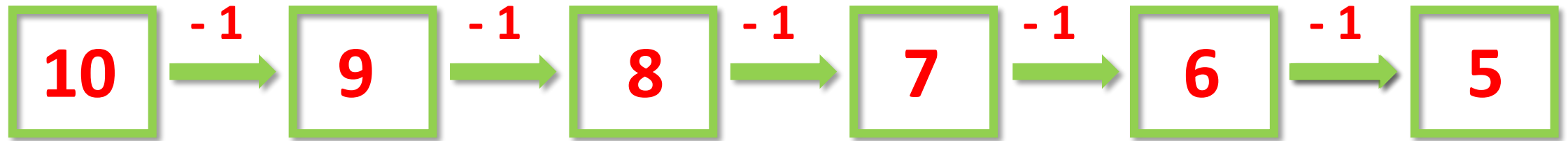


	1	+	3	=	4		



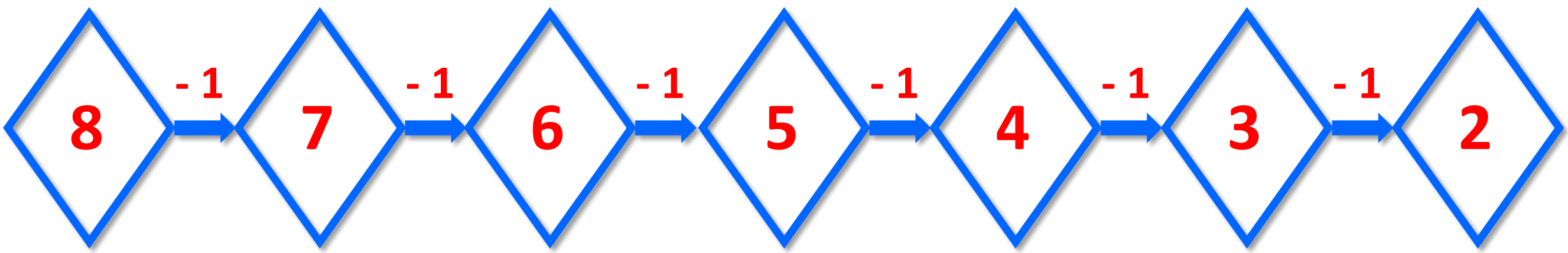
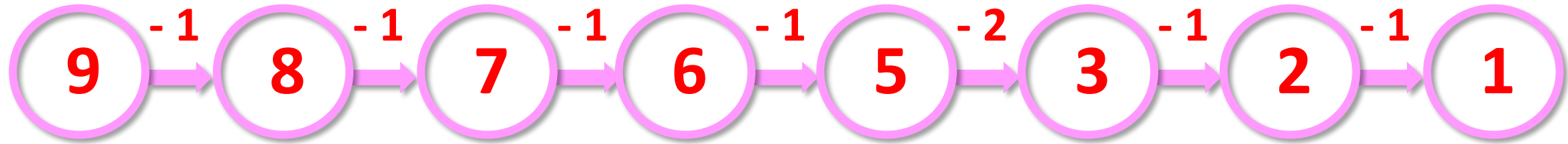
Микола

Закріплення вивченого матеріалу. Гра «Хто швидше?».
Розв'язування ланцюжків.



Сьогодні
15.11.2022

Закріплення вивченого матеріалу. Гра «Хто швидше?».
Розв'язування ланцюжків.



Сьогодні
15.11.2022

Рефлексія. Оберіть відповідну цеглинку LEGO

Цеглинку лего підійміть, зустріч нашу ОЦІНІТЬ

